

BACCALAUREAT PROFESSIONNEL

Etude et Définition de Produits Industriels

Epreuve E3 - Unité : U 34

Réalisation d'un projet en CAO

Durée : 10 heures

Coefficient : 4

Compétences et connaissances technologiques associées sur lesquelles porte l'épreuve :

- C 11 : Décoder un CDCF**
- C 12 : Analyser un produit**
- C 14 : Collecter les données**
- C 21 : Organiser son travail**
- C 31 : Définir une solution, un projet en exploitant des outils informatiques**
- C 41 : Communiquer dans la cadre d'une revue de projet**

- S 1 : Analyse fonctionnelle et structurelle
- S 2 : La compétitivité des produits industriels**
- S 3 : Représentation d'un produit technique**
- S 4 : Comportement des systèmes mécaniques – Vérification et dimensionnement
- S 5 : Solutions constructives – Procédés – Matériaux**
- S 6 : Ergonomie – Sécurité

Ce sujet comporte :

- 16 documents repérés de 1/16 à 16/16
- Un Compact Disc (CD) contenant :
 - Les fichiers du convoyeur
 - Les fichiers nécessaires pour la modification
 - Un diaporama pour la présentation du répartiteur

Documents à rendre par le candidat (y compris ceux non exploités par le candidat) :

- Un CD contenant tous les fichiers de la nouvelle solution
- Une sortie papier de la mise en plan demandée du plateau
- Une sortie papier de la mise en plan demandée du répartiteur de terre modifié

Ces documents ne porteront pas l'identité du candidat, ils seront agrafés à une copie d'examen par le surveillant

Calculatrice et documents personnels autorisés.

FICHE BAREME : ELABORATION DU PROJET

Elaboration du projet : Durée 8h – coefficient 3 (notation sur 60)

ATTENTION : Le candidat est responsable de la sauvegarde régulière de son travail dans le dossier qui lui est réservé.

	Tâches	Points sur 60	
Début de session	Mise sous tension du poste informatique et des périphériques	Non évalué	
	Renommer le dossier U34 – 2011 en U34 – 2011 – XXXX (où XXXX est le numéro du candidat)		
	Vérifier la présence des fichiers de travail dans le dossier cité ci-dessus		
Réalisation du Projet en CAO	Réaliser la liaison glissière entre le {support répartiteur } et les {montants éparpilleurs}	.../10	.../60
	Assurer le réglage en hauteur de la herse	.../15	
	Modifier la herse et réaliser l'accouplement rigide entre le moto-réducteur et la herse tournante	.../15	
	Modifier la liaison fixe entre les doigts et le plateau	.../10	
	Etablir la mise en plan du plateau	.../5	
	Etablir la mise en plan du répartiteur modifié avec la nomenclature partielle	.../5	
Fin de session	Effectuer les impressions	Non évalué	
	Vérification de la présence des fichiers de travail dans le dossier U34 – 2011 – XXXX (par le candidat et le surveillant)		
	Transfert des fichiers vers un support externe (graveur ou ZIP) avec l'aide du surveillant		
	Vérification de la présence des fichiers de travail sur le support externe (par le candidat et le surveillant)		
	Émarger la fiche de suivi		

Renommer le dossier U34 – 2011 en U34 – 2011 – XXXX
(où XXXX est le numéro du candidat)

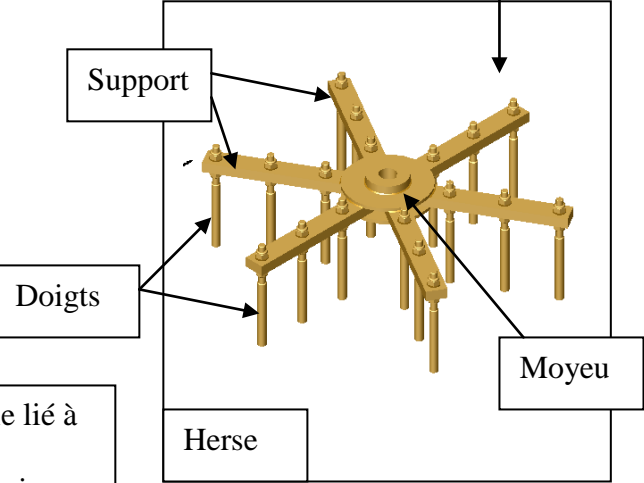
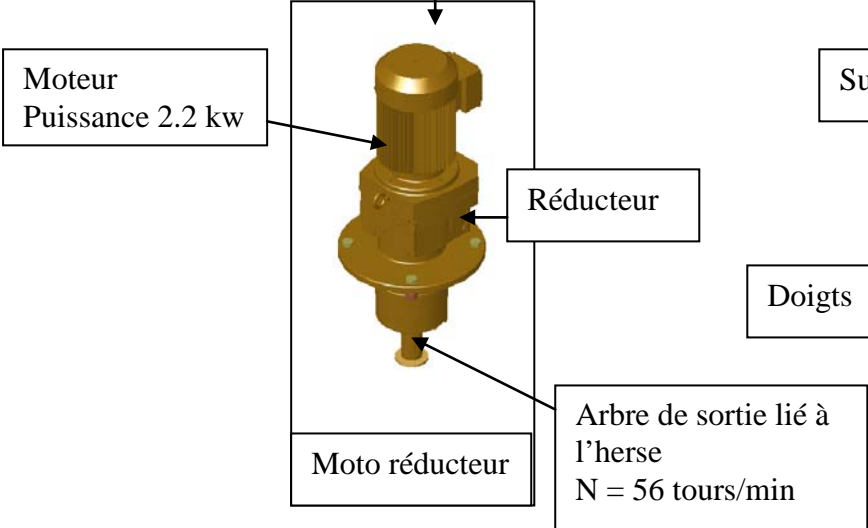
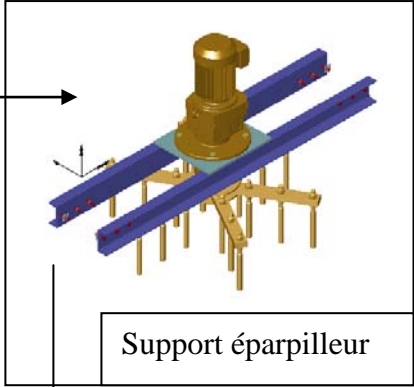
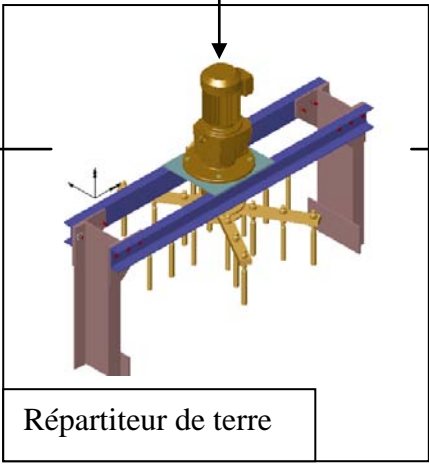
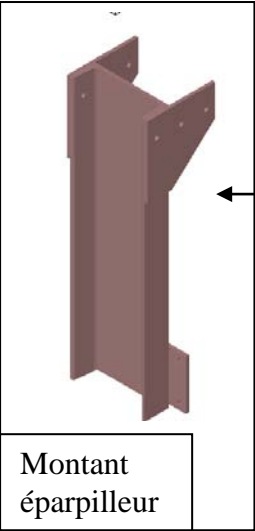
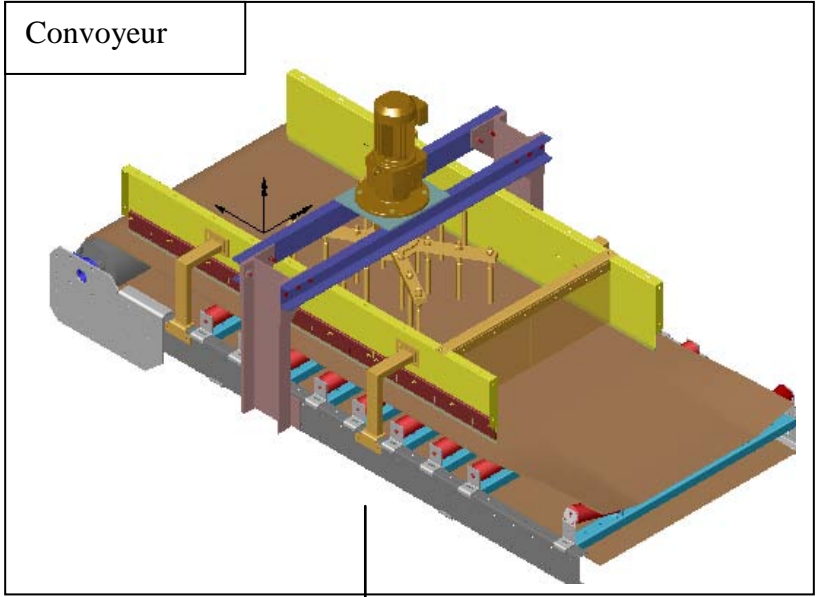
Dossier technique

Présentation du mécanisme

Ouvrir le fichier (présentation du répartiteur.pps) dans le dossier U 34-2011-XXXX .

Ce diaporama situe le convoyeur dans son environnement .

1- Eclaté des principaux éléments du Convoyeur

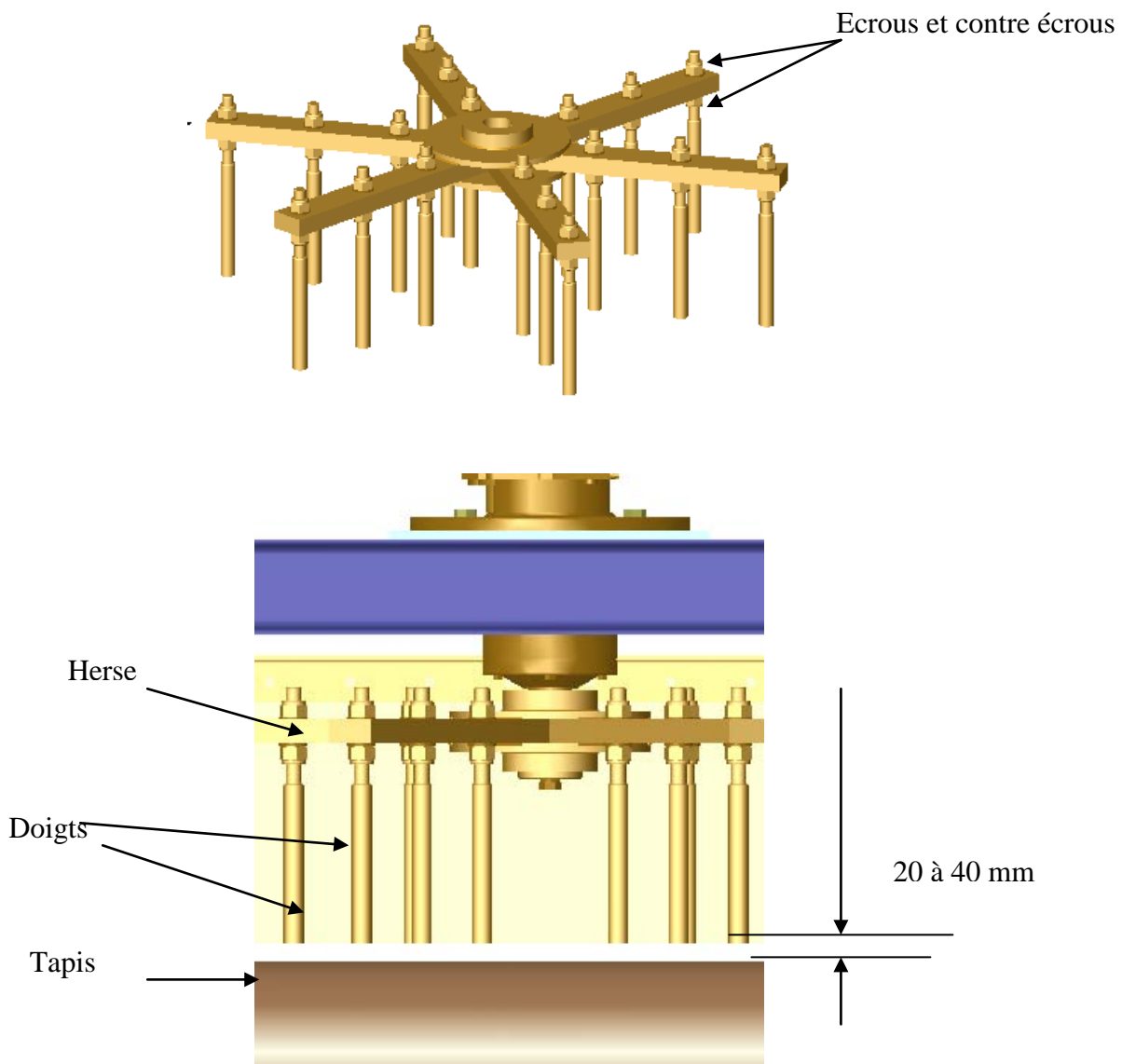


2-Problématique :

Pour assurer correctement sa fonction, le répartiteur doit être positionné au dessus du tapis avec **une distance entre les dents de l'herse et du tapis comprise entre 20 mm au minimum et 40 mm au maximum**. Lorsque la distance dépasse 40 mm le répartiteur ne joue plus son rôle efficacement.

En fonctionnement, l'argile use énormément les dents du répartiteur. Il faut donc les régler régulièrement pour obtenir à nouveau la bonne distance de travail. Le réglage actuellement est réalisé par la maintenance avec un système d'écrou et contre-écrou. Ce qui implique **un temps de réglage assez long** puisqu'il faut régler chaque doigt individuellement (18 au total). De plus, le milieu humide et argileux ainsi que l'accès difficile compliquent fortement le réglage des dents.

La herse est réalisée en **mécano-soudée**. Après assemblage par soudure des différents éléments, il apparaît des défauts de positions relatives entre les pièces soudées. Ces différents défauts **engendrent des vibrations** lorsque la herse tourne.



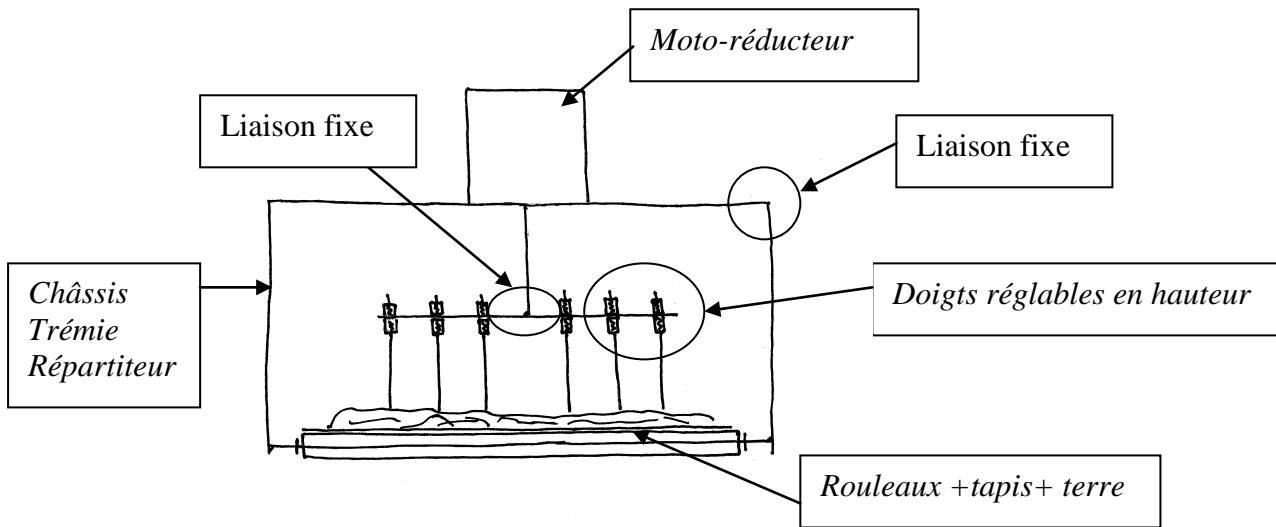
Le bureau d'études, après analyse des problèmes propose une modification du répartiteur de terre qui permettra d'améliorer le système de réglage et de réduire le temps d'intervention. La herse sera reconçue pour limiter les vibrations.

Dossier Travail

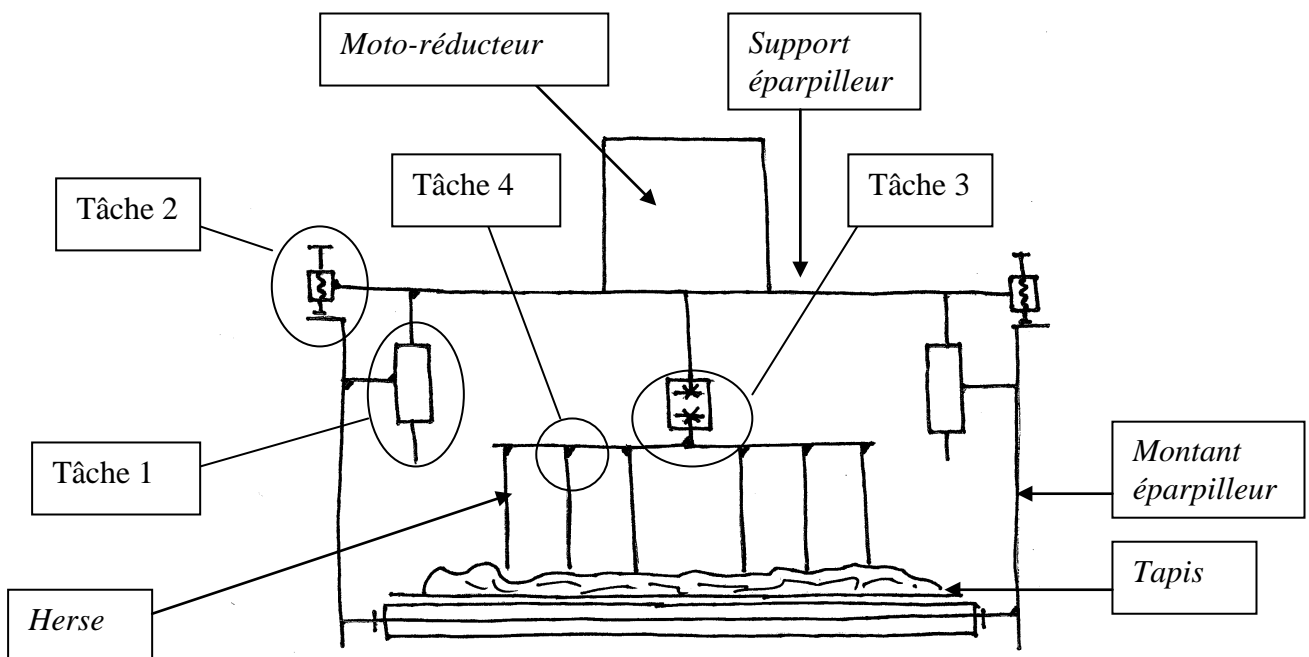
Modifications demandées

3-Schémas

Solution actuelle



Solution modifiée



Dans la solution modifiée, le bureau d'études a décidé les modifications suivantes :

- Pour éviter le réglage long et difficile, le support éparpilleur sera réglable en hauteur par rapport au tapis.

- Une nouvelle herse sera conçue à partir d'un plateau circulaire taillé dans une tôle pour limiter les vibrations provoquées par la conception en mécano-soudée de la solution actuelle.

La herse sera montée sur l'arbre moteur par un accouplement rigide, ceci afin de réduire le temps de changement de l'herse

- Pour éviter le réglage long et difficile, les doigts seront en liaison encastrement non réglable sur le plateau circulaire

4 Travail à réaliser

Tâche 1 :

Réaliser la liaison glissière entre le {support éparpilleur} et les {montants éparpilleur}.

Tâche 2 :

Assurer le réglage en hauteur de la herse .

Tâche 3 :

Modifier la herse et réaliser l'accouplement rigide entre le {moto réducteur} et la {herse} .

Tâche 4 :

Modifier la liaison encastrement entre les doigts et le plateau .

Tâche 5 :

Etablir la mise en plan du géométral du plateau de la herse.

Tâche 6 :

Etablir la mise en plan du répartiteur modifié et inclure une nomenclature.

5 Résultats attendus :

-La maquette numérique 3d modifiée.

-La mise en plan :
-du nouveau plateau de la herse .
-du répartiteur de terre modifié .

IMPORTANT

Pour permettre un retour éventuel vers la solution initiale en cas d'erreur ,il est demandé au candidat :

-Chaque pièce modifiée est « enregistrer sous » nom initial+ modifié
exemple : le fichier **Profilé UPN 240.sldprt** devient **Profilé UPN 240 modifié. sldprt**

-Chaque sous-ensemble modifié est « enregistrer sous » nom initial+ modifié

exemple : le fichier **MONTANT EPARPILLEUR.sldasm**
devient **MONTANT EPARPILLEUR modifié .sldasm**

6 Conduite de l'étude

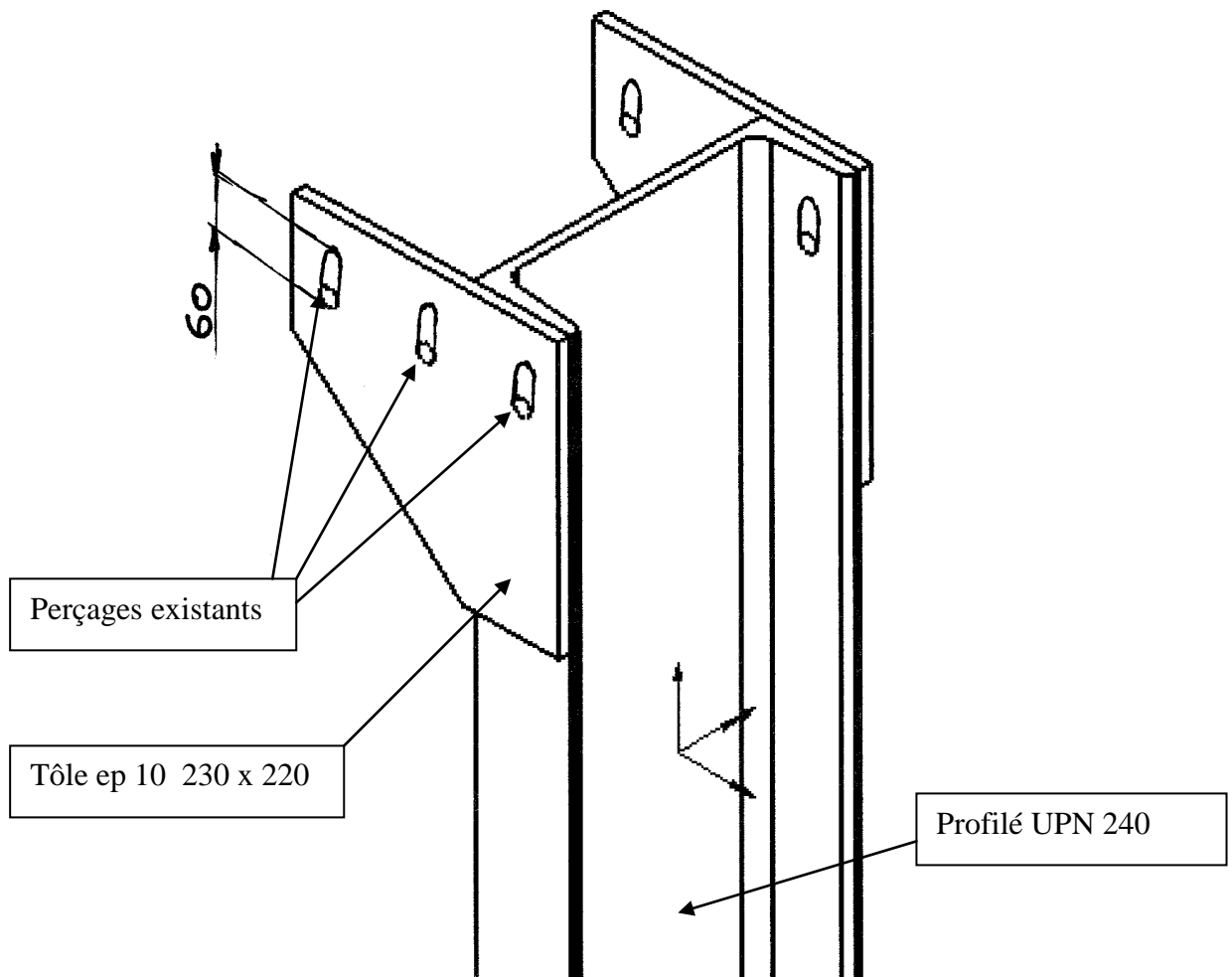
-Ouvrir le fichier **CONVOYEUR.Sldasm**

-Ouvrir le fichier **REPARTITEUR DE TERRE.Sldasm**

Réalisation de la tâche 1 :

Réaliser la liaison glissière entre le {support répartiteur} et les {montants éparpilleur}

-Ouvrir le fichier {**MONTANT EPARPILLEUR.sldasm**}



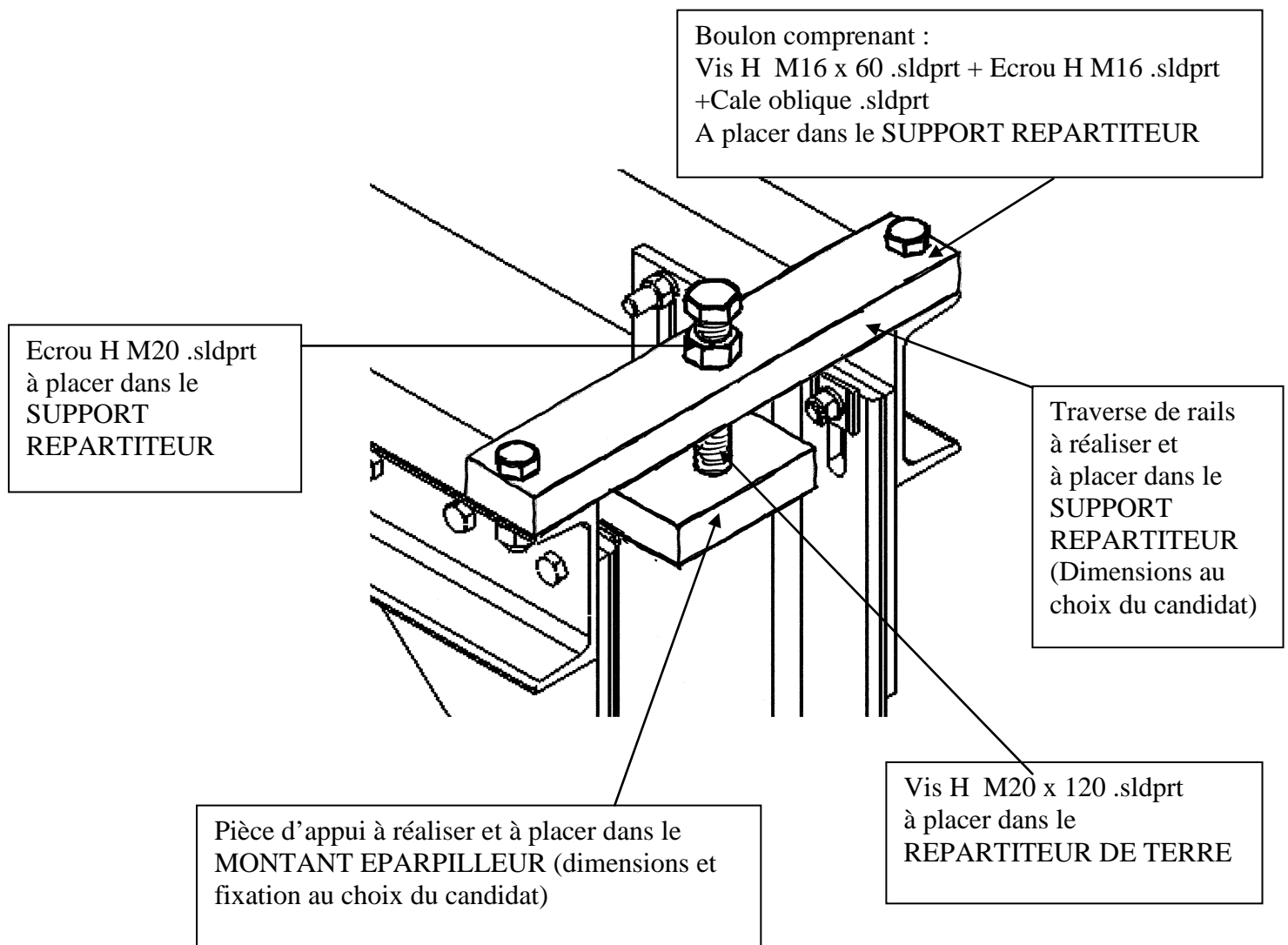
Transformer les trous cylindriques en trous oblongs de longueur 60mm hors tout comme indiqué sur le croquis.

Attention : Un des trois trous oblongs traverse la tôle et le profilé UPN 240 .

Réalisation de la tâche 2 :

Assurer le réglage en hauteur de la herse .

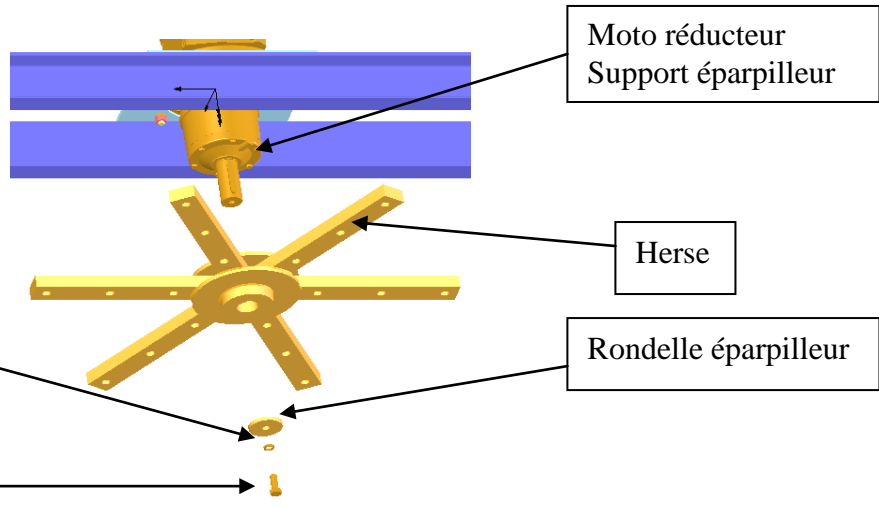
- Les modifications pour la tâche 2 sont à réaliser de chaque côté du bâti.



Réalisation de la tâche 3 :

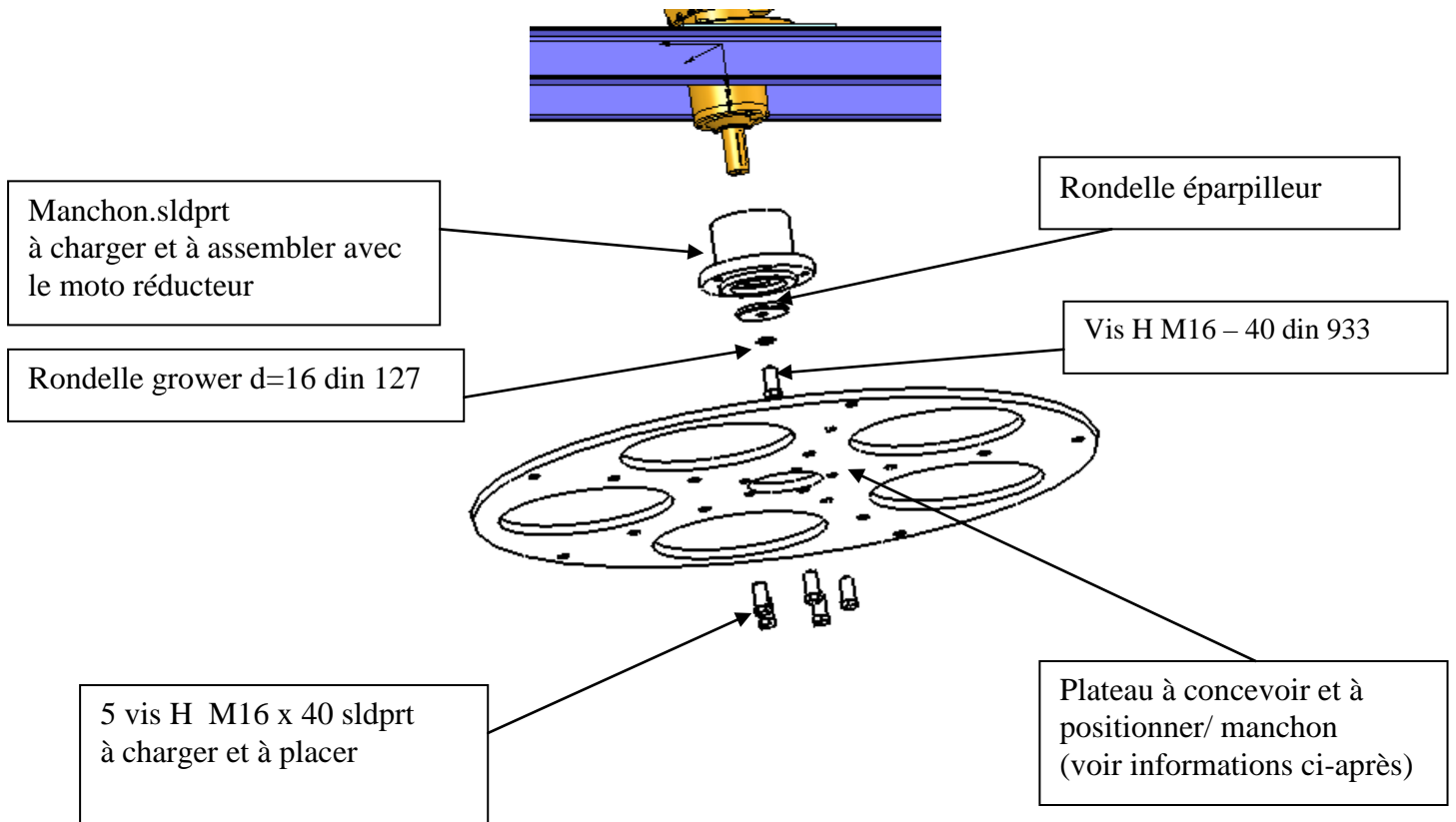
Modifier la herse et réaliser l'accouplement rigide entre le {moto réducteur} et la {herse}.

Solution initiale

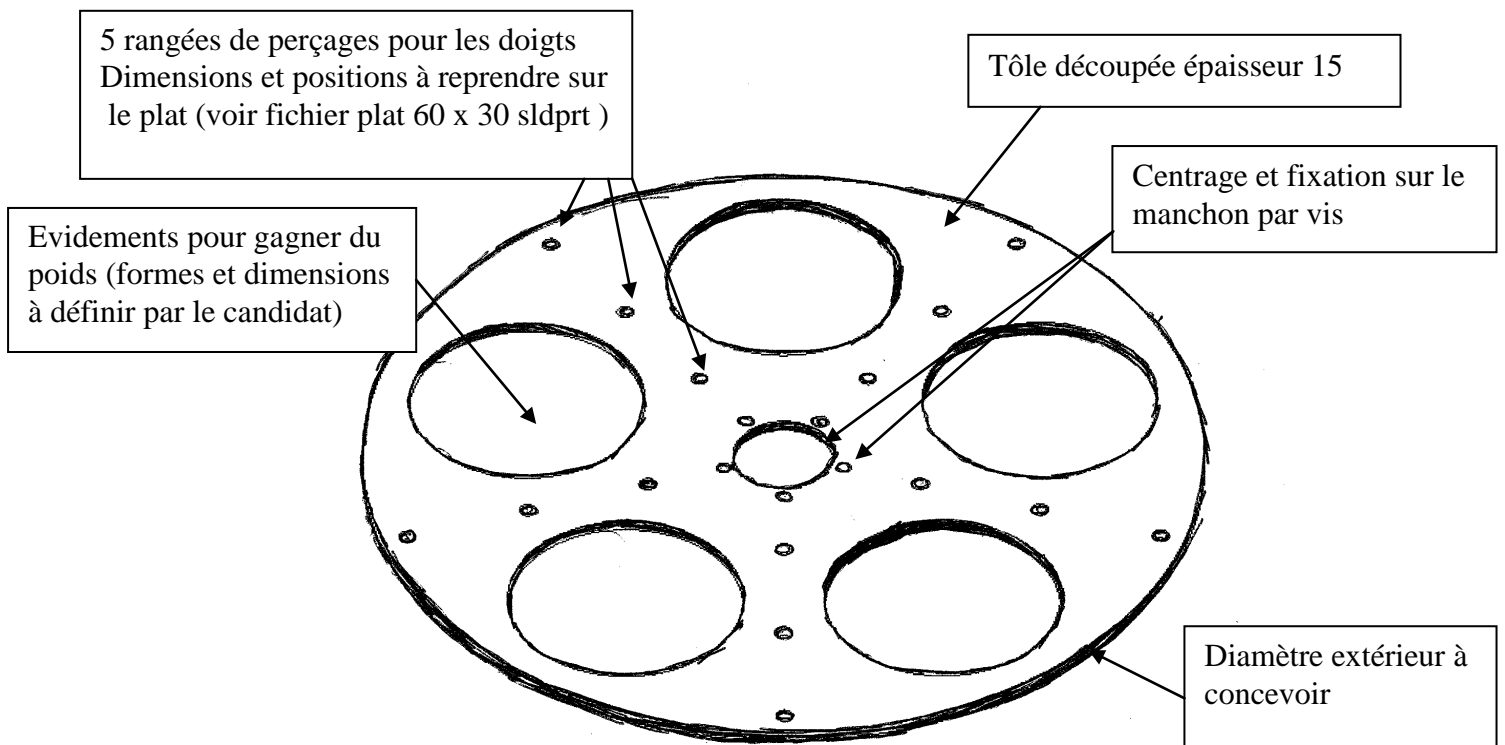


Solution attendue

- Le manchon (déjà réalisé) est assemblé sur le moto-réducteur avec les mêmes éléments que pour la fixation de l'herse tournante.
- Le nouveau plateau est accouplé sur le manchon par 5 vis
- La fixation des doigts est la même que pour la herse, sauf qu'il n'y a plus que cinq rangées au lieu de six pour diminuer les vibrations.



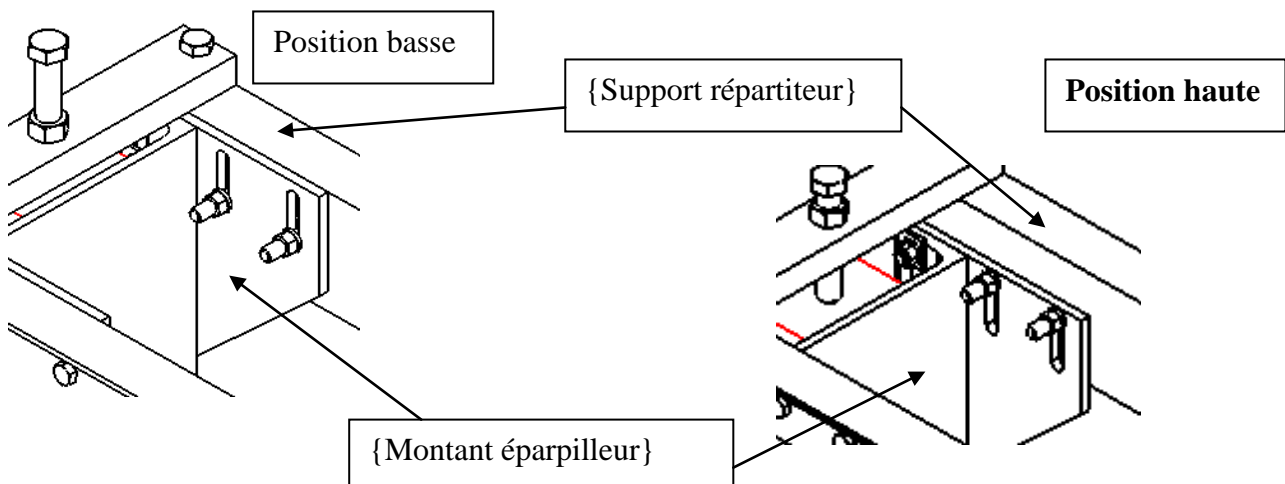
Compléments d'informations pour la conception du plateau



Réalisation de la tâche 4

Modifier la liaison encastrement entre les doigts et le plateau

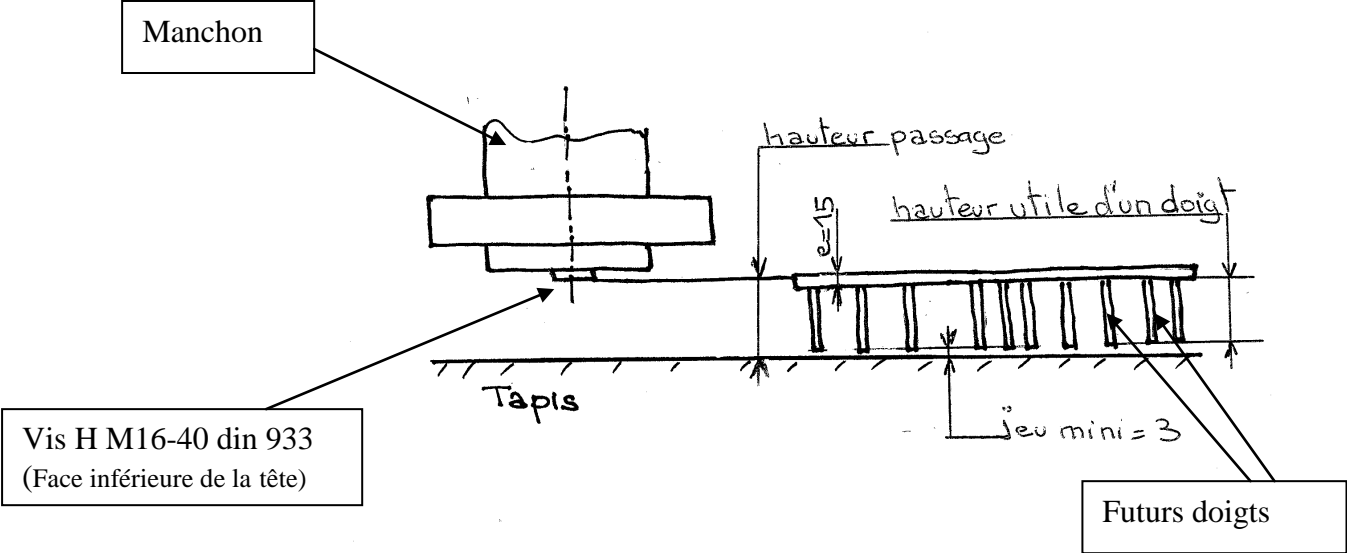
Le sous ensemble {SUPPORT REPARTITEUR} doit être en position **haute maximum**. (Dans le {REPARTITEUR DE TERRE} modifier la contrainte entre le {MONTANT EPARPILLEUR} et le {SUPPORT REPARTITEUR})



Détermination de la hauteur utile d'un doigt éparpilleur

Changement d'une herse usée par une herse neuve

Conditions de montage de la herse



Quand le service de maintenance procède à un changement de la herse , il faut pouvoir la glisser entre le tapis et la face inférieure de la vis fixant le manchon. Pour ne pas détériorer le tapis on impose un jeu de 3mm entre l'extrémité des doigts et le tapis.

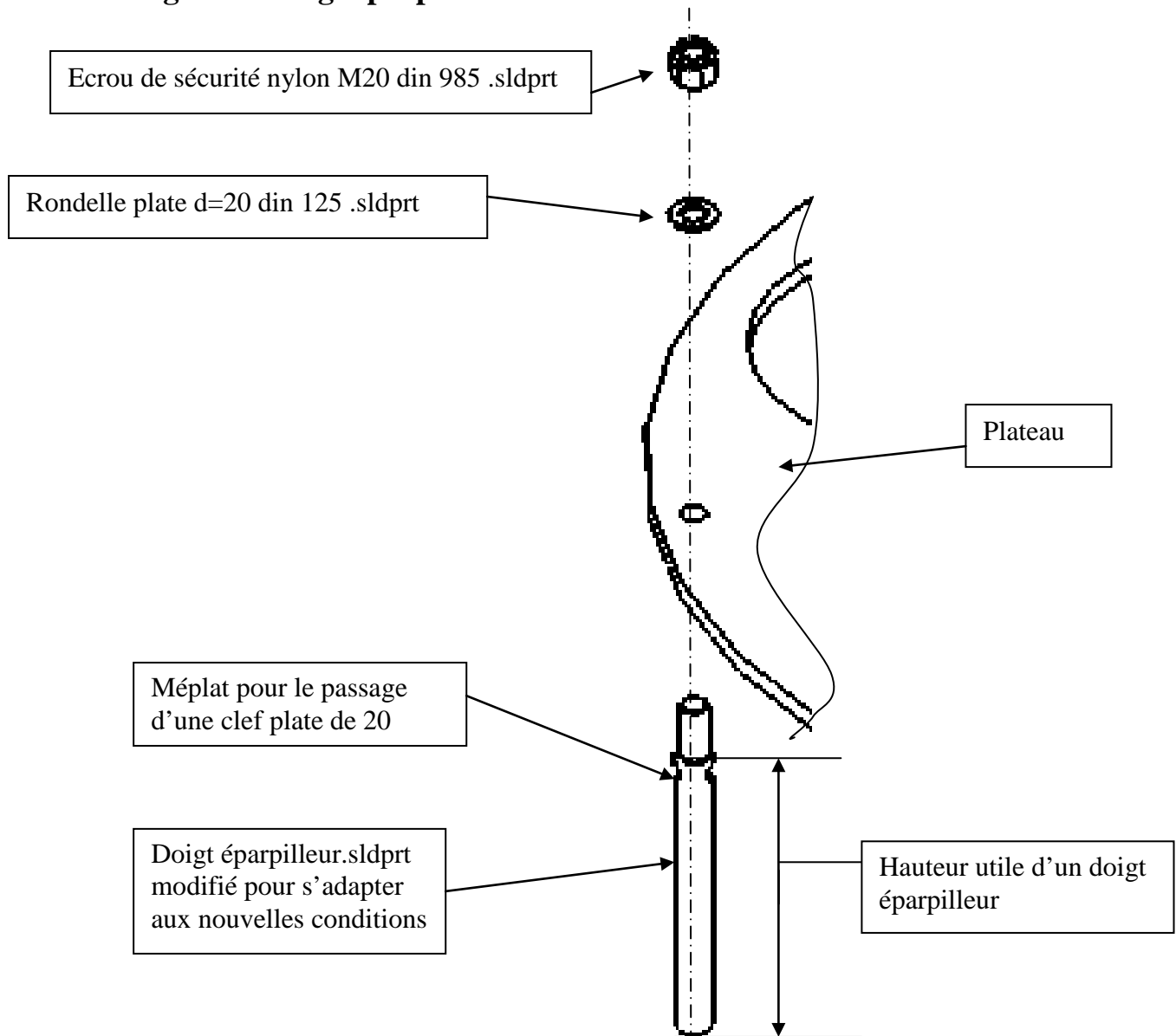
Sur le SE {CONVOYEUR } , mesurer la hauteur de passage comme indiquée sur le croquis ci-dessus le tapis

. Hauteur de passage mesuré=

La hauteur utile d'un doigt s'obtient en soustrayant de la hauteur de passage le jeu de montage et l'épaisseur du plateau

. Hauteur utile d'un doigt =.....

Montage d'un doigt éparpilleur



Réalisation de la tâche 5 : Mise en plan du plateau de l'herse tournante

Réaliser la mise en plan du géométral du plateau (vues et format au choix, sans fond de plan) .

Réalisation de la tâche 6 : Mise en plan du répartiteur de terre modifié

Réaliser la mise en plan du répartiteur de terre (vues et format au choix, sans fond de plan) .

Le candidat fait apparaître clairement les modifications apportées au répartiteur lors des : tâche 1 ; tâche 2 ; tâche 3 ; tâche 4 .

Inclure une nomenclature et un repérage des pièces ajoutées ou modifiées.

FICHE BAREME : PRESENTATION DU PROJET

Présentation du projet : Durée 2h – coefficient 1 (notation sur 20)

Durée 2h dont 1h 20 min permettant au candidat de préparer les supports de communication utiles à la présentation (transparents, argumentaire) et 40 min d'exposé et de présentation du travail réalisé intégrant les questions du jury.

Le candidat doit :

- exposer et argumenter dans le cadre d'une revue de projet :
 - . la problématique,
 - . la démarche adoptée,
 - . la solution proposée,
 - . l'identification des conditions fonctionnelles,

- présenter les documents réalisés, les simulations...

Compétences attendues	Critères d'évaluation	Observations du jury
Exposer la problématique	Clarté de l'expression	
	Précision de la terminologie employée	
Présenter et argumenter oralement une (ou des) solution(s) constructives associées à une ou des fonctions techniques	Pertinence dans l'argumentation	
	Rigueur dans l'expression	

CANDIDAT n° :

Note sur 20 :

FICHE DE SUIVI (à agraffer à une copie)

	Tâches	Réalisé	Non réalisé	Observations (incidents)
Début de session	Mise sous tension poste et périphériques			
	Renommer le dossier en U34 – 2011 - XXXX			
	Vérifier présence des fichiers dans le dossier			
Réalisation du Projet en CAO	Tâche 1			
	Tâche 2			
	Tâche 3			
	Tâche 4			
	Tâche 5			
	Tâche 6			
Fin de session	Effectuer les deux impressions (tâche 5 et tâche 6)			
	Vérification de la présence des fichiers dans le dossier			
	Transfert des fichiers vers le support externe			
	Vérification de la présence des fichiers sur le support externe			

N° d'anonymat :



U34 – ELABORATION PROJET EN CAO

N° d'anonymat :

Centre d'examen :

Nom du surveillant :

Nom du candidat :

Signature du surveillant :

Signature du candidat :