

DANS CE CADRE

Académie :	Session : Juin 2013
Examen : Baccalauréat Professionnel Système Électroniques Numériques	Série :
Spécialité/option :	Repère de l'épreuve : E2
Épreuve/sous épreuve : Analyse d'un système Électronique	
NOM :	
(en majuscule, suivi s'il y a lieu, du nom d'épouse)	
Prénoms :	N° du candidat
Né(e) le :	(le numéro est celui qui figure sur la convocation ou liste d'appel)

NE RIEN ÉCRIRE

Appréciation du correcteur

Note :

Baccalauréat Professionnel

SYSTÈMES ÉLECTRONIQUES NUMÉRIQUES

Champ professionnel : Alarme - Sécurité - Incendie

ÉPREUVE E2

ANALYSE D'UN SYSTÈME ÉLECTRONIQUE

Durée 4 heures – coefficient 5

Notes à l'attention du candidat :

- le sujet comporte 3 parties différentes
 - partie 1 : mise en situation avec présentation du projet d'installation ;
 - partie 2 : questionnement tronc commun ;
 - partie 3 : questionnement spécifique, lié au champ professionnel ;
- vous devrez répondre directement sur les documents du dossier sujet dans les espaces prévus, en apportant un soin particulier dans la rédaction des réponses aux différentes questions ;
- vous ne devez pas noter vos nom et prénom sur ce dossier hormis dans la partie anonymat en haut de cette page ;
- vous devrez rendre l'ensemble des documents du dossier sujet en fin d'épreuve.

Baccalauréat Professionnel Systèmes Electroniques Numériques	1306-SEN T	Session Juin 2013	Dossier Sujet
ÉPREUVE E2	Durée : 4H	Coefficient : 5	Page S1/37

NE RIEN ÉCRIRE DANS CETTE PARTIE

Partie 1 : Mise en situation

Le Mémorial pour la Paix



Le Mémorial de Caen (Mémorial pour la Paix) a été construit à l'emplacement du poste de commandement du général Richter, commandant la 716^e division d'infanterie allemande pendant le Débarquement et la Bataille de Normandie. La première pierre de l'édifice a été posée le 10 septembre 1986 par Jacques Chirac, alors premier ministre, et inauguré en 1988 par le président de la République française François Mitterrand.

Le parvis d'accès au musée est bordé d'un côté par douze mâts portant les drapeaux des douze pays impliqués dans la Bataille de Normandie, et de l'autre côté par une vitrine exposant les douze "premières pierres" de l'édifice, extraites de leur sol par chacune des douze nations concernées, et ornées d'une inscription lapidaire dans chacune de leurs langues. La pierre norvégienne se distingue des autres, elle n'a pas été taillée et fut offerte encore recouverte de mousse, en symbole de respect absolu de la vie.

Ce "musée pour la Paix", conçu par l'architecte Jacques Millet aidé du muséographe Yves Devraïne, réunit un certain nombre d'objets de la vie quotidienne sous l'occupation par l'Allemagne nazie, des plans et des maquettes des engins de guerre notamment un Hawker Typhoon au plafond de l'entrée. Les différentes étapes du conflit, et particulièrement la bataille de Normandie puis l'avancée des forces alliées en France, y sont présentées de même que l'histoire de la Shoah.

Le Mémorial de Caen accueille des expositions temporaires, propose des soirées projection, des conférences et des journées d'études. Dans ce cadre, chaque année, le Mémorial de Caen accueille le Concours de Plaidoiries. Lycéens, élèves avocats et avocats défendent avec conviction des causes d'atteinte aux Droits de l'Homme.

NE RIEN ÉCRIRE DANS CETTE PARTIE

1.1 Alarme Sécurité Incendie

Étude de la gestion du hall d'entrée et de l'accès des visiteurs dans ce musée public avec accès aux personnes handicapées et pouvant accueillir plus de 1500 personnes.

Pour accéder aux différents espaces du musée, les visiteurs sont munis d'un billet à code barre valable pour une journée (ou une après-midi plus le lendemain matin) qu'ils doivent scanner devant un lecteur pour activer un système d'accès :

- 2 tripodes BCA (référence TR491) pour les personnes valides
- 1 portillon pour les personnes handicapées

Les tripodes gèrent l'unicité de passage des visiteurs, et sont dotés de la fonction anti panique. Ils sont asservis au système de sécurité incendie (SSI) afin d'assurer la bonne évacuation des visiteurs en cas d'alarme feu et à un coup de poing d'arrêt d'urgence actionné par le personnel en cas d'un mouvement de panique dans la foule.



Le système de vidéosurveillance, déclaré en préfecture, mis en place au Mémorial a pour finalité :

- Gestion des flux de personne au sein des bâtiments.
- Aide au gardiennage des agents au PC sécurité via une télésurveillance.
- Surveillance du bon fonctionnement des systèmes multimédias au sein du musée.

Il est à noter que le système ne dispose pas d'enregistrement et pas de transmission des images vers l'extérieur.

1.2 Électronique Industrielle Embarquée



Plusieurs panneaux d'affichage électronique sont installés au niveau de la billetterie afin d'informer le client sur les différents tarifs.

Deux panneaux sont en dysfonctionnements. Le technicien responsable de la maintenance devra effectuer et analyser des mesures sur la carte d'alimentation et sur la liaison série RS232 afin de procéder à la remise en état.

NE RIEN ÉCRIRE DANS CETTE PARTIE

La gestion technique de l'ensemble du bâtiment est réalisée par des contrôleurs programmables sur lesquels se connectent des modules de contrôle via un bus process "P-Bus". Ils sont destinés principalement aux fonctions de régulation, de commande et de surveillance d'installations.

Une supervision via un ordinateur muni de l'application « DESIGO™ INSIGHT » complète cette gestion technique. Il est donc possible de gérer toutes les installations électriques (chauffage, éclairage, volets, etc.) depuis le local technique.

Une deuxième salle de projection est en cours de construction à l'identique de la première salle « Espérance ».

Les techniciens du service technique du Mémorial sont chargés d'analyser l'installation existante pour apporter des améliorations sur cette future salle.



1.3 Télécommunications et Réseaux

Le réseau informatique comprend deux sites, le « Mémorial pour la Paix » situé à Caen et le musée-cinéma circulaire « Arromanches-360 » distant de 30 km. Les communications entre les deux sites se font par des liaisons SDSL utilisant le réseau Internet. La sécurité des sites repose de chaque côté sur un premier réseau chargé de filtrer les accès. Ainsi les données provenant d'internet sont automatiquement contrôlées avant d'être transmises sur le réseau Ethernet de chaque site (ou se situent les serveurs hébergeant les différentes applications). Le réseau est constitué de plusieurs VLAN gérés par des commutateurs Cisco.

Le réseau téléphonique interne utilise le pré-câblage informatique mais la communication entre les deux sites se fait toujours par l'intermédiaire du Réseau Téléphonique Commuté.

1.4 Électrodomestique

Dans le cadre de la réorganisation des services du personnel (nouveaux horaires), il est souhaitable que ceux-ci puissent prendre leur repas sur place. Au niveau bas du bâtiment principal se situe la salle de repos où sera installé un appareil de froid combiné à production de froid ventilé.

Ce produit doit répondre à certaines contraintes d'utilisation :

- Ouvertures de porte fréquentes.
- Stockage de produits surgelés.
- Pas de contraintes de rangement des denrées dans la partie réfrigération.

On profitera de cette réorganisation pour effectuer une remise à niveau de l'installation électrique. Cette salle offrira la possibilité de préparer et de réchauffer les repas.

Le choix du produit porte sur un réfrigérateur combiné FAGOR « FFJ6745X ».



NE RIEN ÉCRIRE DANS CETTE PARTIE

1.5 Audiovisuel Multimédia

L'espace multimédia situé au sein du centre de documentation du Mémorial dispose d'un système audiovisuel très pauvre et demande à être enrichi par un système plus moderne, répondant aux nouveaux supports audio vidéo actuels (Blu-ray, Fichiers vidéo enregistrés sur disques durs), tout en gardant les anciens supports (cassettes VHS et DVD).

Le système actuel permet simplement de visualiser des DVD et des cassettes VHS appartenant au Mémorial et mis à la disposition du public. La visualisation de programmes télévisuels traitant de l'histoire contemporaine est aussi possible.

L'évolution du système permettra la visualisation des supports audiovisuels actuels (Blu-ray, fichiers vidéo, audio et image, sur serveur NAS) avec une écoute multicanal et conservera la possibilité de visualiser et d'écouter les anciens supports.

1.6 Audiovisuel Professionnel

Comme chaque année, le concours de plaidoirie sur les droits de l'homme aura lieu au mémorial de CAEN. Son déroulement se fera dans le hall principal, pouvant recevoir 700 personnes.

À cette occasion un écran de vidéo projection et des gradins télescopiques seront installés. La scène sera éclairée par 5 projecteurs lyres CLAY PAKY modèle Alpha Wash 1500 LT (3 placés sur un portique en face de la scène et 2 de chaque côté de la scène). Leur pilotage se fera depuis la console d'éclairage compacte BERHINGER modèle Eurolight LC 2412.

La prise de vue se fera par une caméra PANASONIC modèle AJ-HPX3000g.

Le traitement de la vidéo et du son se fera par un mélangeur ROLAND modèle VR5.

Le pupitre de l'orateur sera équipé de 2 microphones fixes directionnels.

Simultanément cet événement sera diffusé dans le hall et dans une salle annexe:

- Un vidéoprojecteur et un ensemble stéréophonique assureront la diffusion en direct des plaidoiries dans le hall.
- La retransmission dans la salle annexe (située à 200 m) se fera par fibre optique par l'intermédiaire d'un ensemble transmetteur/récepteur vidéo numérique NKF. Modèle VAD 5300.

NE RIEN ÉCRIRE DANS CETTE PARTIE

Partie 2 : Questionnement tronc commun

2.1 Étude de l'accès dans le musée

Suite à un changement de contrat de maintenance, un bilan de l'existant est réalisé.

Question 2.1.1

Définir le rôle de la fonction « anti-panique » assurée par le tripode d'accès.

Question 2.1.2

Expliciter le terme de contrôle d'accès : « unicité de passage » ; estimer ensuite le temps de passage d'un groupe scolaire de 50 personnes se présentant avec leur billet à code barre pour entrer dans l'espace musée aux vues des 2 tripodes à leur disposition.

Question 2.1.3

Cocher le mode de commande permettant le débloqué du tripode en fonctionnement anti-panique, sachant que les bras du tripode sont maintenus en position horizontale grâce à une bobine électromagnétique de 48V.

à émission de courant

à rupture de courant

Question 2.1.4

Préciser les 3 protections dans l'ordre d'importance d'un SSI sachant que le mémorial est classé ERP (Établissement Recevant du Public).

Protection n°1	Protection n°2	Protection n°3

NE RIEN ÉCRIRE DANS CETTE PARTIE

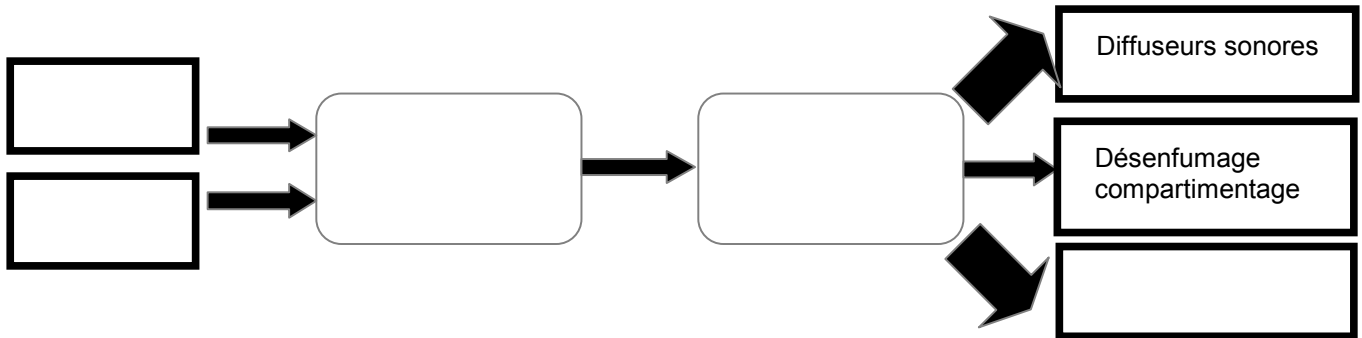
Question 2.1.5

Déterminer le type d'Équipement d'Alarme (EA) ainsi que la catégorie du SSI réglementaire, nécessaire pour la protection incendie sachant que la classification du musée Mémorial en type de bâtiment est « Y ».

Type de bâtiment	Type d'EA	Catégorie de SSI

Question 2.1.6

Compléter l'approche fonctionnelle SSI très simplifiée ci-dessous en positionnant les cinq éléments cités dans les bons blocs.



- déclencheur manuel (DM)
- détecteur incendie (DI)
- tripodes
- système de mise en sécurité incendie (SMSI)
- système de détection incendie (SDI)

Le mémorial utilise des caméras dômes motorisées Samsung, référence SCP-2120 dans le but de surveiller certains lieux, en l'occurrence, le bon passage au niveau des tripodes et du couloir d'entrée desservi afin d'assurer la gestion du flux des visiteurs.

Sur la documentation technique, on peut lire les caractéristiques suivantes :

- caméra : 1/4" 12x Haute Résolution Mini Caméra Dôme PTZ
- objectif : focale objectif : 3,9~46

Question 2.1.7

Donner la signification de « 12x ».

Question 2.1.8

En réalité, cette information (12x) est une information commerciale.

Calculer la valeur exacte du facteur de zoom optique aux vues des caractéristiques de l'objectif.

NE RIEN ÉCRIRE DANS CETTE PARTIE

Question 2.1.9

Donner le rôle de la fonctionnalité PTZ (Pan Tilt Zoom) de cette caméra motorisée.

Question 2.1.10

Justifier le terme CCTV (Closed Circuit TeleVision ou télésurveillance en circuit fermé) aux vues de la finalité de la vidéosurveillance utilisée dans le Mémorial.

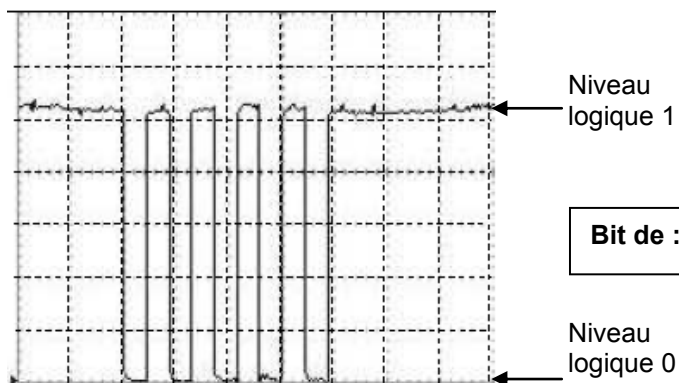
2.2 Panneaux d'affichage électroniques

Le technicien vérifie le bon fonctionnement de la liaison série RS232 entre l'ordinateur et le panneau d'affichage. Il connecte deux ordinateurs entre eux via les prises DB9, puis utilise le logiciel Hyper Terminal installé sur les 2 machines.

NB : La configuration (setup) de la liaison RS232 correspond à une transmission de type : asynchrone 8bits sans bit de parité.

La frappe au clavier de la lettre « U » donne à l'oscilloscope l'écran suivant :

Bit de :



Bit de :

Question 2.2.1

Justifier si cette trame est complète vis-à-vis du nombre de bits transmis, en fonction du type de transmission.

NE RIEN ÉCRIRE DANS CETTE PARTIE

Question 2.2.2

Flécher et compléter sur le relevé de l'oscilloscope ci-dessus, la position des bits de START de STOP.

Question 2.2.3

Déterminer à partir du relevé la valeur de l'octet transmis (message) exprimée en binaire puis convertir cette valeur en hexadécimal.

Base 2 = ()₂ Base 16 = ()₁₆

Question 2.2.4

Indiquer et justifier, à partir de la table des caractères ASCII, si ce message correspond bien à la frappe initiale effectuée sur le clavier de l'ordinateur.

Préambule : La nouvelle norme Française NF C18-510 a été élaborée par la Commission U21 « Prévention des accidents » de l'UTE (Union Technique Européenne).

Un défaut sur un aérotherme (2 groupes « moto-ventilateur ») est signalé sur un écran de contrôle via une supervision des bâtiments du Mémorial. Le technicien identifie très rapidement qu'il sera nécessaire d'intervenir sur une partie de l'armoire électrique concernée.

Cette armoire distribue l'énergie électrique sous 400V (phase/phase) aux moteurs pour la gestion du chauffage ventilé d'une salle de cinéma « Espérance ».

Dans un premier temps ce technicien consigne le départ concerné (groupe 1) puis son intervention s'effectue tout en maintenant l'alimentation du groupe 2 afin d'assurer une température minimale de la salle de cinéma.

Question 2.2.5

Indiquer le niveau d'habilitation minimum que doit avoir ce technicien pour manœuvrer et changer dans l'armoire électrique le matériel défectueux qui participe à la distribution de l'énergie du groupe 1. Décoder le sigle proposé.

NE RIEN ÉCRIRE DANS CETTE PARTIE

Question 2.2.6

Indiquer ce que le technicien « Chargé d'opérations spécifiques » devra utiliser comme « EPI » et comme équipements de travail. Décoder le sigle EPI.

- EPI :

- Équipements de travail :

Question 2.2.7

Citer les zones de risque concernées vis-à-vis de cette intervention.

2.3 Analyse du réseau informatique du Mémorial.

L'architecture du réseau ainsi que le plan d'adressage IP des équipements sont représentés sur le document technique « schéma du Réseau du Mémorial ». Ce schéma fait apparaître plusieurs équipements informatiques hébergeant différents services : administratif, commercial et technique. Le développement d'un nouveau service cinémathèque sur le site d'Arromanches nécessite l'installation d'un poste supplémentaire.

Pour réaliser cette installation, on se propose d'étudier l'organisation et le plan d'adressage IP du réseau du Mémorial.

Question 2.3.1

Afin d'intégrer le nouveau poste dans le réseau du site d'Arromanches, le technicien doit relever les adresses des réseaux présents sur les différents sites.

Indiquer les adresses des réseaux privés du site du Mémorial pour la paix et du site Cinéma-360 d'Arromanches.

Réseau privé « Mémorial pour la paix de Caen » :

Réseau privé « Cinéma-360 d'Arromanches » :

NE RIEN ÉCRIRE DANS CETTE PARTIE

Le site d'Arromanches, comme celui de Caen, dispose d'une adresse de réseau publique et d'une adresse de réseau privé.

Question 2.3.2

Indiquer la particularité des adresses IP privées par rapport aux adresses IP publiques.

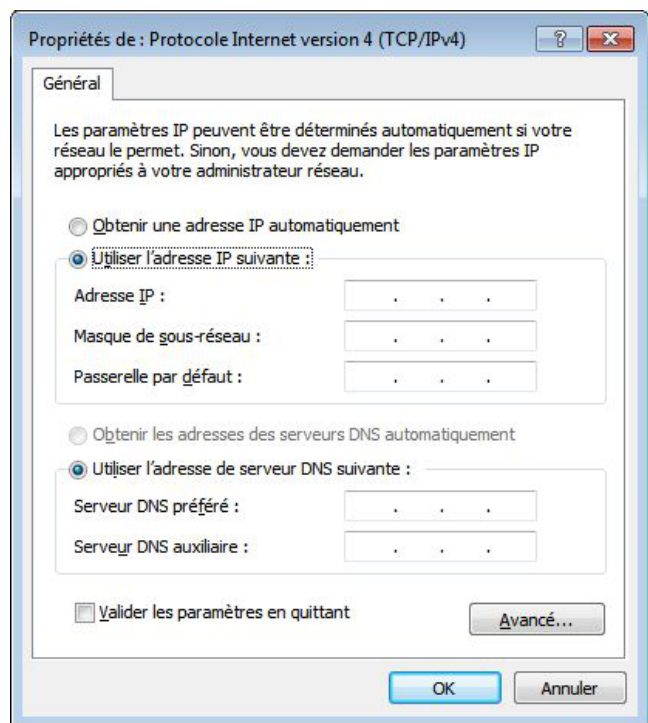
Tous les équipements du réseau disposent d'une adresse IP statique, sauf les ordinateurs portables qui reçoivent leur configuration en dynamique.

Une plage d'adresses est réservée selon les types d'équipements :

- Adresse IP de 1 à 20 : les serveurs.
- Adresse IP de 21 à 50 : les imprimantes.
- Adresse IP de 51 à 100 : les postes de travail.

Question 2.3.3

Compléter l'écran de configuration ci-contre pour le nouveau poste de travail à installer à Arromanches avec une adresse IP statique.



Question 2.3.4

Entourer parmi les protocoles suivants celui qui permet d'attribuer des adresses IP de manière dynamique aux ordinateurs portables du réseau.

DNS	FTP	HTTP	SMTP	DHCP	TCP	ARP
-----	-----	------	------	------	-----	-----

Question 2.3.5

Calculer le nombre d'adresses IP encore disponibles après l'installation du nouveau poste sur le site de d'Arromanches.

Nombre d'adresses :

NE RIEN ÉCRIRE DANS CETTE PARTIE

Afin de raccorder le nouveau poste de travail au réseau du site d'Arromanches, le technicien doit déployer un câble supplémentaire et poser une nouvelle prise murale.

Le câble mis à disposition du technicien porte les inscriptions suivantes :
4P - U/UTP – 100 ohms - 24 AWG – Cat 6

Question 2.3.6

Donner la signification des inscriptions (4P- U/UTP-Cat 6) inscrites sur le câble du réseau.

4P	
U/UTP	
100 ohms	Valeur de l'impédance caractéristique du câble = 100 Ω
24 AWG	Diamètre des fils conducteurs électriques = 0,51 mm
Cat. 6	Fréquence max =

Question 2.3.7

Indiquer la longueur maximale du câble que peut poser le technicien pour raccorder la prise murale au panneau de brassage du site d'Arromanches (selon la norme ISO 11801).

Le panneau de brassage du site d'Arromanches est réalisé selon la norme ANSI TIA/EIA568B.

Question 2.3.8

Entourer le numéro des fils utilisés pour le transport de données sur le réseau informatique du Mémorial.

No	1	2	3	4	5	6	7	8
Couleur des fils	Blanc - Orange	Orange	Blanc - Vert	Bleu	Blanc - Bleu	Vert	Blanc Marron	Marron

Question 2.3.9

Entourer les services locaux à activer assurant la sécurité au niveau du poste de travail.

Anti-virus	Pare-feu	Partitionnement	Mise à jour automatique	Domaine	Bios
------------	----------	-----------------	-------------------------	---------	------

NE RIEN ÉCRIRE DANS CETTE PARTIE

Lors d'une intervention de maintenance sur le réseau informatique du mémorial, afin de localiser le dysfonctionnement, le technicien doit pouvoir situer à quel niveau du modèle ISO (modèle à 7 couches d'Interconnexion de Systèmes Ouverts) interviennent les différents composants de la chaîne de communication.

Question 2.3.10

Placer dans les parties non grisées, selon la couche correspondante, les éléments suivants : Adresse IP – Masque de sous-réseau – Adresse MAC – DNS – Prise RJ45.

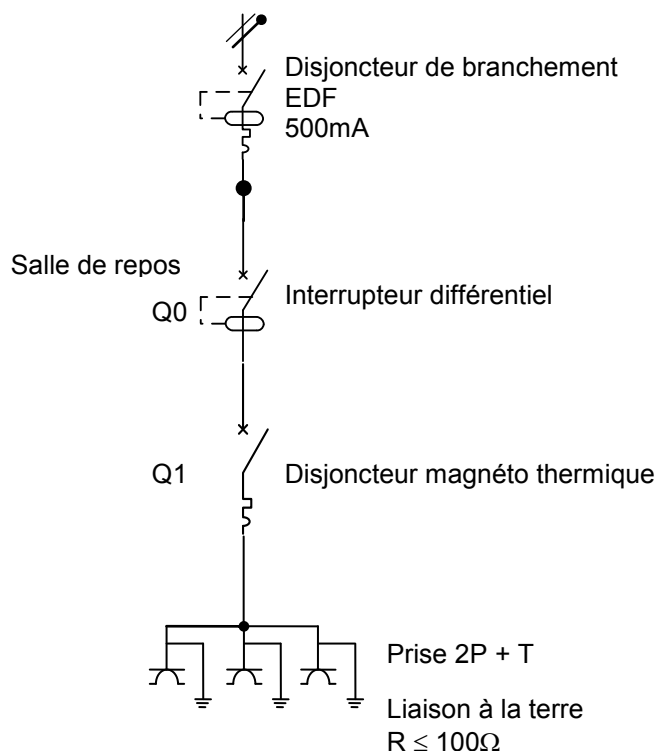
Modèle ISO	N° de couche	1	2	3	4	5	6	7
	Éléments							

2.4 Électrodomestique

Dans le cadre de la rénovation d'une partie du mémorial, l'entreprise « FELEC » modifie partiellement l'installation électrique de la salle de repos. Vous devez entre autres rajouter une prise dans cette pièce afin d'installer l'appareil de froid combiné FAGOR FFJ6745X.

Avant d'intervenir vous vous assurez que la partie existante répond aux normes PROMOTELEC, NF C15-100 et UTE C15-900 en vigueur pour les locaux tertiaires.

Installation, raccordement électrique : circuit existant



NE RIEN ÉCRIRE DANS CETTE PARTIE

Question 2.4.1

Entourer la valeur du courant de test de l'interrupteur différentiel Q0.

10mA

30mA

300mA

500mA

Le réfrigérateur combiné FAGOR sera raccordé sur ce circuit comportant déjà trois prises électriques.

Question 2.4.2

Justifier la section des conducteurs électriques de ce circuit.

Question 2.4.3

Indiquer le calibre maximal du disjoncteur magnéto thermique Q1 qui protégera le circuit composé des trois prises électriques.

Question 2.4.4

Cocher dans le tableau ci-dessous la ou les fonction(s) réalisée(s) par les appareils de protection.

	Protection des personnes	Protection contre les courts-circuits	Protection contre les surcharges
Interrupteur différentiel Q0			
Disjoncteur magnéto thermique Q1			

NE RIEN ÉCRIRE DANS CETTE PARTIE

Le technicien met en service l'appareil de froid combiné FAGOR FFJ6745X et donne quelques conseils au responsable technique du Mémorial.

Question 2.4.5

Citer trois avantages que présente un appareil à production de froid ventilé par rapport à un appareil à production de froid statique.

Question 2.4.6

Expliquer les avantages que présente le réfrigérateur combiné FAGOR FFJ6745X de type froid ventilé au niveau du stockage des aliments pour les utilisateurs de la salle de repos.

Question 2.4.7

Justifier l'utilité du filtre anti-humidité présent au niveau du bac à légumes.

Question 2.4.8

Justifier l'utilité du filtre à carbone présent à l'intérieur de la partie réfrigérateur.

NE RIEN ÉCRIRE DANS CETTE PARTIE

2.5 Étude et aménagement du centre de documentation du mémorial

Présentation du système audiovisuel actuel :

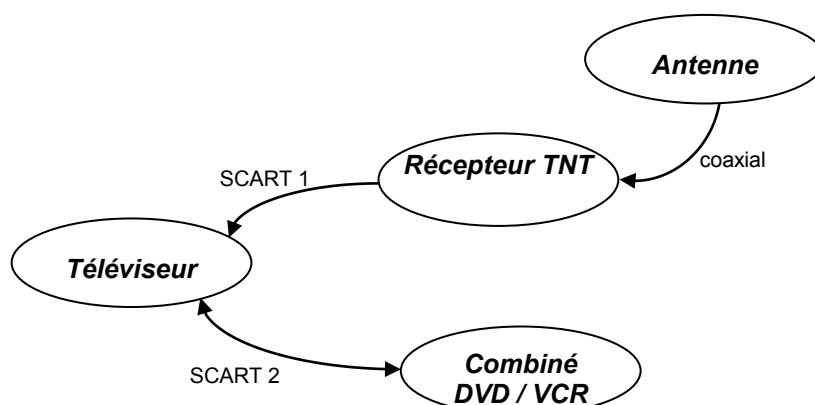
Ce système équipe actuellement le centre de documentation du mémorial. Il permet simplement de visualiser des DVD et des cassettes VHS appartenant au Mémorial et mis à la disposition du public. La visualisation de programmes télévisuels traitant de l'histoire contemporaine est aussi possible.

Le système audiovisuel actuel est constitué des éléments suivants :

- Un téléviseur SAMSUNG LE32R1B.
- Un combiné DVD / VCR THOMSON DTH 6300F.
- Un récepteur TNT SAGEM Twin-640T.

Les liaisons entre le téléviseur, le récepteur TNT et le combiné DVD / VCR se font par 2 câbles "péritel" (ou aussi appelé SCART) dont les broches sont en totalité câblées.

Diagramme sagittal



Question 2.5.1

Relever la résolution du téléviseur puis calculer le nombre total de pixels de l'écran.

Question 2.5.2

Justifier la présence de l'appareil récepteur TNT dans le système.

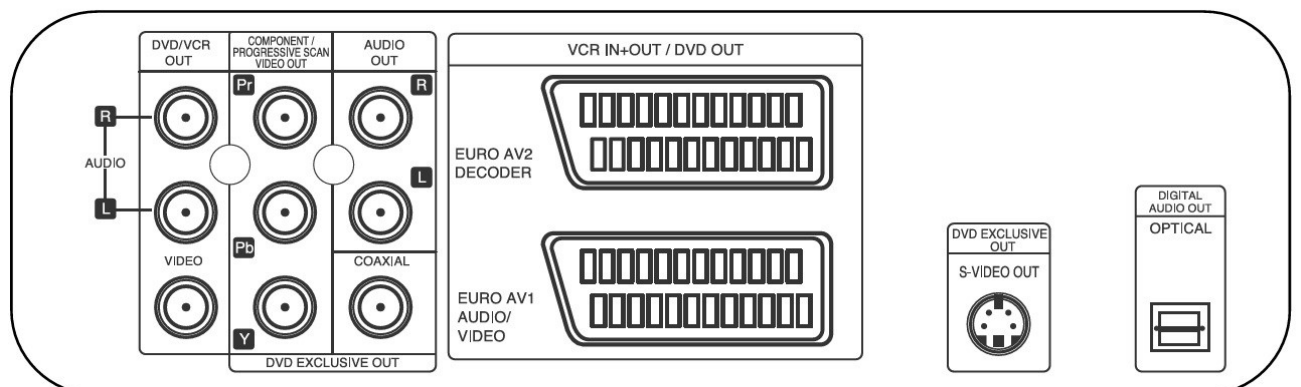
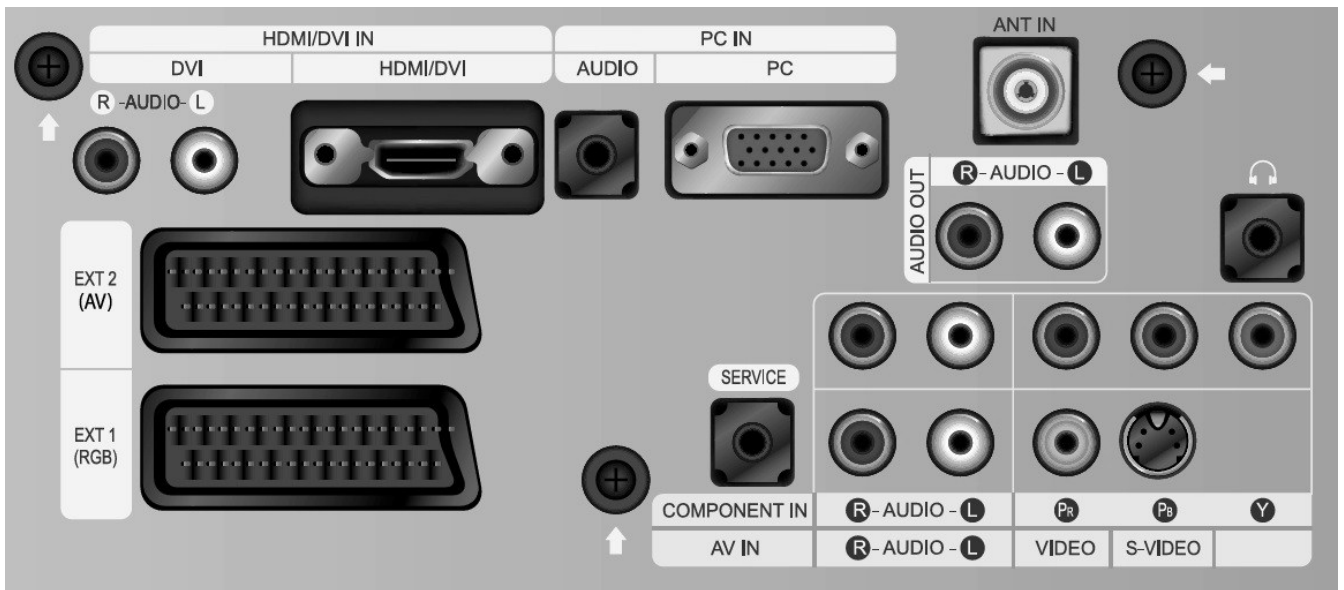
NE RIEN ÉCRIRE DANS CETTE PARTIE

Le combiné DVD / VCR est actuellement connecté au téléviseur par un câble péritel.
On décide de remplacer la connectique Péritel existante par un autre type de connectique qui procurera une qualité d'image optimum lors de la lecture d'un DVD ou d'une cassette vidéo.

Question 2.5.3

Relier les deux appareils afin de répondre au nouveau cahier des charges.

Vue arrière du téléviseur



Vue arrière du DVD/VCR

NE RIEN ÉCRIRE DANS CETTE PARTIE

Présentation partielle du système audiovisuel futur :

La technologie des différents éléments actuels est ancienne (voir présentation du système audiovisuel actuel) et nécessite une évolution afin de permettre la visualisation de nouveaux supports audiovisuels tout en prenant soin de conserver la possibilité de visualiser les anciens supports.

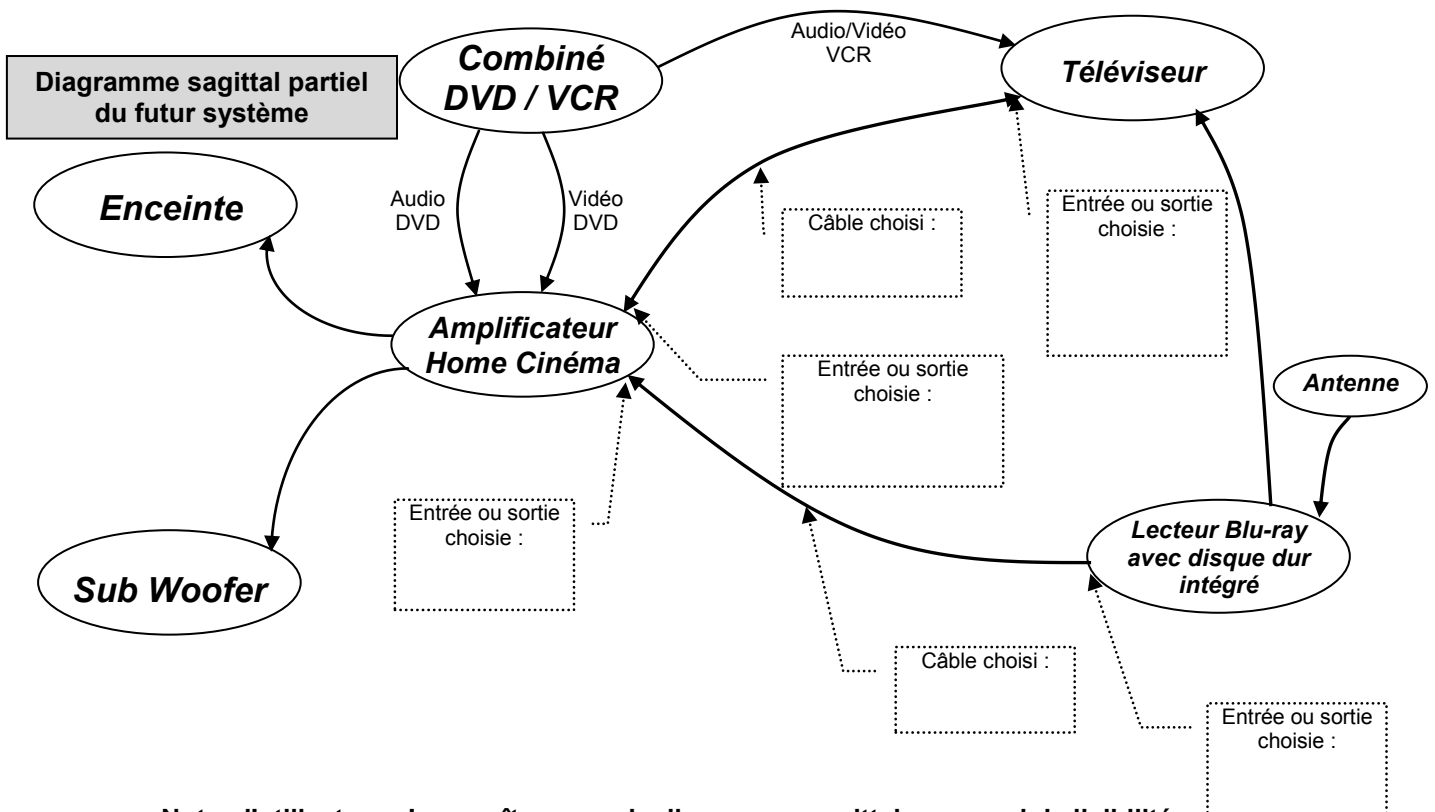
Le téléviseur LG 42 LX 6500, le lecteur Blu-ray avec disque dur intégré LG HR550, l'amplificateur Home-Cinéma DENON AVR-3311, un pack enceintes, un Sub-woofer sont rajoutés à l'ancienne installation.

Question 2.5.4

Justifier l'absence du récepteur TNT externe dans la nouvelle installation.

Question 2.5.5

Compléter le diagramme sagittal partiel du futur système audio-vidéo ci-dessous en indiquant aux endroits prévus, les câbles, les entrées et sorties utilisés.



Nota : l'utilisateur n'apparaît pas sur le diagramme sagittal par souci de lisibilité.

NE RIEN ÉCRIRE DANS CETTE PARTIE

Question 2.5.6

Indiquer le nombre de canaux disponibles sur l'amplificateur Home-Cinéma DENON AVR-3311.

Question 2.5.7

Indiquer la puissance nominale de l'amplificateur pour chaque canal lorsque celui-ci est raccordé à des enceintes d'impédance 8Ω .

Question 2.5.8

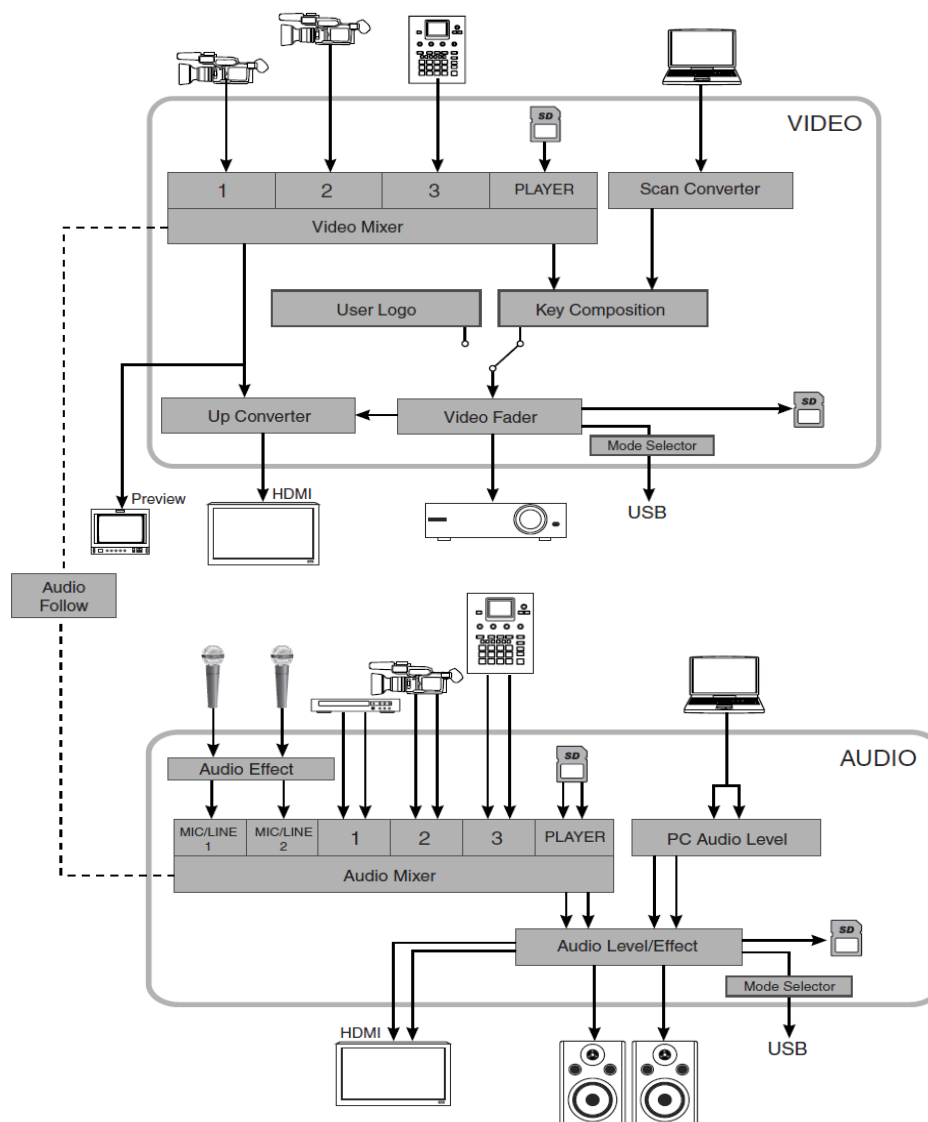
Citer un avantage à utiliser la technologie Blu-ray.

NE RIEN ÉCRIRE DANS CETTE PARTIE

2.6 Audiovisuel professionnel

L'utilisation de plusieurs sources (2 microphones et une caméra autonome) pour la capture de la scène audiovisuelle implique un câblage spécifique du mélangeur audiovisuel VR5 dont l'organisation fonctionnelle est fournie ci-dessous.

ORGANISATION INTERNE DU MÉLANGEUR VR5



Question 2.6.1

Surligner en bleu (sur le schéma « organisation interne du mélangeur VR5 » ci-dessus) le trajet du signal vidéofréquence issu de la caméra (port 1 de l'entrée vidéo du mélangeur) jusqu'au vidéoprojecteur.

Question 2.6.2

Surligner en vert (sur le schéma « organisation interne du mélangeur VR5 » ci-dessus) le trajet du signal audiofréquence depuis les deux microphones jusqu'aux enceintes.

NE RIEN ÉCRIRE DANS CETTE PARTIE

Question 2.6.3

Justifier l'utilisation de la liaison fonctionnelle « audio follow » présente sur le schéma et indiquer en quoi son absence altérerait la restitution de la scène audiovisuelle capturée.

--

Question 2.6.4

Préciser quel est le rôle du moniteur présent sur la ligne « preview ».

--

Question 2.6.5

Entourer, dans le tableau ci-dessous, les mouvements que pourront effectuer les projecteurs lyres.

SCAN	TRAY	PAN	SPINDLE	TILT
------	------	-----	---------	------

Question 2.6.6

On désire que l'ensemble des projecteurs lyres produisent un effet stroboscopique (flash de lumière blanche) au début et à la fin de chaque plaidoirie.

Entourer le protocole de communication utilisé entre la console d'éclairage compacte BERHINGER modèle Eurolight LC 2412 et l'ensemble des projecteurs lyres KLAY PAKY modèle Alpha Wash 1500 LT.

IIC	NMEA183	SCS	RS232	DMX512
-----	---------	-----	-------	--------

Question 2.6.7

Le mélangeur ROLAND modèle VR5 et le vidéoprojecteur installé dans le hall sont distants de 200m. Leur interconnexion vidéo se fait de manière filaire.

Cocher la (ou les) liaison(s) qui devra(ont) être utilisée(s) pour réaliser cette connexion.

Type de liaison	<input type="checkbox"/> VGA	<input type="checkbox"/> HDMI	<input type="checkbox"/> SPEAKON	<input type="checkbox"/> XLR 3 broches	<input type="checkbox"/> BNC/RCA	<input type="checkbox"/> Jack 3,5mm
-----------------	------------------------------	-------------------------------	----------------------------------	--	----------------------------------	-------------------------------------

NE RIEN ÉCRIRE DANS CETTE PARTIE

Partie 3 : Questionnement spécifique

Mise en situation et problématique :

Le Mémorial est situé en face de la clinique Saint-Martin de Caen. Ce centre hospitalier accueille de nombreuses personnes et de nombreux visiteurs à la journée pour venir voir les malades mais également pour toutes les consultations externes.

Une difficulté posée actuellement est le stationnement des voitures de toutes ces personnes car le parking de la clinique arrive à saturation. Les gens viennent de plus en plus stationner leur véhicule sur le parking visiteur du Mémorial mais également sur le parking du personnel, ce qui pose des soucis de place.

La barrière donnant accès au parking du personnel est fonctionnelle et commandée par deux boucles au sol pour entrer et sortir, l'interphone est hors service et il n'y a plus de filtrage possible des voitures. L'accès est de fait libre à tous 24h/24.

Le directeur du Mémorial souhaite donc la mise en place d'un système de contrôle d'accès centralisé qui permettra de gérer les différents accès.

Extrait du CCTP :

Contrôle d'accès :

Le système de contrôle d'accès centralisé retenu est le système CENTAUR avec le contrôleur CT-V900-A du fabricant CDVI ; il devra gérer :

- a) La barrière d'accès du parking personnel avec un lecteur de badge de proximité.
- b) La porte principale extérieure d'accès au service administratif sur laquelle sera posée un bandeau aluminium double ventouses électromagnétiques 300kg.
- c) Deux portes d'accès contrôlées par clavier entre la partie musée et la partie bâtiment administratif.
- d) La porte du bureau du directeur contrôlée par un lecteur de badge de proximité.

Vidéosurveillance :

La partie administration du Mémorial dispose d'un accueil avec présence d'un agent pendant les heures d'ouverture. Il a entre autre comme mission de gérer l'ouverture de la barrière pour les visiteurs et les livreurs.

En plus de l'interphonie existante, il dispose d'un moniteur de contrôle visualisant cette entrée barrière et l'entrée principale du bâtiment administratif.

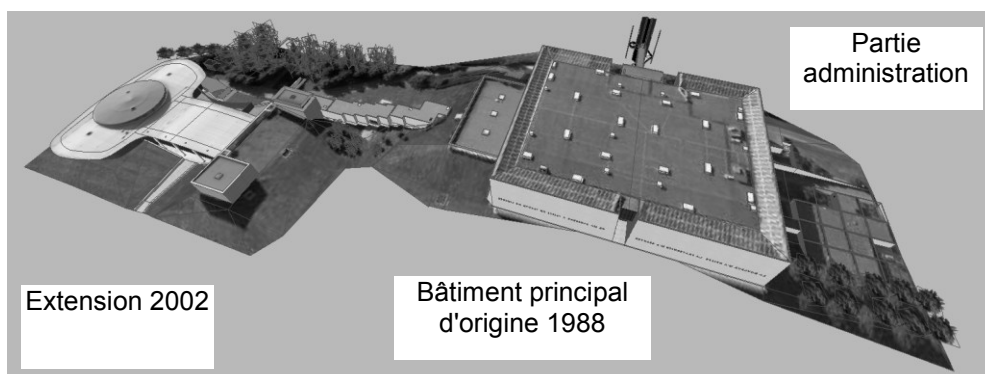
Cet agent dispose de deux caméras :

- a) Une caméra SAMSUNG SCZ-2430N placée dans un caisson VERSO HPV42K1A000 dans l'angle du bâtiment administratif dirigé vers la barrière d'accès au parking ; la distance entre l'objectif et la barrière est de 40 mètres.
- b) Une caméra dôme SAMSUNG SPC 2120 placée au-dessus de la porte d'entrée extérieure.

Système de Sécurité Incendie (SSI) :

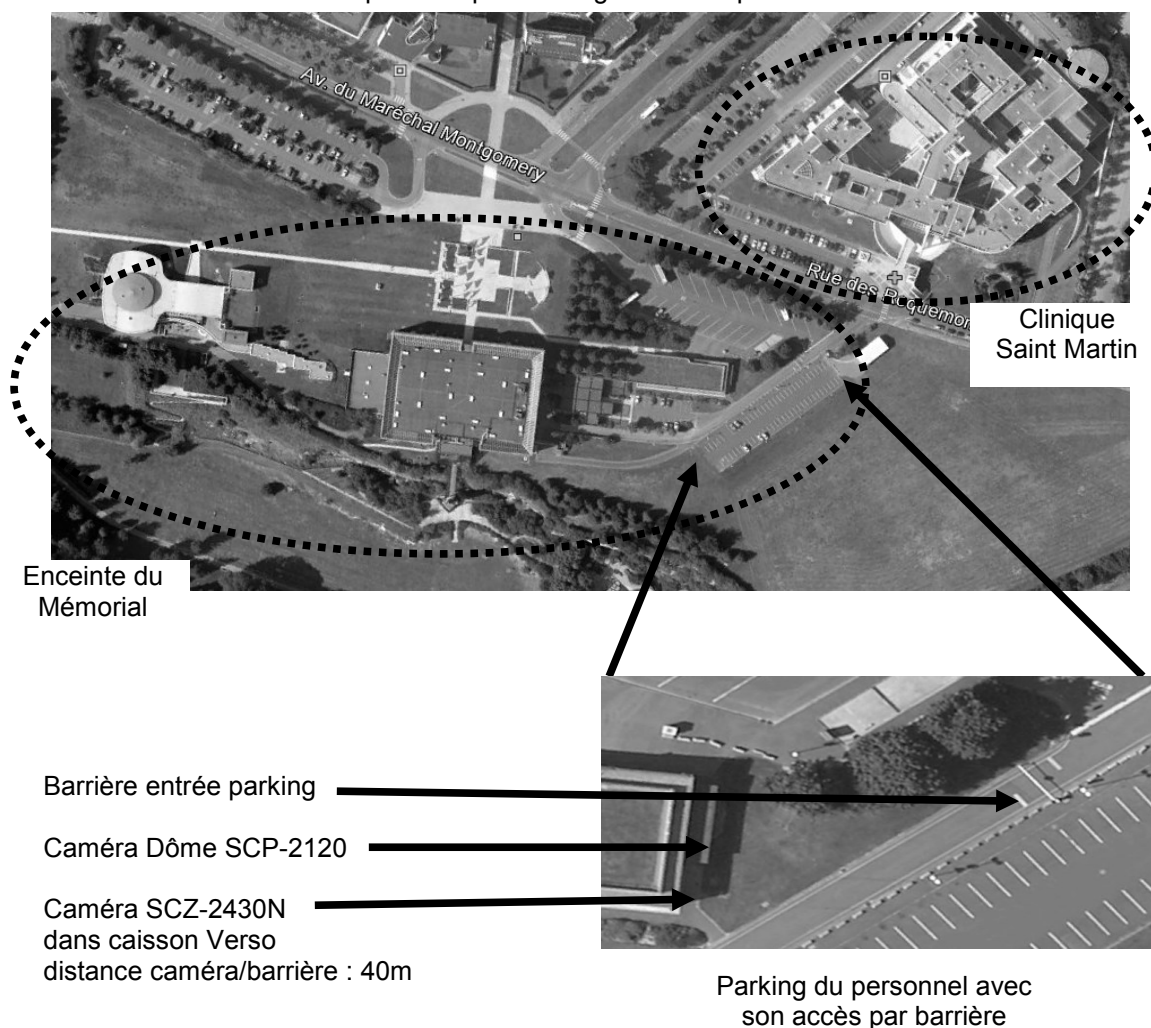
Le SSI devra gérer le contrôle « issue de secours » sur la porte extérieure d'accès au service administratif en coupant l'alimentation des ventouses si une alarme incendie se déclare.

NE RIEN ÉCRIRE DANS CETTE PARTIE



Il est demandé au candidat de justifier la proposition technique de système faite par l'entreprise prescripteur/installateur ASI-TECH permettant une étude du contrôle d'accès, de la vidéosurveillance et de la prise en charge au niveau SSI.

Photo aérienne du mémorial sur laquelle on peut distinguer la clinique.



NE RIEN ÉCRIRE DANS CETTE PARTIE

3.1 Approche globale du système de contrôle d'accès

Appréhender dans sa globalité le système centralisé mis en œuvre. Le contrôleur CT-V900-A, installé dans un local technique du bâtiment administratif, est associé à 2 boîtiers d'extensions CA-A470-A (un extérieur pour la barrière et l'autre dans l'espace musée pour les 2 portes de liaison musée/administration) et est administré depuis le poste de sécurité.

Question 3.1.1

Préciser la différence, pour la gestion des entrées/sorties des personnes, entre un système centralisé et un système comprenant des lecteurs ou claviers autonomes de contrôle d'accès.

--

Question 3.1.2

Relever les principales caractéristiques du contrôleur maître CT-V900-A.

Nombre de portes maximum contrôlées	
Nombre de lecteurs possibles	
Nombre d'entrées utilisant ATZ	
Nombre de sorties relais	
Valeurs des 3 tensions CC délivrées disponibles	

Question 3.1.3

Chaque personne travaillant au musée dispose d'un badge d'identification lui permettant d'accéder au parking du personnel et au bâtiment administratif. Le contrôleur CT-V900A propose une fonction « anti-passback ».

Préciser ce que cette fonction engendre au niveau du nombre de lecteurs à installer pour contrôler une porte.

--

Question 3.1.4

Tracer en couleur sur le synoptique du document réponse DR1 les liaisons (un seul trait par liaison) permettant de relier entre eux les borniers des éléments ci-dessous en fonction du CCTP.

- En vert : liaison E-Bus entre le contrôleur maître et les 2 extensions.
- En bleu : liaisons lecteurs et claviers au contrôleur et aux extensions.

NE RIEN ÉCRIRE DANS CETTE PARTIE

Question 3.1.5

Colorier (ON / OFF) les DIP SWITCH sur le document réponse DR1 permettant d'attribuer les bonnes adresses aux 2 modules d'extension :

Question 3.1.6

Cocher la case de l'équipement permettant de remplir la fonction « authentifiant » d'un lecteur de badge de proximité jugée plus élevée d'un point de vue sécurité qu'un contrôle par « identifiant ».

Lecteur d'empreinte digital

Lecteur de proximité à badge actif

Clavier à code

Détecteur de mouvement rideau

Question 3.1.7

Nommer le protocole utilisé entre le clavier GALEO et le contrôleur.

3.2 Communication et réseaux TCP/IP

Le technicien doit pouvoir communiquer avec le contrôleur en local ou à distance.

RS232, RS485 et USB sont des normes de communication série entre deux équipements. Toutes trois peuvent être utilisées pour établir un dialogue entre un équipement (CT-V900-A dans notre cas) et un ordinateur type PC équipé d'un logiciel de configuration en fonction de la distance séparent les équipements.

Question 3.2.1

Indiquer dans quel cas est utilisée chacune des normes : local, longue distance

USB :

RS485 :

Question 3.2.2

En cas d'absence de l'agent du service d'accueil, la supervision des accès est prise en charge par une société de télésurveillance.

Proposer le module nécessaire pour établir une liaison entre le contrôleur CTV900 et le PC de supervision de la société de télésurveillance.



NE RIEN ÉCRIRE DANS CETTE PARTIE

Question 3.2.3

Indiquer le format des données de la liaison série Module ←→ Port du CTV900.

Question 3.2.4

Ce module peut être configuré à travers un navigateur internet via son interface WEB. Pour cela, il est nécessaire de le paramétrer.

Compléter le tableau suivant en utilisant l'annexe 1: « Schéma du réseau du Mémorial ».

Adresse IP du module	
Masque de réseau	
N° de port	
Passerelle du LAN	
Adresse serveur DNS	

3.3 Consommation électrique des ventouses

Question 3.3.1

Les portes d'accès sont munies de dispositif de blocage par ventouse. Chaque porte dispose d'un bandeau intégrant deux ventouses pré-câblées et installées verticalement. On se propose de valider le choix de la carte CA-A110P de choisir une alimentation secourue et de proposer un schéma de câblage.

Donner la référence du bandeau ventouse devant être installé sur un châssis de porte mesurant 2,19m.

Question 3.3.2

Les cavaliers sont positionnés conformément à la représentation ci-contre.



Déterminer la tension d'alimentation des ventouses.

NE RIEN ÉCRIRE DANS CETTE PARTIE

Question 3.3.3

Relever la consommation d'une ventouse électromagnétique sous cette tension. Calculer la consommation pour le bandeau.

Question 3.3.4

Indiquer l'intensité typique délivrée par la sortie verrou « LK1 » du contrôleur CT-V900-A.

Question 3.3.5

Indiquer si la sortie LK1 peut commander le bandeau ventouse.

Question 3.3.6

Relever l'intensité nominale pouvant être délivrée par les sorties à contacts secs du module d'extension CA-A110-P.

Question 3.3.7

Justifier alors, aux vues des questions précédentes, l'utilisation de ce module pour pouvoir exploiter la sortie LK1 commandant le bloc ventouses.

Question 3.3.8

En cas de coupure secteur, les batteries du contrôleur CT-V900-A ne peuvent plus assurer le maintien de la porte gérée par LK1.

Donner les caractéristiques électriques minimales de sortie du bloc d'alimentation nécessaire pour alimenter les ventouses.

NE RIEN ÉCRIRE DANS CETTE PARTIE

Question 3.3.9

Choisir dans la documentation technique l'alimentation secourue nécessaire pour ce bandeau de ventouses et donner sa référence.

Question 3.3.10

Indiquer la capacité totale des batteries du bloc d'alimentation.

Question 3.3.11

Calculer le temps pendant lequel la porte restera contrôlée s'il y a une coupure secteur.

3.4 Étude du schéma de câblage

On se propose dans la suite de l'étude d'établir le schéma de raccordement des principaux éléments autour du contrôleur maître.

Question 3.4.1

Cocher la case permettant de rappeler la fonction de la diode de « roue libre » installée en dérivation sur la bobine des ventouses électromagnétiques.

Limitier le courant dans la bobine
Redresser la tension d'alimentation

Éviter les surtensions à la coupure
Éviter les parasites

Question 3.4.2

Noter sur la diode ci-dessous le « + » et le « - » de l'alimentation arrivant sur la ventouse.



NE RIEN ÉCRIRE DANS CETTE PARTIE

Question 3.4.3

Préciser les conséquences d'une inversion de branchement de cette diode au niveau du contrôleur et/ou de l'alimentation.

Question 3.4.4

Citer les 3 modes possibles de raccordements des entrées du contrôleur CT-900-A qui devront être paramétrées au moment de la programmation avec le logiciel CENTAUR.

Mode 1	Mode 2	Mode 3

Question 3.4.5

Compléter le schéma électrique sur le document réponse DR2 permettant le raccordement du contrôleur CT-V900-A aux principaux éléments gérant la porte d'entrée extérieure du secteur administratif.

Respecter les indications ci-dessous pour réaliser le travail demandé.

a) Sortie verrou LK1 (bandeau double ventouses).

Les ventouses seront câblées sur les bornes C1 et NC1 du module CA-A110-P en utilisant l'alimentation secourue extérieure, le BBG vert pour la sortie de secours avec son contact adapté (type NF ou NO) et en positionnant les diodes de roue libre pour chacune des ventouses.

b) Lecteur de proximité.

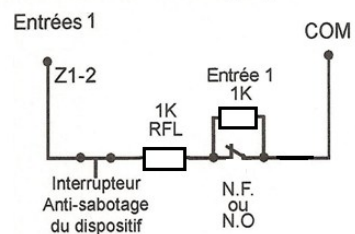
Il est câblé sur le bornier « lecteur 1 » en intégrant le +12V, le 0V, le DATA0 et le DATA1.

c) Entrées zones.

Le câblage respectera le mode « ATZ 3R » ci-contre.
Un détecteur d'ouverture (DO) avec ses 2 contacts AL et AP, câblé sur bornier « Z1-2 ».
Un bouton poussoir de sortie (BP) câblé sur « Z3-4 ».

Raccordement ATZ 3R

Reconnaissance d'alarme, de sabotage et de défectuosité de câblage (court-circuit)



NE RIEN ÉCRIRE DANS CETTE PARTIE

Question 3.4.6

Compléter le tableau suivant en indiquant les valeurs ohmiques vues par le contrôleur.

Situation du détecteur d'ouverture (DO)	ATZ 3R
DO en « veille »	
DO en « alarme » (porte ouverte)	
DO ouvert ou « saboté »	
Câble reliant le DO coupé	
Câble reliant le DO mis en court-circuit	

Question 3.4.7

Conclure sur l'intérêt de ce mode d'entrée au niveau sécurité et maintenance.

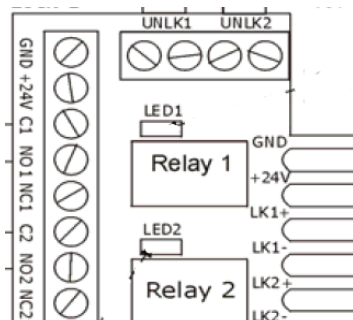
3.5 Étude de la modification nécessaire du SSI

Analyser les modifications nécessaires à apporter au SSI par ce nouveau système de contrôle d'accès afin que le CMSI soit en mesure de déverrouiller la porte extérieure du secteur administratif, en cas d'alarme feu, sachant que ce secteur est géré par de la détection conventionnelle.

Question 3.5.1

Le module CA-A110-P précédemment étudié dans la partie 3.3, nécessite d'être raccordé au CMSI dans la baie incendie située dans un local technique du PC sécurité.

Entourer sur le module ci-dessous les 2 bornes pour ventouse 1 qui seront reliées au contact de sortie SSI.



NE RIEN ÉCRIRE DANS CETTE PARTIE

Question 3.5.2

Pour que la sortie 1 (C1-NC1) soit active, il faut que les bornes « UNLIK1 » soient reliées.

Préciser le type de sortie que devra chercher le technicien sur le CMSI pour relier ces 2 systèmes SSI/contrôle d'accès.

Question 3.5.3

Identifier la catégorie (C2, CR1) du câble incendie 1 paire non écranté à utiliser pour relier cette sortie du CMSI à l'entrée de ce module. Justifier votre réponse.

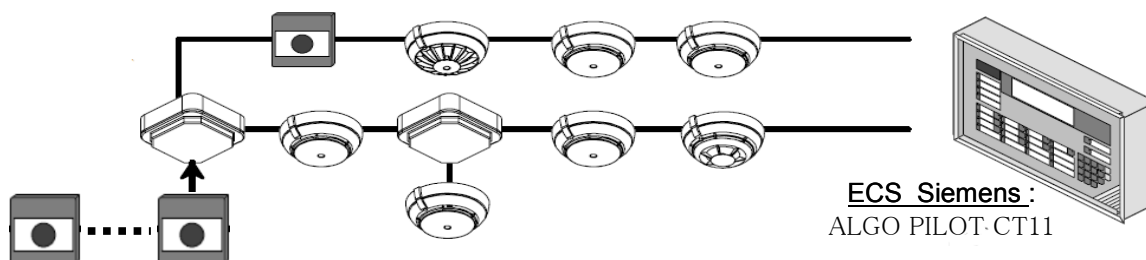
Question 3.5.4

Proposer alors la référence du câble à commander dans la documentation technique. Justifier votre réponse.

Le bâtiment d'origine du Mémorial date de 1988. Une extension a été réalisée en 2002 et le SSI avait alors été revu en conséquence. Pour cette nouvelle partie, l'ECS (Équipement de Contrôle et de Signalisation) est devenu entièrement adressable ; en revanche, les lignes conventionnelles de déclencheurs manuels de l'existant ont été maintenues mais incorporées dans les bus de détection à l'aide de boîtiers interface.

Question 3.5.5

Entourer sur le schéma de principe ci-dessous le boîtier interface reprenant ces DM (Déclencheur Manuel) conventionnels.



NE RIEN ÉCRIRE DANS CETTE PARTIE

Question 3.5.6

Justifier le fait que les agents de sécurité localisent plus rapidement une alarme feu lorsqu'elle provient de l'extension du bâtiment (partie 2002) que de la partie d'origine (1988).

3.6 Vidéo surveillance du parking personnel et de l'entrée administration

Suite au renforcement des mesures de sécurité touchant les lieux accueillants du public dans le cadre du plan «VIGIPIRATE », la direction du Mémorial doit faire installer un système de vidéosurveillance à reconnaissance faciale.

Une première caméra SAMSUNG SCZ-2430N est placée dans un caisson VERSO HPV42K1A000 dans l'angle du bâtiment administratif dirigé vers la barrière d'accès au parking.
La distance entre l'objectif et la barrière est de 40 mètres.

Question 3.6.1

Donner l'angle du champ de vision angulaire horizontal en fonction téléobjectif de la caméra SCZ 2430 43x pointant sur le parking. On notera cet angle α_H .

Angle horizontal $\alpha_H =$

Question 3.6.2

Calculer alors la largeur du champ de vision au niveau de la barrière située à 40 m de la caméra.

Question 3.6.3

Justifier, en vous servant du document technique « Exigences vidéo pour la reconnaissance », si l'agent peut alors reconnaître une personne à cette distance. (*Largeur d'un visage =20 cm en moyenne*).

NE RIEN ÉCRIRE DANS CETTE PARTIE

Question 3.6.4

Cette caméra est placée dans un caisson de marque Verso référencé HPV42K1A000.

Citer quatre avantages de ce caisson.

--	--

Une seconde caméra Samsung SCP 2120 reliée à un contrôleur PTZ est à installer à l'accueil du bâtiment administratif.

Question 3.6.5

Relever les valeurs de zoom de cette caméra.

Zoom optique :	Zoom numérique :
----------------	------------------

Question 3.6.6

Expliquer la différence entre un zoom optique et un zoom numérique.

Zoom optique :
Zoom numérique :

Question 3.6.7

Justifier si un éclairage supplémentaire est nécessaire lorsque la nuit tombe.

--

Question 3.6.8

Indiquer, en tenant compte deux études précédentes, quelle est la caméra répondant le mieux aux exigences de la réglementation « VIGIPIRATE ».

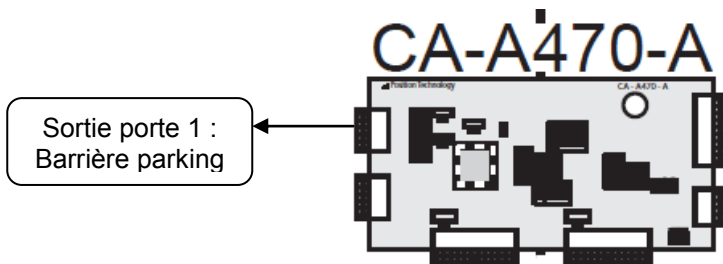
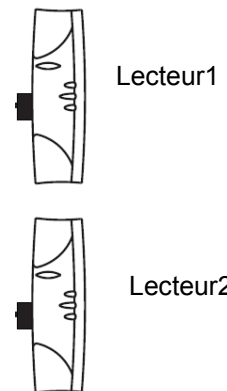
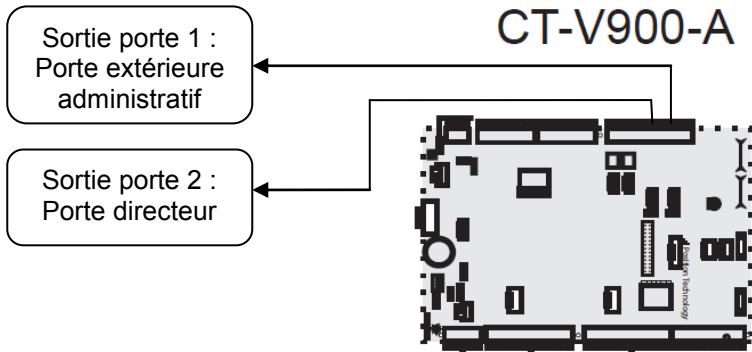
--

NE RIEN ÉCRIRE DANS CETTE PARTIE

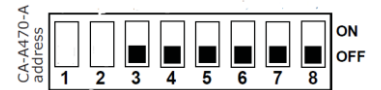
Partie 4 : Documents réponses

4.1 Document réponse DR1

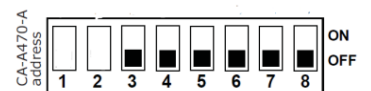
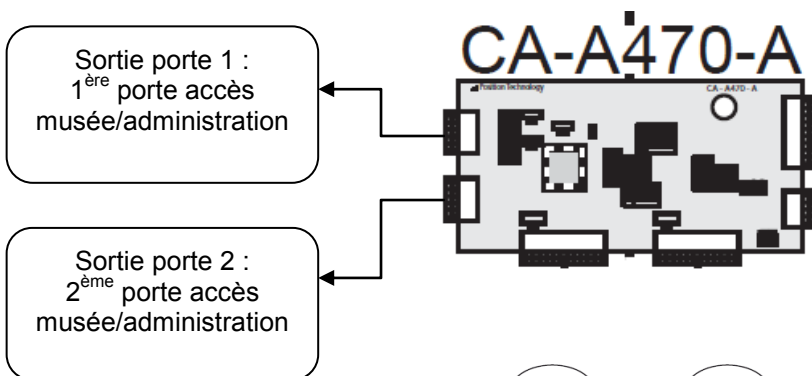

Question 3.1.4 et question 3.1.5.



Réponse à la question 3.1.5



Adressage du premier
Boitier d'extension



Adressage du deuxième
Boitier d'extension

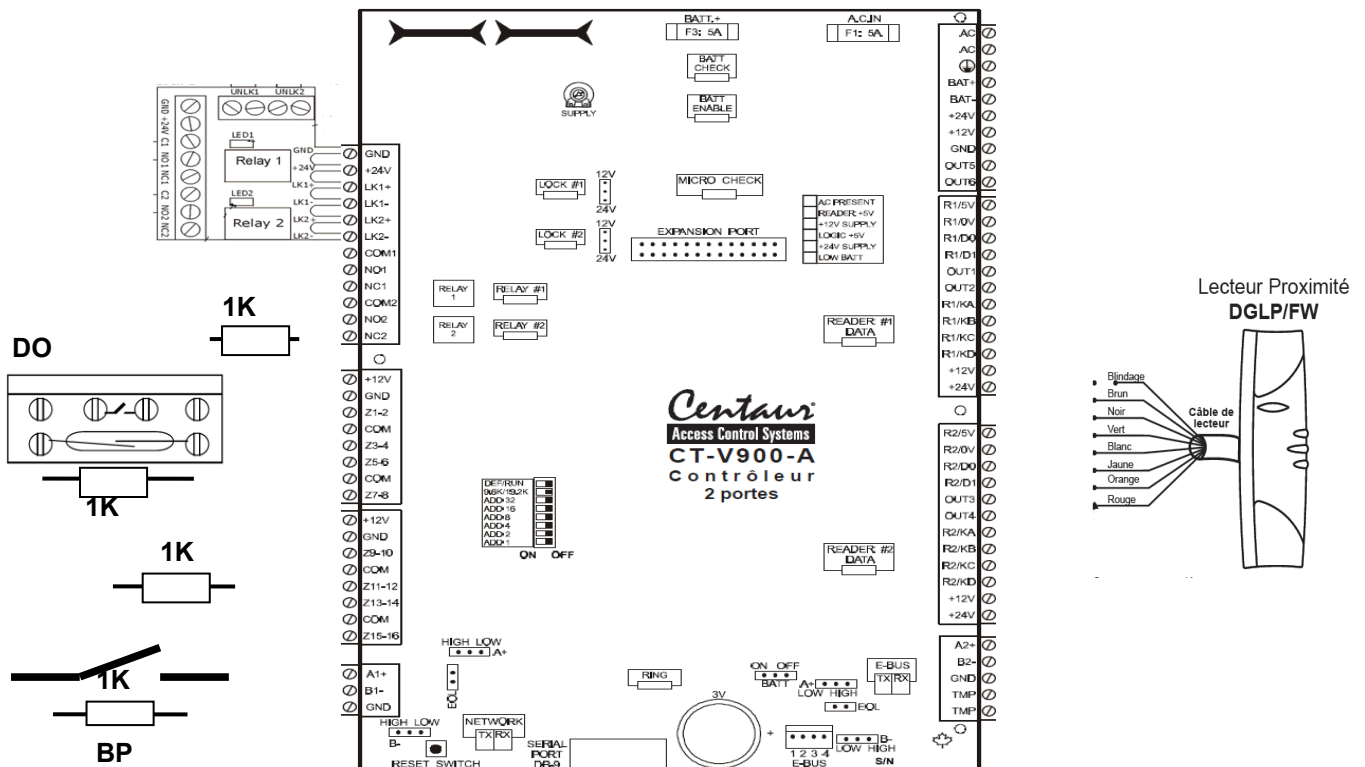
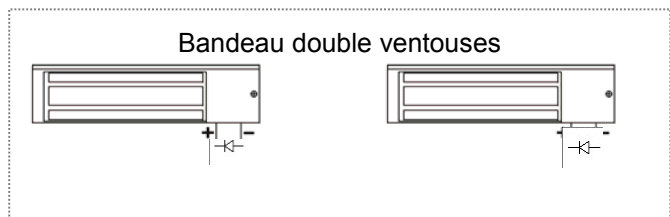
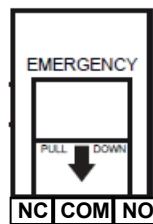
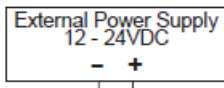


NE RIEN ÉCRIRE DANS CETTE PARTIE

4.2 Document réponse DR2

Question 3.4.5.

Lecteur de proximité :
Data0 (vert) ; Data1 (blanc) ; masse (noir) ; +12VCC (rouge)



NE RIEN ÉCRIRE DANS CETTE PARTIE

Barème

QUESTIONNEMENT TRONC COMMUN			
Question 2.1.1	/ 0,5	Question 2.4.1	/ 0,5
Question 2.1.2	/ 1	Question 2.4.2	/ 0,5
Question 2.1.3	/ 1,25	Question 2.4.3	/ 0,5
Question 2.1.4	/ 0,75	Question 2.4.4	/ 1,5
Question 2.1.5	/ 0,75	Question 2.4.5	/ 1,5
Question 2.1.6	/ 1,25	Question 2.4.6	/ 0,5
Question 2.1.7	/ 0,5	Question 2.4.7	/ 0,5
Question 2.1.8	/ 0,5	Question 2.4.8	/ 1
Question 2.1.9	/ 1	Total 2.4	/ 6,5
Question 2.1.10	/ 1	Question 2.5.1	/ 1
Total 2.1	/ 8,5	Question 2.5.2	/ 0,5
Question 2.2.1	/ 1	Question 2.5.3	/ 4
Question 2.2.2	/ 0,5	Question 2.5.4	/ 0,5
Question 2.2.3	/ 2	Question 2.5.5	/ 1,5
Question 2.2.4	/ 1	Question 2.5.6	/ 0,5
Question 2.2.5	/ 1	Question 2.5.7	/ 0,5
Question 2.2.6	/ 1	Question 2.5.8	/ 1
Question 2.2.7	/ 1	Total 2.5	/ 9,5
Total 2.2	/ 7,5	Question 2.6.1	/ 1
Question 2.3.1	/ 1	Question 2.6.2	/ 1
Question 2.3.2	/ 0,5	Question 2.6.3	/ 1
Question 2.3.3	/ 2	Question 2.6.4	/ 1
Question 2.3.4	/ 0,5	Question 2.6.5	/ 0,5
Question 2.3.5	/ 2,25	Question 2.6.6	/ 1
Question 2.3.6	/ 0,75	Question 2.6.7	/ 2
Question 2.3.7	/ 0,5	Total 2.6	/ 7,5
Question 2.3.8	/ 1		
Question 2.3.9	/ 0,75		
Question 2.3.10	/ 1,25		
Total 2.3	/ 10,5	Total TRONC COMMUN	/ 50

NE RIEN ÉCRIRE DANS CETTE PARTIE

QUESTIONNEMENT SPÉCIFIQUE					
Question 3.1.1	/ 1	Question 3.3.6	/ 1	Question 3.5.1	/ 1
Question 3.1.2	/ 1	Question 3.3.7	/ 1,5	Question 3.5.2	/ 1
Question 3.1.3	/ 0,5	Question 3.3.8	/ 1	Question 3.5.3	/ 1
Question 3.1.4	/ 2	Question 3.3.9	/ 1,5	Question 3.5.4	/ 1
Question 3.1.5	/ 1	Question 3.3.10	/ 0,5	Question 3.5.5	/ 1
Question 3.1.6	/ 1	Question 3.3.11	/ 1,5	Question 3.5.6	/ 1
Question 3.1.7	/ 0,5	Total 3.3	/ 11,5	Total 3.5	/ 6
Total 3.1	/ 7	Question 3.4.1	/ 1	Question 3.6.1	/ 0,5
Question 3.2.1	/ 1,5	Question 3.4.2	/ 1	Question 3.6.2	/ 1
Question 3.2.2	/ 1,5	Question 3.4.3	/ 1	Question 3.6.3	/ 1
Question 3.2.3	/ 0,5	Question 3.4.4	/ 1	Question 3.6.4	/ 2
Question 3.2.4	/ 2,5	Question 3.4.5	/ 3	Question 3.6.5	/ 1,5
Total 3.2	/ 6	Question 3.4.6	/ 2,5	Question 3.6.6	/ 1
Question 3.3.1	/ 0,5	Question 3.4.7	/ 1,5	Question 3.6.7	/ 0,5
Question 3.3.2	/ 1	Total 3.4	/ 11	Question 3.6.8	/ 1
Question 3.3.3	/ 1			Total 3.6	/ 8,5
Question 3.3.4	/ 1				
Question 3.3.5	/ 1			Total SPÉCIFIQUE	/ 50
				Note totale obtenue	/ 100
				NOTE DU CANDIDAT	/ 20