

DANS CE CADRE	Académie :	Session :	
	Examen :	Série :	
	Spécialité/option :	Repère de l'épreuve :	
	Epreuve/sous épreuve :		
	NOM :		
	(en majuscule, suivi s'il y a lieu, du nom d'épouse)		
NE RIEN ÉCRIRE	Prénoms :	N° du candidat	<input type="text"/>
	Né(e) le :	(le numéro est celui qui figure sur la convocation ou liste d'appel)	
	Appréciation du correcteur		
	Note :		

Il est interdit aux candidats de signer leur composition ou d'y mettre un signe quelconque pouvant indiquer sa provenance.

SUJET

CAP ARTS ET TECHNIQUES DU VERRE

EP1 HISTOIRE DE L'ART

OPTION VITRAILLISTE

Session 2022

DURÉE : 1 HEURE

COEFFICIENT : 14

Avec les Arts Appliqués et la Mise en œuvre

Dès que le sujet vous est remis, assurez-vous qu'il est complet.
Le sujet comporte 11 pages numérotées de la page 1/11 à la page 11/11

L'usage de la calculatrice est interdit.

L'ensemble des 11 pages du sujet, complétées des réponses, est à rendre à l'issue de l'épreuve.

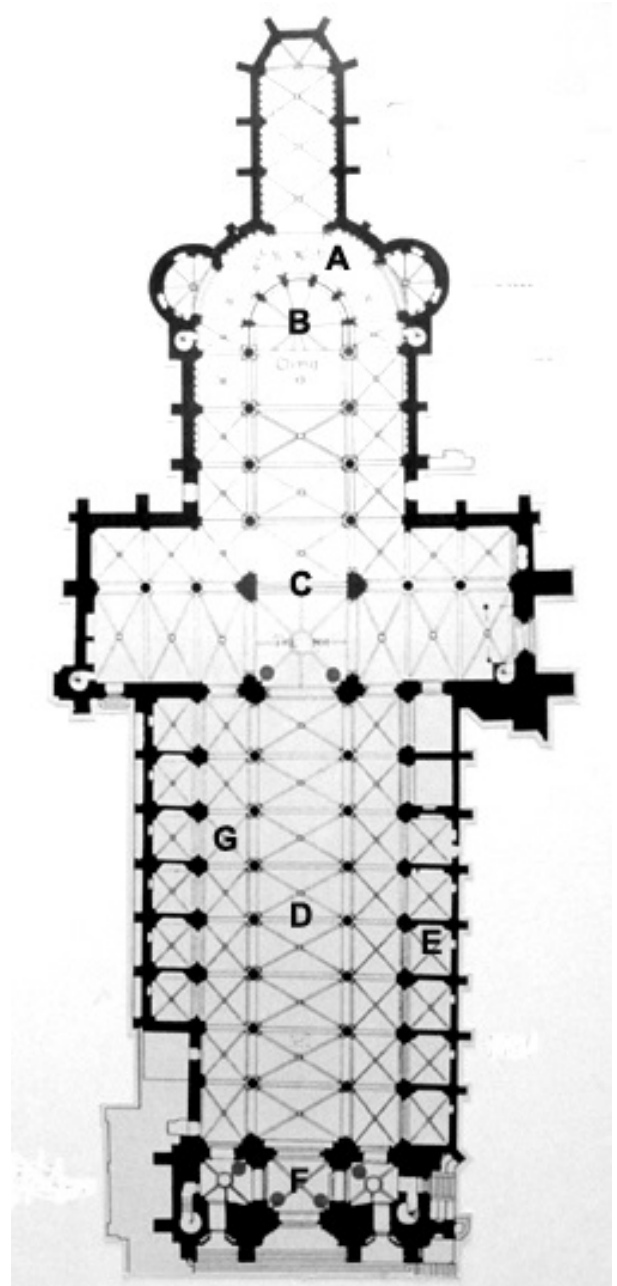
CAP arts et technique du verre option vitrailliste	2206-CAP ATVV EP1 1	Session 2022	Sujet
ÉPREUVE : histoire de l'art	Durée : 16h00	Coefficient : 14	Page 1/11

NE RIEN ÉCRIRE DANS CETTE PARTIE

Question 1 (0,5 pt par terme exact donné = 3,5 pts)

Sur le plan au sol de la cathédrale orientée Saint Pierre de Lisieux (14 - Calvados), renseigner les termes du vocabulaire architectural dans le tableau ci-dessous, en suivant les lettres apparaissant sur le document.

A	
B	
C	
D	
E	
F	
G	



NE RIEN ÉCRIRE DANS CETTE PARTIE

Question 2 (0,5 pt par réponse exacte = 2 pts)

Quatre verrières appartenant à quatre époques et quatre styles différents sont présentées en couleurs ci-après (pages 3/11 et 4/11). Identifier, pour chacune d'entre elles, leur siècle de création en marquant une croix dans la case correspondante du tableau, page 4/11 (une seule croix par case) :



Document 1




Document 2

CAP arts et technique du verre option vitrailliste	2206-CAP ATVV EP1 1	Session 2022	Sujet
ÉPREUVE : histoire de l'art	Durée : 16h00	Coefficient : 14	Page 3/11

NE RIEN ÉCRIRE DANS CETTE PARTIE



Document 3




Document 4

	Début XXe siècle	XVIe siècle	XIIIe siècle	Fin XXe siècle
Document 1				
Document 2				
Document 3				
Document 4				

NE RIEN ÉCRIRE DANS CETTE PARTIE

Question 3 (0,5 pt par réponse exacte = 3 pts)



Donner l'appellation du style de la verrière :

.....

Citer au moins **deux** types de peinture sur verre apparaissant dans cette verrière :

.....

.....

Renseigner les termes architecturaux (A et C) :

A

C

Renseigner l'élément de fixation des vitraux (B) :

B

NE RIEN ÉCRIRE DANS CETTE PARTIE

Question 4 (0,5 pt par réponse exacte = 1 pt)




Donner l'appellation du style des vitraux :

.....

Dans quel célèbre édifice parisien se situent ces verrières ?

.....

Question 5 (0,5 pt par réponse exacte = 1,5 pt)



Comment se nomme l'ajour central ?

.....

Quel est le style architectural de la rosace ?


.....

Quel est le style des vitraux ?

.....

NE RIEN ÉCRIRE DANS CETTE PARTIE

Question 6 (0,5 pt par réponse exacte = 3 pts)



Quel est le style de la verrière ?

.....

Quels sont les **deux** types de peinture sur verre apparaissant sur les vitraux ?

.....

.....

Renseigner les appellations des ajours (A, B et C) :

A

B

C

NE RIEN ÉCRIRE DANS CETTE PARTIE

Question 7 (0,5 pt par réponse exacte = 1 pt)



Donner l'appellation du style des vitraux :

.....

Quel type de verre industriel était fréquemment utilisé par les verriers de cette époque-là ?

.....

Question 8 (0,5 pt par réponse exacte = 1,5 pt)



Ici apparaissent **trois** éléments métalliques participant à la fixation des vitraux dans la baie, donner leur appellation :

.....


.....

.....

NE RIEN ÉCRIRE DANS CETTE PARTIE

Question 9 (0,5 pt)

Indiquer le **sens de lecture** de cette verrière en renseignant par un chiffre l'ordre chronologique des panneaux (petits carrés blancs sur le document à droite) :




CAP arts et technique du verre option vitrailliste	2206-CAP ATVV EP1 1	Session 2022	Sujet
ÉPREUVE : histoire de l'art	Durée : 16h00	Coefficient : 14	Page 9/11

NE RIEN ÉCRIRE DANS CETTE PARTIE

Question 10 (0,5 pt par réponse exacte = 3 pts)

Sur chacun des deux panneaux ci-après (pages 10/11 et 11/11), citer au moins **deux** éléments du vitrail qui indiquent que la scène se déroule **soit** à l'intérieur **soit** à l'extérieur :



La scène se déroule à l'

Deux éléments justifiant la réponse :

.....

.....

.....

CAP arts et technique du verre option vitrailliste	2206-CAP ATVV EP1 1	Session 2022	Sujet
ÉPREUVE : histoire de l'art	Durée : 16h00	Coefficient : 14	Page 10/11

NE RIEN ÉCRIRE DANS CETTE PARTIE



La scène se déroule à l'.....

Deux éléments justifiant la réponse :

.....

.....

.....

CAP arts et technique du verre option vitrailliste	2206-CAP ATVV EP1 1	Session 2022	Sujet
ÉPREUVE : histoire de l'art	Durée : 16h00	Coefficient : 14	Page 11/11