

**CAP**  
**Menuisier Fabricant de Menuiserie, Mobilier et Agencement**  
**Session 2019**

**Epreuve EP3 : Pose de mobiliers d'agencement intérieur**  
Epreuve pratique - coefficient 4 - durée : 7h00

***DOSSIER CORRIGÉ***  
***ET BARÈME***

Dossier Corrigé : **Habillage mural WC suspendu**

DC : 1/2 à DC : 2/2

✓ Suggestion de pose, questionnaire

page DC : 1/2

✓ Barème de correction

pages DC : 1/2 et 2/2

**L'usage de tout modèle de calculatrice, avec ou sans mode examen, est autorisé.**




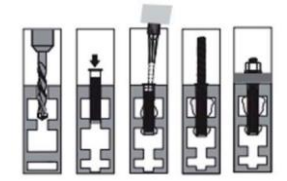
<b>CAP Menuisier Fabricant de Menuiserie, Mobilier et Agencement</b>	Session 2019	Page de garde DC
Epreuve : EP3 – Pose de mobiliers d'agencement intérieur	Durée : 7h00	Coef : 4

## QUESTIONNAIRE

1) Vous allez tracer l'implantation de tous vos tasseaux, de quel(s) outillage(s) avez-vous besoin immédiatement ? Cocher la(les) case(s) correspondante(s).

	Tournevis plat	Niveau à bulle	<b>X</b>
	Marteau	Visseuse	
<b>X</b>	Crayon	Scie sauteuse	
		Cheville autoforeuse	
	Échelle	Pointe tête homme	
<b>X</b>	Mètre à ruban	Rabot	
	Perceuse	Rallonge électrique	
	Vis VBA 5x35	Autre : _____	

2) Le support mural est de type cloison sèche Placoplâtre, quelle cheville allez-vous choisir ? Cocher la case grisée, plusieurs réponses possibles.

	 Cheville nylon sans collerette	 Cheville métallique à expansion	<b>X</b>
<b>X</b>	 Cheville autoforeuse	 Scellement chimique	

3) Les scies radiales pendulaires étant indisponibles, vous allez effectuer les différentes coupes de vos pièces à la scie sauteuse, choisissez parmi les différentes lames de votre caisse à outil la lame préconisée. (DR page 2/2)

Opération	Référence lame
Découpe droite lame lambris	Réf : <b>123456</b>
Découpe tablette médium	Réf : <b>345678</b>
Chantournage lame lambris pour le tuyau d'évacuation	Réf : <b>234567</b>

## PROPOSITION DE BARÈME DE CORRECTION

N° DU CANDIDAT \_\_\_\_\_

Travail demandé :	Travail exigé :	Travail évalué :
<b>Questionnaire</b> Répondre au questionnaire.	Les réponses correspondent au dossier corrigé.	/15
<b>Organisation</b> Le lieu de pose est organisé, propre. Les consignes de sécurité sont appliquées.	<ul style="list-style-type: none"> <li>• Organisation du poste de travail. _____ /2</li> <li>• Port des équipements de protection individuelle. ____ /1</li> <li>• Nettoyage du poste de travail. _____ /2</li> </ul>	/5
<b>Sous-total A</b>		<b>/20</b>
<b>Ossature :</b> Pose de tasseaux	<ul style="list-style-type: none"> <li>• Les tasseaux sont alignés au mécanisme WC. _____ /6</li> <li>• Les tasseaux sont d'aplomb. _____ /6</li> <li>• Les tasseaux sont de niveau. _____ /6</li> <li>• Les tasseaux sont correctement fixés au support mural. _____ /6</li> </ul>	/24
<b>Sous-total B</b>		<b>/24</b>

<p><b>Caisson :</b> Assemblage du caisson</p>	<ul style="list-style-type: none"> <li>Le caisson est plan et perpendiculaire. _____ /4</li> <li>Les dimensions du caisson sont exactes. _____ /4</li> <li>Le percement des taquets d'étagères est correct. _____ /4</li> <li>Les coupes d'onglets des couvre-joints sont jointives. _____ /4</li> <li>L'assemblage caisson/ossature est assuré. _____ /4</li> </ul>	/20
<b>Sous-total C</b>		/20
<p><b>Habillage :</b> Pose des lames de lambris, plinthe</p>	<ul style="list-style-type: none"> <li>Les mises en longueurs des lames de lambris sont respectées -2mm. _____ /5</li> <li>La mise en longueur de la plinthe est respectée -2mm. _____ /5</li> <li>Les pointes sont non visibles. _____ /5</li> <li>Les jeux autour du tuyau sont respectés -2mm. _____ /5</li> </ul>	/20
<b>Sous-total D</b>		/20

<p><b>Tablettes</b></p>	<ul style="list-style-type: none"> <li>Les tablettes de rives sont ajustées à la cellule de pose. _____ /2</li> <li>Le positionnement des loqueteaux est correct (tablette affleure des autres). _____ /4</li> <li>Les vis de fixation sont correctement positionnées. _____ /2</li> <li>Les arêtes extérieures sont abattues. _____ /2</li> </ul>	/10
<b>Sous-total E</b>		/10
<p><b>Finition</b></p>	<ul style="list-style-type: none"> <li>Les arêtes vives sont abattues. _____ /2</li> <li>La finition est assurée. _____ /4</li> </ul>	/6
<b>Sous-total F</b>		/6
<b>Total A+B+C+D+E+F</b>		<b>/100</b>