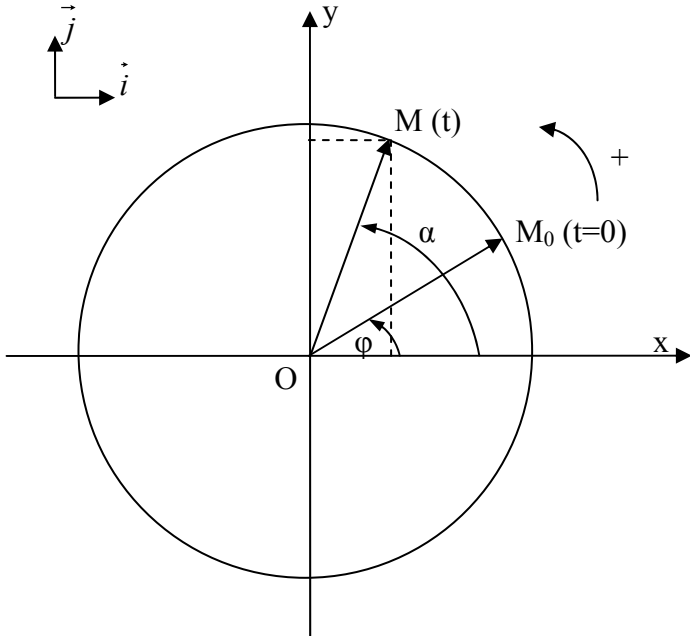


I°/ Le vecteur de Fresnel associé à une grandeur sinusoïdale :



a/ Questions préliminaires :

Le point M se déplace à vitesse angulaire constante ω sur le cercle de centre O.
 Que représente l'angle φ ?

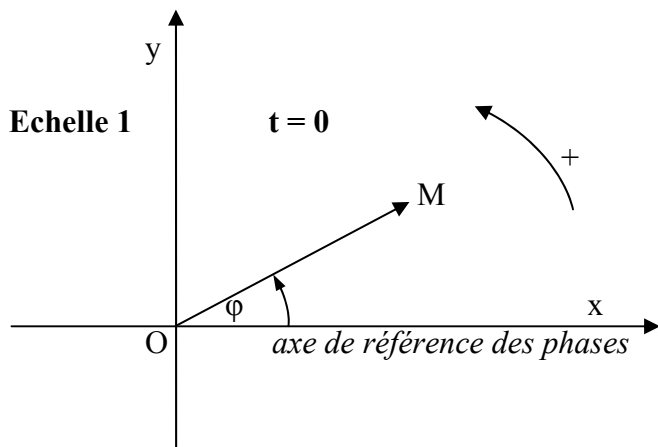
α est l'angle que fait le vecteur \overrightarrow{OM} avec l'axe Ox à la date t. Donner son expression littérale en fonction de t et de constantes.
 $\alpha =$

Donner l'expression littérale de l'abscisse x du point M à la date t en fonction de t et de constantes)
 $x =$

Donner l'expression littérale de l'ordonnée y du point M à la date t, en fonction de t et de constantes)
 $y =$

b/ Définition du vecteur de Fresnel :

- A tout vecteur \overrightarrow{OM} tournant à vitesse constante autour de O, on peut associer une fonction sinusoïdale y représentant l'ordonnée de l'extrémité du vecteur tournant.
- Réciproquement, à toute fonction sinusoïdale y, on peut associer un vecteur dit vecteur de Fresnel tournant à vitesse angulaire constante ω autour du point O.
- Ce vecteur est représenté dans la position qu'il occupe à la date $t=0$, l'axe de référence des phases étant l'axe Ox.



Vecteur de Fresnel : à $t = 0$



\overrightarrow{OM}	Norme :
	$(\overrightarrow{Ox}, \overrightarrow{OM}) =$

Fonction sinusoïdale associée :
 $y =$

c/ Applications :


Représenter à l'échelle 1 les vecteurs de Fresnel $\overrightarrow{OM_1}$, $\overrightarrow{OM_2}$, $\overrightarrow{OM_3}$ associés aux fonctions sinusoïdales suivantes :

$$y_1 = 4 \sin \left(\omega \times t + \frac{\pi}{6} \right) \quad y_2 = 2,5 \sin \left(\omega \times t - \frac{\pi}{3} \right) \quad y_3 = 3 \sin \left(\omega \times t + \frac{4\pi}{3} \right) \quad y \text{ en cm}$$



$$\overrightarrow{OM_1} \left| \begin{array}{l} \text{Norme : } \dots\dots\dots \\ (\overrightarrow{Ox}, \overrightarrow{OM_1}) = \dots\dots\dots \end{array} \right.$$

$$\overrightarrow{OM_2} \left| \begin{array}{l} \text{Norme : } \dots\dots\dots \\ (\overrightarrow{Ox}, \overrightarrow{OM_2}) = \dots\dots\dots \end{array} \right.$$



$$\overrightarrow{OM_3} \left| \begin{array}{l} \text{Norme : } \dots\dots\dots \\ (\overrightarrow{Ox}, \overrightarrow{OM_3}) = \dots\dots\dots \end{array} \right.$$

Pourquoi choisit-on de représenter le vecteur de Fresnel à la date $t = 0$?

II°/ Utilisation du vecteur de Fresnel pour les tensions et intensités de courant sinusoïdales:


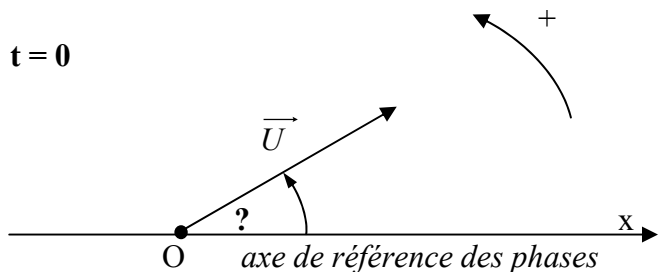
a/ Expression des tensions et intensités de courants sinusoïdaux :

Exemples : $u = U_m \sin (\omega \times t + \frac{\pi}{6}) = U \sqrt{2} \sin (\omega \times t + \frac{\pi}{6})$

$i = I_m \sin (\omega \times t) = I \sqrt{2} \sin (\omega \times t).$

Que représentent U et I ?.....

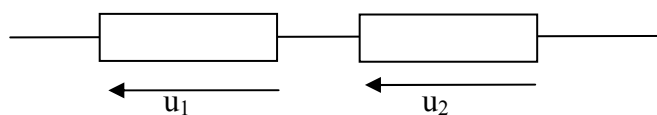
Représentation des vecteurs de Fresnel associés : \vec{U} et \vec{I}



$(\vec{Ox}, \vec{U}) = \dots\dots\dots$

Représenter le vecteur de Fresnel \vec{I} sur le schéma de droite (longueur arbitraire)

b/ Addition de deux tensions sinusoïdales :



$u_1 = U_1 \sqrt{2} \sin (\omega \times t + \varphi_1)$
 $u_2 = U_2 \sqrt{2} \sin (\omega \times t + \varphi_2)$

On cherche la tension $u = u_1 + u_2$

à u_1 on associe le vecteur de Fresnel \vec{U}_1 tel que \vec{U}_1

Norme : U_1
 $((\vec{Ox}, \vec{U}_1) = \varphi_1$

à u_2 on associe le vecteur de Fresnel \vec{U}_2 tel que \vec{U}_2

Norme : U_2
 $((\vec{Ox}, \vec{U}_2) = \varphi_2$

à u on associe le vecteur de Fresnel \vec{U} tel que $\vec{U} = \vec{U}_1 + \vec{U}_2$ car $u, u_1,$ et u_2 sont les projections sur le même axe Oy des vecteurs \vec{U}, \vec{U}_1 et \vec{U}_2 et si l'on a $u = u_1 + u_2$ on a aussi $\vec{U} = \vec{U}_1 + \vec{U}_2$.

$$\vec{U} \quad \left| \begin{array}{l} \text{Norme : } U \\ ((\vec{Ox}, \vec{U}) = \phi \end{array} \right.$$

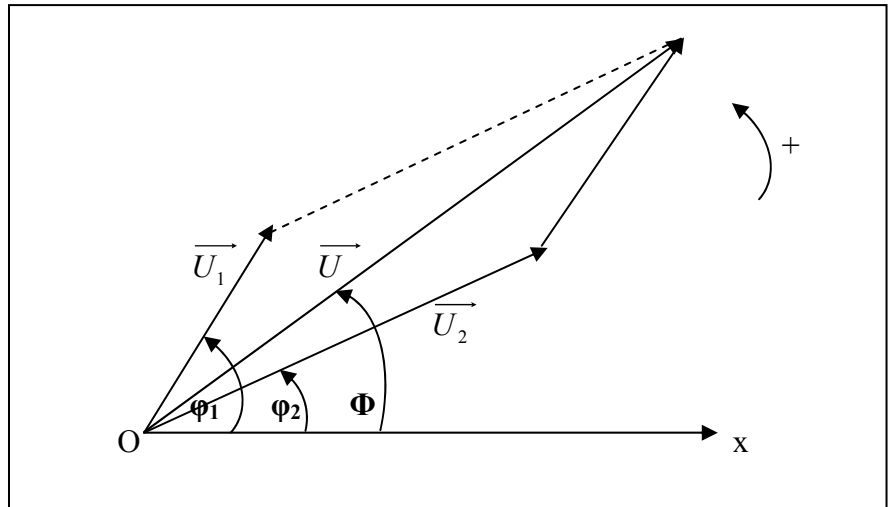
On fait la somme géométrique des deux vecteurs

\vec{U}_1 et \vec{U}_2 pour obtenir

le vecteur \vec{U}

On en déduit u

$$u = U\sqrt{2} \sin(\omega \times t + \Phi)$$



c/ applications :

1°/ On donne les tensions suivantes :

$$u_1 = 5\sqrt{2} \sin(100\pi \times t + \frac{\pi}{4}) \quad \text{en V}$$

$$u_2 = 3,5\sqrt{2} \sin(100\pi \times t + \frac{\pi}{3}) \quad \text{en V}$$

- On demande à partir de la construction de Fresnel de déterminer, l'expression de la tension sinusoïdale $u = f(t)$ tel que :

$$u = u_1 + u_2$$

- Puis toujours à partir de la construction de Fresnel, l'expression de la tension sinusoïdale $u' = f(t)$ tel que

$$u' = u_1 - u_2$$

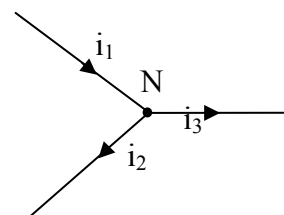
On utilisera du papier millimétré pour la construction et on précisera l'échelle choisie

2°/ On donne les intensités de courant suivantes

$$i_1 = 0,06 \sin(200\pi \times t + \frac{2\pi}{3}) \quad \text{en A}$$

$$i_2 = 0,04 \sin(200\pi \times t) \quad \text{en A}$$

- Ecrire la loi des nœuds au nœud N.
- A partir de la construction de Fresnel, déterminer l'expression de l'intensité $i_3 = f(t)$



On utilisera du papier millimétré pour la construction et on précisera l'échelle choisie.

d/ Utilisation d'Excel :

1°/ $u = u_1 + u_2$

- Ligne N°1, en se déplaçant d'une colonne à l'autre avec la touche tabulation, on écrit dans l'ordre t, u_1 , u_2 et u avec les unités entre parenthèses
- Dans la colonne A, ligne 2 c'est à dire dans la cellule A2, on écrit 0
dans la cellule A3 0,001
A3-A2 = 0,001 s

La période étant $T = \dots$ ms, l'intervalle de temps séparant ces deux mesures est donc $\Delta t = \frac{T}{\dots}$

Pour répéter le même intervalle de temps entre deux mesures consécutives, on sélectionne ensemble les deux cellules A2 et A3 et on fait apparaître en bas à droite de la cellule A3 par un clic gauche une petite croix; on descend la colonne en maintenant la pression sur le bouton gauche. Les valeurs de t séparées par un intervalle constant s'affichent. Afficher un nombre de valeurs correspondant à deux ou trois périodes.

- Dans la cellule B2, écrire l'expression de u_1
 $= 7 * \sin(314 * A2 + 0,785)$ ←
- Dans la cellule C2, écrire l'expression de u_2
 $= 4,95 * \sin(314 * A2 - 1,046)$ ←
- Dans la cellule D2, écrire l'expression de u
 $= B2 + C2$ ←

Remarque : pour éviter d'écrire le nom des cellules, il suffit de cliquer (clic gauche) dans la cellule considérée; son nom s'affiche alors à côté du curseur

	A	B	C	D
1	t (s)	u_1 (V)	u_2 (V)	u (V)
2	0	4,94777627	4,28385874	9,231635
3	0,001	6,23527323	4,84042978	11,075703
4	0,002	6,9130318	4,92366217	11,836694
5	0,003	6,91477494	4,52541672	11,4401917
6	0,004	6,2403322	3,68463729	9,92496949
7	0,005	4,95565636	2,48354248	7,43919884
8	0,006	3,18637402	1,03958563	4,22595965
9	0,007	1,10550075	-0,5060308	0,59946995
10	0,008	-1,08347785	-2,00216321	-3,08564106
11	0,009	-3,1665047	-3,30250696	-6,46901167
12	0,01	-4,93988362	-4,27990331	-9,21978694
13	0,011	-6,23019844	-4,83877408	-11,0689725
14	0,012	-6,91127112	-4,9244681	-11,8357392
15	0,013	-6,91650055	-4,52860547	-11,445106
16	0,014	-6,24537535	-3,68989704	-9,93527239

- graphique : $u = f(t)$
Sélectionner la colonne A, puis en appuyant sur la touche Ctrl, sélectionner aussi la colonne D
La première colonne sélectionnée est l'abscisse, la deuxième l'ordonnée.
Cliquer sur l'icône graphique. Choisir nuages de points puis le graphique correspondant aux courbes lissées.

- Utilisation du graphique : sur le graphique relever la valeur de U_{\max} , puis celle de u_0 c'est à dire la valeur de la tension u à la date $t = 0$

$$u = U_{\max} \sin (100\pi \times t + \varphi)$$

Ecrire la relation entre u_0 et φ . En déduire la valeur de φ

- Comparer les valeurs de U_{\max} et φ avec celles trouvées à partir de la construction de Fresnel.

2°/ Refaire le même travail pour les intensités de courant; déterminer la valeur maximale de i_3 et sa phase initiale φ

Comparer les résultats avec ceux trouvés avec la construction de Fresnel.