

CONCOURS GÉNÉRAL DES MÉTIERS

MAINTENANCE DES VÉHICULES
Toutes options

SESSION 2021

ÉPREUVE ÉCRITE
D'ADMISSIBILITÉ

DOSSIER TRAVAIL

pages 1/48 à 48/48

(À rendre dans son intégralité avec la copie)

*« L'usage de la calculatrice avec mode examen actif est autorisé.
L'usage de la calculatrice sans mémoire, « type collègue » est autorisé. »*

CGM Maintenance des véhicules	Épreuve d'admissibilité	Session 2021	Dossier Travail
Épreuve : Diagnostic - Intervention	Durée : 6 heures	Repère : MV	Page 1/48

Recommandations

- Chaque partie peut être traitée séparément, il n'est donc pas utile de lire au préalable le dossier ressources dans son ensemble.
- Il est conseillé de lire chaque partie du dossier ressources avant de traiter le dossier travail correspondant.
- Il n'y a pas d'ordre pour traiter chaque partie.
- Le temps conseillé à consacrer à chaque partie est de 2 heures.

Toutes les parties du sujet doivent être traitées par tous les candidats, quelle que soit leur option.

Il est demandé au candidat de répondre aux questions directement sur le « Dossier Travail ».

Celui-ci comporte 3 parties :

- **PARTIE A : Diagnostic coffre motorisé**
- **PARTIE B : Étude de fonctionnement - Diagnostic freins de stationnement**
- **PARTIE C : Diagnostic - Suspension pilotée**

Le sujet est accompagné d'un « *Dossier Ressources* » contenant un ensemble de documents sur lesquels le candidat pourra s'appuyer pour répondre au questionnement.

CGM Maintenance des véhicules	Épreuve d'admissibilité	Session 2021	Dossier Travail
Épreuve : Diagnostic - Intervention	Durée : 6 heures	Repère : MV	Page 2/48

PARTIE A

Diagnostic coffre motorisé



Support d'étude

L'étude concerne un véhicule de marque Peugeot, modèle 5008, équipé du système de volet arrière motorisé avec accès « bras chargés ».

Mise en situation professionnelle

Un véhicule Peugeot 5008 arrive dans votre atelier, le client se plaint du non fonctionnement de son hayon motorisé.

Il s'agit d'un véhicule avec système d'ouverture de volet motorisé avec accès « bras chargés ».

CGM Maintenance des véhicules	Épreuve d'admissibilité	Session 2021	Dossier Travail
Épreuve : Diagnostic - Intervention	Durée : 6 heures	Code sujet : MV	Page 3/48

A1 - Analyse fonctionnement du système

A1.1. Quel paramètre l'utilisateur peut-il configurer ? Par quel moyen peut-il y accéder ?

.....

.....

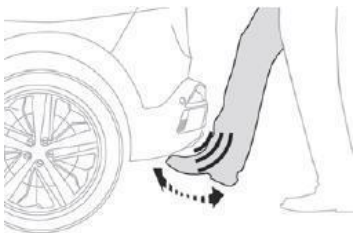
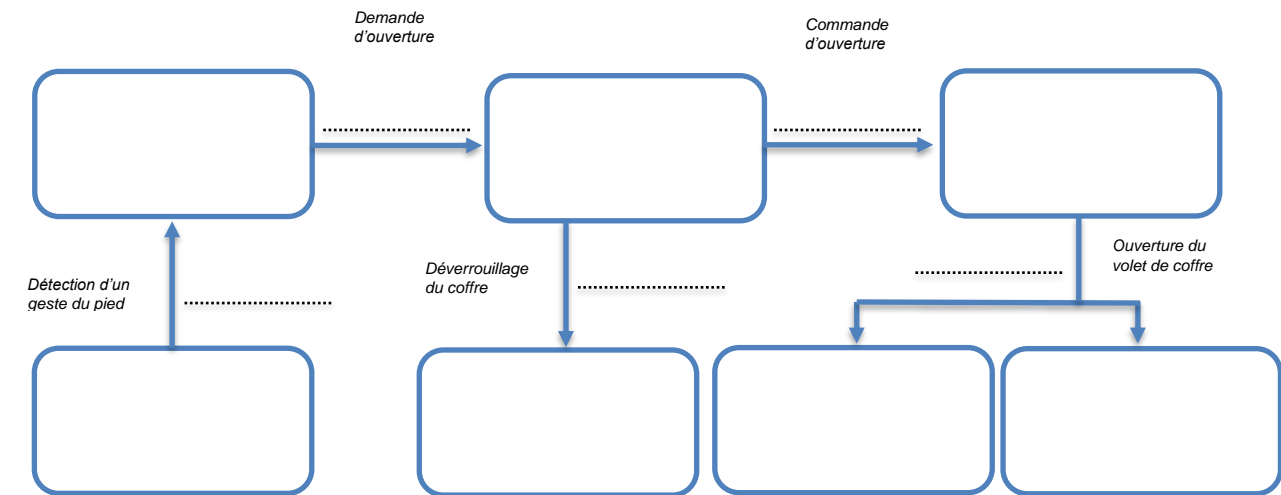
.....

A1.2. Quelles sont les conditions qui peuvent entrainer une désactivation du système de volet arrière motorisé avec accès bras chargés ? Pour chaque condition, indiquer le réseau multiplexé utilisé par le BSi pour recevoir l'information :

Conditions pour que le système soit activé	Réseau multiplexé concerné

A1.3. Compléter le synoptique d'une ouverture du volet motorisé par accès bras chargés :

- **Dans les rectangles** : capteur, calculateur ou actionneur concerné
- **Sur les flèches** : filaire ou réseau multiplexé utilisé



A1.4. Quelles sont les particularités d'un réseau de type LIN par rapports au réseau CAN (ls, CONF, CAR ou INF DIV) ?

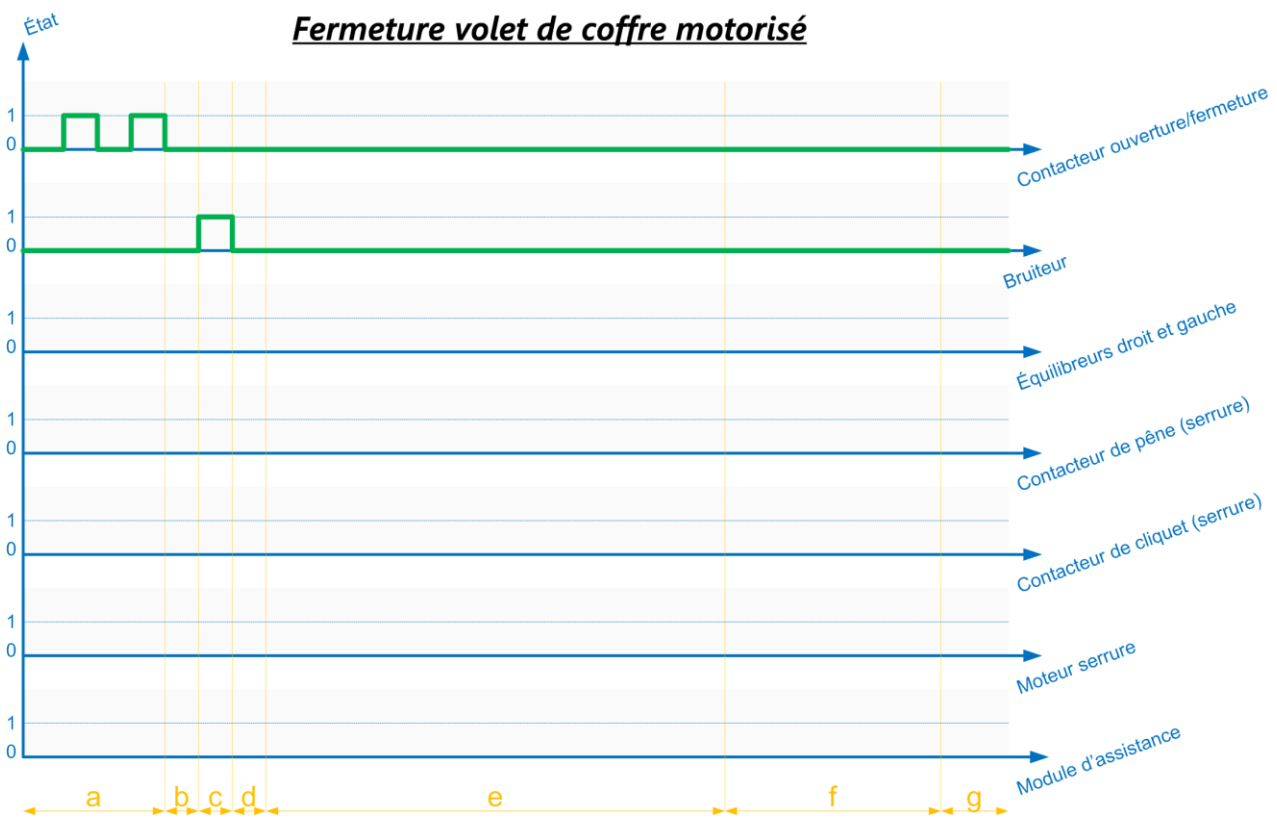
.....

.....

.....

.....

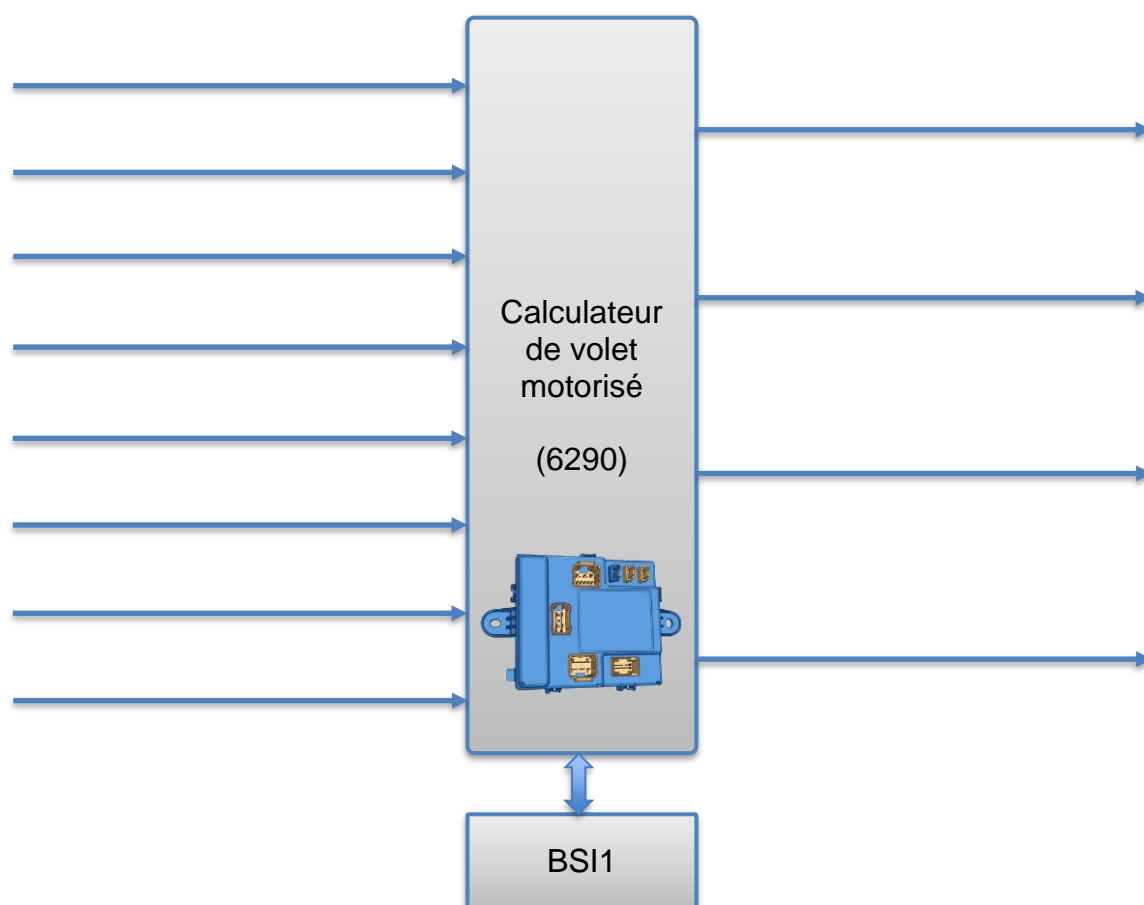
A1.5. Compléter le chronogramme d'une fermeture du volet de coffre motorisé par commande de l'interrupteur au tableau de bord :



Etat :
 0 : fermé ou non commandé
 1 : ouvert ou commandé

a : commande fermeture par l'utilisateur
 b : temporisation
 c : signal sonore d'avertissement
 d : temporisation
 e : fermeture volet de coffre
 f : verrouillage volet de coffre
 g : volet de coffre fermé

A1.6. À partir du schéma électrique du dossier ressources (4- Schéma électrique du volet du coffre motorisé), compléter le diagramme d'entrée/sortie du calculateur de volet de coffre motorisé :



A2 - Diagnostic

Suite au bip annonçant un défaut lors de l'utilisation du volet de coffre motorisé, on décide de réaliser une lecture défaut du calculateur de coffre motorisé.

A2.1. Indiquer les hypothèses de panne pouvant être liées aux codes défauts affichés :

Accueil Expert Documentation Mesures Rapports

! Fields actions automatic in progress for BTA : Effect customer S.O.S light blinking during 9 to 15mn. Not to send DID or CIR. VF3ATTEN TGL011290 v09.55

VERINS_MOTORISES LECTURE DÉFAUTS

- + B1746 78 Défaut de synchronisation des 2 équilibres du volet arrière motorisé (effectuer une initialisation du volet arrière motorisé)
- + B1747 04 Défaut d'initialisation du volet arrière motorisé (perte d'alimentation du boîtier de coffre motorisé ou position incohérente du volet arrière motorisé)
- + U1F00 00 Défaut non enregistré dans le journal des défauts du boîtier de servitude intelligent

.....

.....

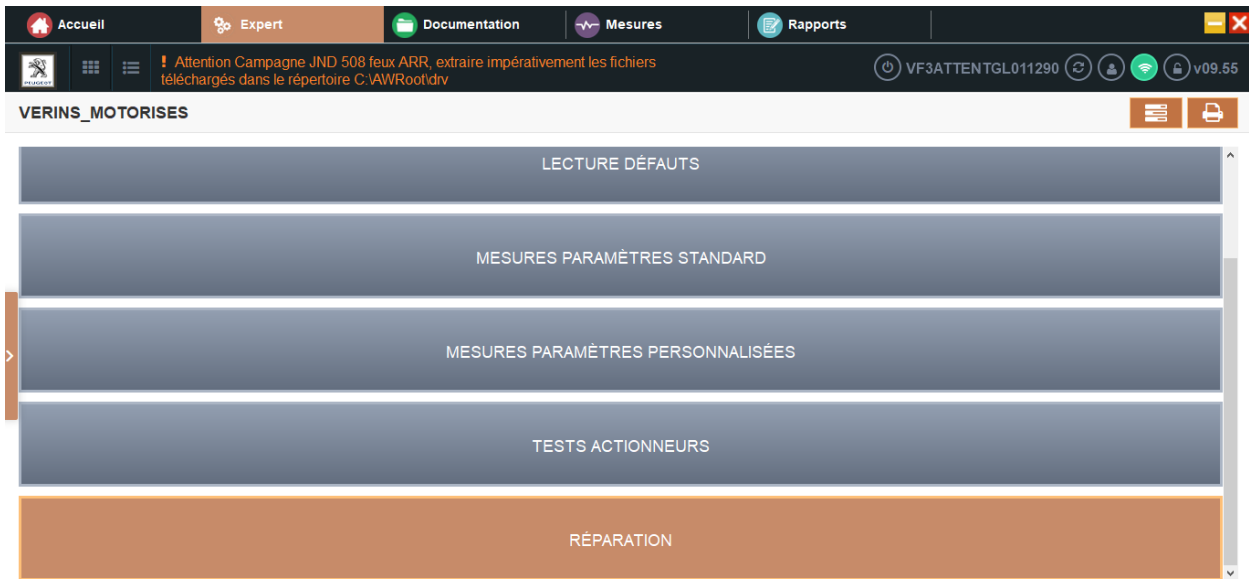
.....

.....

CGM Maintenance des véhicules	Épreuve d'admissibilité	Session 2021	Dossier Travail
Épreuve : Diagnostic - Intervention	Durée : 6 heures	Code sujet : MV	Page 6/48

On décide ensuite d'aller vérifier les informations fournies par les différents capteurs.

A2.2. Entourer sur chaque image ci-dessous, le menu à choisir pour visualiser les informations fournies par les différents capteurs :



A2.3. Entourer sur l'image ci-dessous le (ou les) paramètre(s) présentant une anomalie :

Libellé	Valeur	Unité
Type de mouvement du volet arrière motorisé	Pas de commande	
Détection d'obstacle par la fonction antipincement	Pas de détection	
Position angulaire du volet arrière motorisé	Valeur invalide	°
Angle d'ouverture maximal du volet arrière motorisé	Valeur invalide	°
Personnalisation de l'ouverture maximale du volet arrière motorisé	Hauteur personnalisée	
Etat du capteur antipincement supérieur	Aucune détection	
Etat du capteur antipincement droit	Aucune détection	
Etat du capteur antipincement gauche	Aucune détection	
Contacteur d'état de fermeture au premier cran de la serrure de volet arrière motorisé	Contacteur fermé	
Contacteur d'état de fermeture au deuxième cran de la serrure de volet arrière motorisé	Contacteur fermé	

A2.4. Comment le calculateur de volet de coffre motorisé détermine-t-il la position du volet de coffre ?

.....

.....

.....

A2.5. Compléter le tableau de liaison équilibreurs-calculateur ci-dessous :

		Connecteurs équilibreurs		Type d'information	Affectation voies calculateur	
		Voie	N° fils		Connecteur	Voies
Équilibreur gauche	3V blanc	1				
		2				
		3				
	6V blanc	1				
		2				
		3				
Équilibreur droit	3V vert	1				
		2				
		3				
	6V vert	1				
		2				
		3				

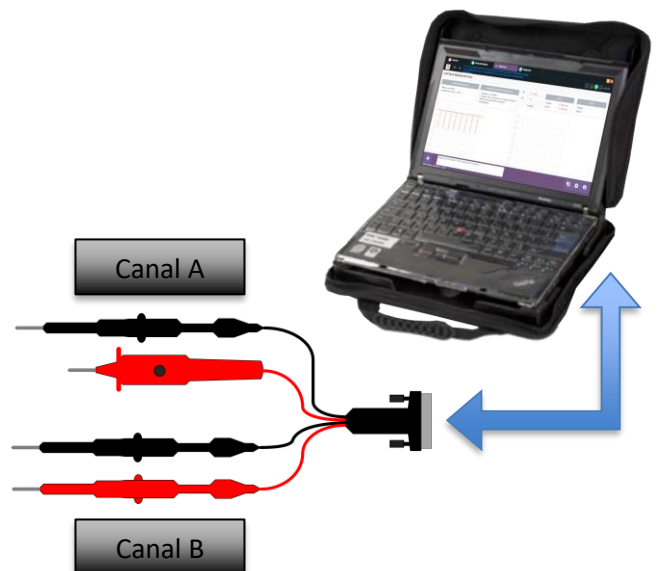
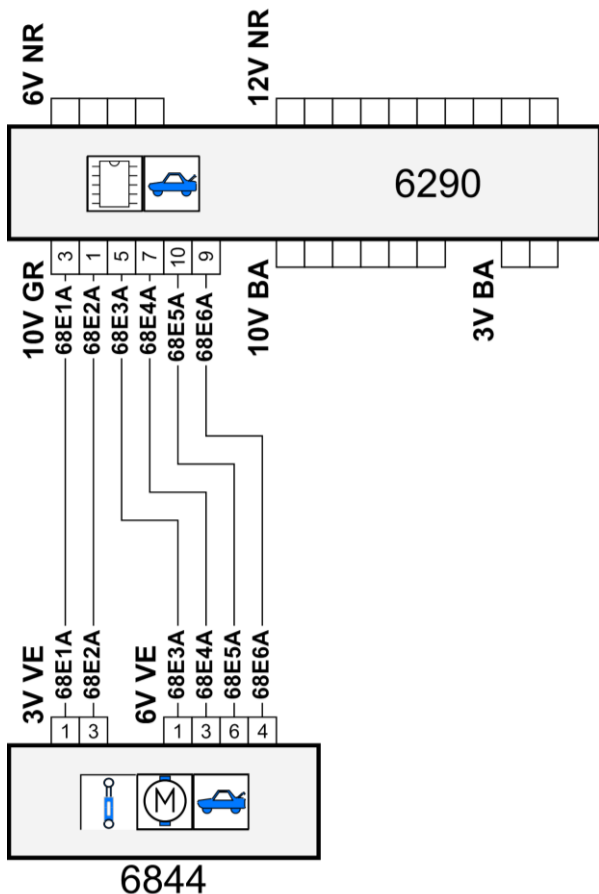
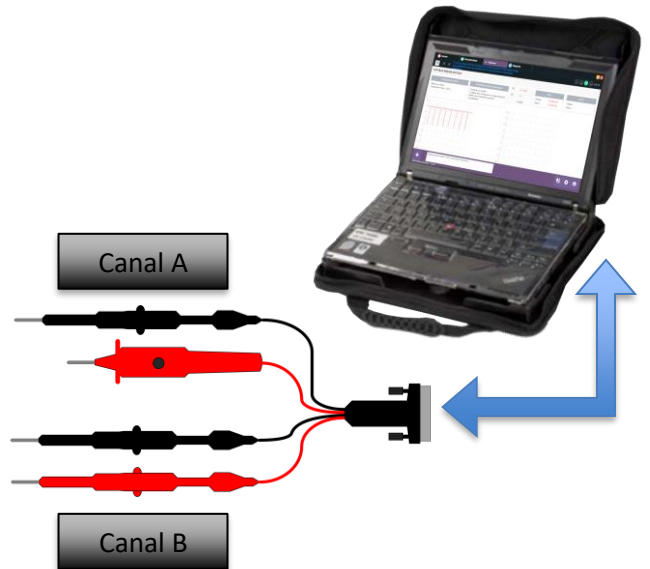
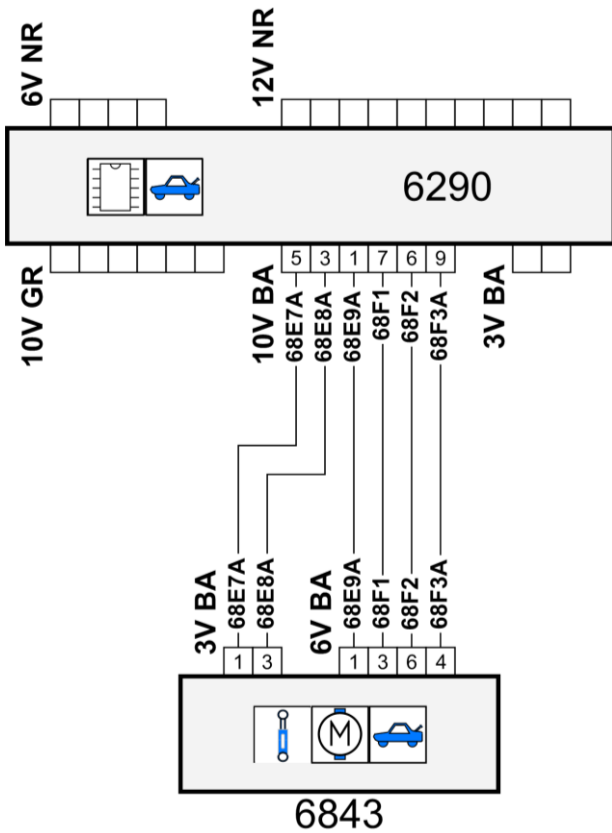
On vous demande de contrôler l'alimentation des capteurs de position.
 On décide de prendre les mesures directement sur le calculateur de coffre motorisé.

A2.6. Compléter les tableaux de mesures ci-dessous :

Contrôle	Appareil de mesure	Points de mesure	Condition de mesure	Valeur attendue	Valeur relevée	Conclusion
Alimentation capteur position équilibreur gauche			Contact mis		12,3 V	
Alimentation capteur position équilibreur droit			Contact mis		12,3 V	

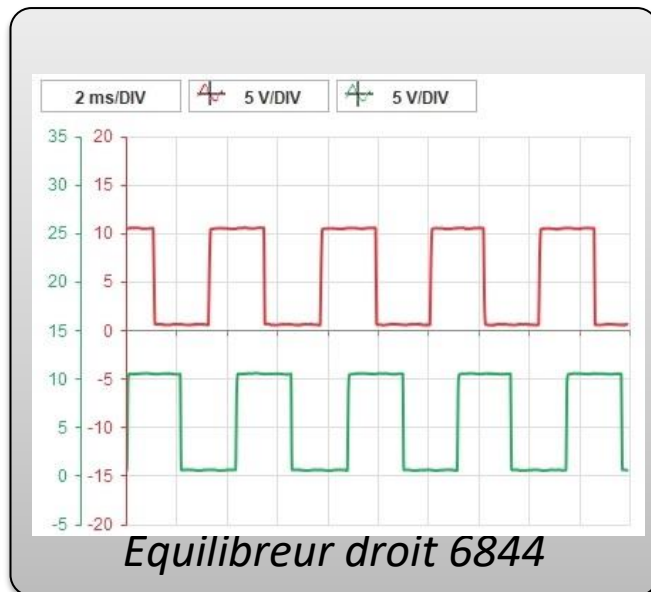
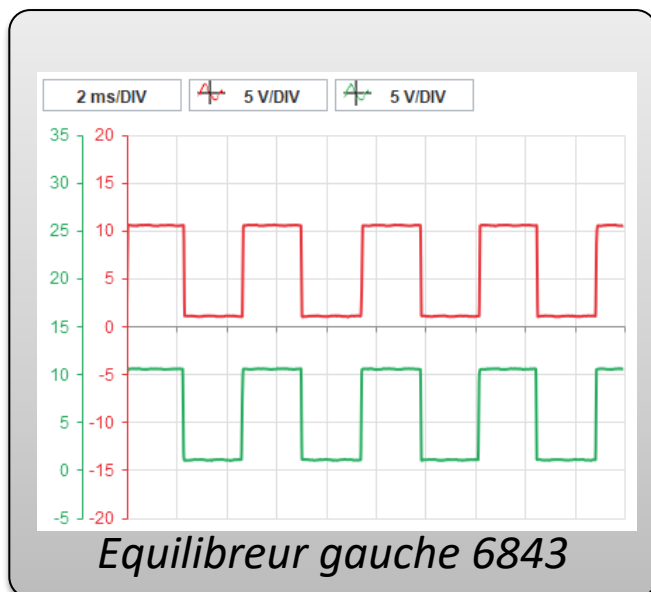
Vous décidez de contrôler les signaux fournis par les capteurs de position.

A2.7. Relier les oscilloscopes au calculateur de coffre motorisé afin de relever les signaux des capteurs de position des équilibreurs :



CGM Maintenance des véhicules	Épreuve d'admissibilité	Session 2021	Dossier Travail
Épreuve : Diagnostic - Intervention	Durée : 6 heures	Code sujet : MV	Page 9/48

A2.8. À partir des relevés ci-dessous, que constatez-vous ?



.....

Afin d'écarter un problème du faisceau, vous décidez de contrôler l'isolement du faisceau équilibreur-calculateur.

A2.9. Compléter le tableau de contrôle ci-dessous :

Contrôle	Appareil de mesure	Points de mesure	Condition de mesure	Valeur attendue	Valeur relevée	Conclusion
Isolement entre le fil et le fil					infini	

A2.10. Que peut-on conclure sur l'élément défailant et la réparation à effectuer ?

.....

A3 - Étude mécanique de l'équilibreur

L'objectif de l'étude est de vérifier certaines contraintes du cahier des charges relatives au maintien en position du hayon. La construction de ce modèle s'appuie sur le comportement du vérin électrique monté en option sur les Peugeot 5008.

Déterminer l'effort nécessaire en bout de tige de vérin afin de répondre aux exigences du cahier des charges.

Données et paramétrages :

On modélise le système par un système plan. Le système étant symétrique, les deux vérins sont ramenés dans le plan d'évolution du hayon et leur action mécanique s'exerçant sur le hayon est supposée identique.

- Le repère $\overrightarrow{Rh}(B, \vec{x}_t, \vec{y}_t, \vec{z}_0)$ est lié à la terre, le hayon 1 est articulé en B sur le coffre 0.
- Le repère $\overrightarrow{Rv}(A, \vec{x}_v, \vec{y}_v, \vec{z}_0)$ est lié au corps du vérin 2.
La sortie tige du vérin par rapport au corps du vérin se fait dans la direction \vec{x}_v .
- Le corps vérin est articulé en A sur le coffre et la tige du vérin est articulée en C sur le hayon.
- Pour l'étude, le vérin électrique sera représenté comme un vérin simple.
- L'effort disponible en bout de tige d'un vérin est de 1050 N.

A3.1. Déterminer la liaison entre le coffre 0 et le hayon 1 (Voir schéma 1) :

	R _{x_t}	R _{y_t}	R _{z₀}	T _{x_t}	T _{y_t}	T _{z₀}	Nom de la liaison
Liaison 0/1							

A3.2. Déterminer la liaison entre le coffre 0 et le vérin 2 :

	R _{x_v}	R _{y_v}	R _{z₀}	T _{x_v}	T _{y_v}	T _{z₀}	Nom de la liaison
Liaison 0/2							

Déterminer l'effort sur la tige des vérins.

Données : Le poids P du hayon est appliqué en G, intensité 270N.

Toutes les constructions graphiques se feront sur le Document DR1 - page 13/48.

Pour un coffre ouvert dans la position du DOCUMENT DR1 : Étudier l'équilibre du vérin 2 (tige + corps). Schémas 1 et 2.

CGM Maintenance des véhicules	Épreuve d'admissibilité	Session 2021	Dossier Travail
Épreuve : Diagnostic - Intervention	Durée : 6 heures	Code sujet : MV	Page 11/48

A3.3. Compléter le tableau d'isolement du vérin :

Nom	Point d'application	Direction	Sens	Intensité

A3.4. D'après le PFS, que peut-on dire de la direction des actions mécaniques agissant sur le vérin ?

.....

Étudier l'équilibre du hayon 1 (schémas 1 et 3).

A3.5. Compléter le tableau d'isolement du hayon 1.

Nom	Point d'application	Direction	Sens	Intensité

A3.6. D'après le PFS, que peut-on dire des directions des actions mécaniques appliquées sur le hayon ?

.....

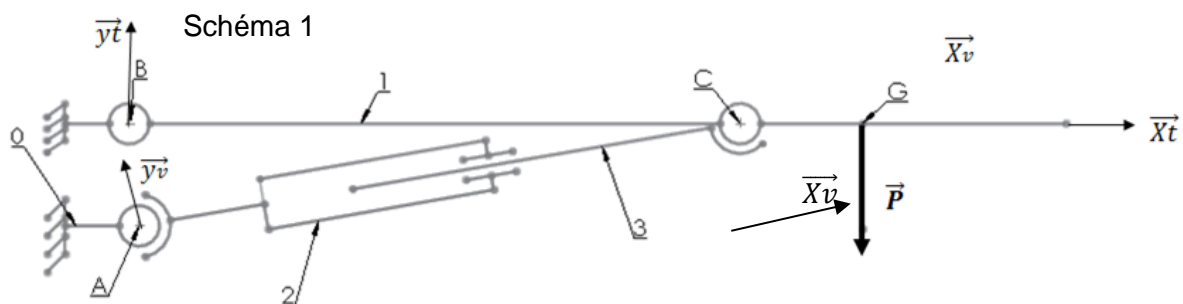
A3.7. Déterminer graphiquement la direction de l'action en B (faire les tracés sur le DOCUMENT DR1 - page suivante).

A3.8. Tracer le dynamique des forces (DOCUMENT DR1) appliquées sur 1 et en déduire les actions en B et C.

$$\|\vec{B}\| = 970 \text{ N} \quad \|\vec{C}\| = 990 \text{ N}$$

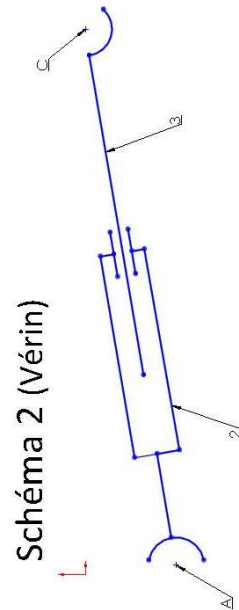
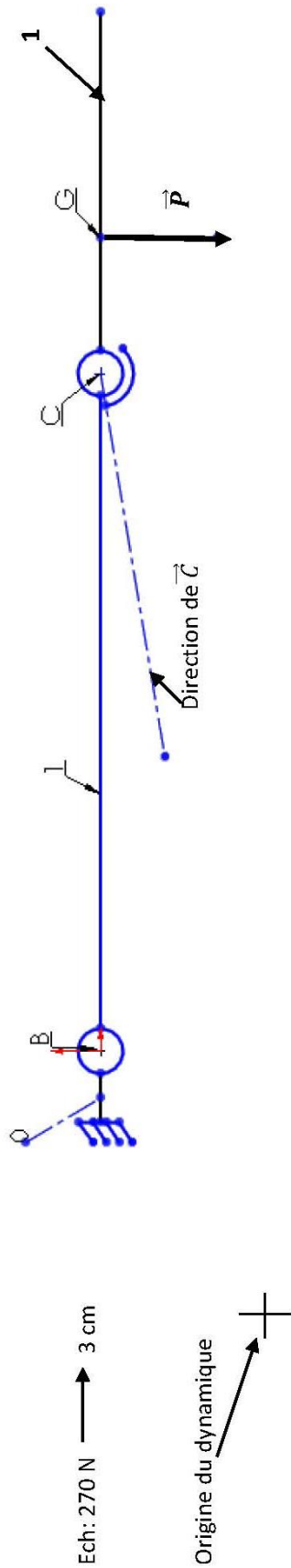
A3.9. La condition de maintien en équilibre dans la position du DOCUMENT DR1 est-elle vérifiée ?

.....



DOCUMENT DR1

Schéma 3



PARTIE B

Étude de fonctionnement et diagnostic



Support d'étude

L'étude concerne un véhicule de transport routier de marque **RENAULT**, modèle **T 520 T4X2 OPTIFUEL E6T** équipé d'un frein de stationnement électrique.

Mise en situation professionnelle

Vous êtes technicien dans une concession Renault Trucks. Vous n'avez jamais réalisé de diagnostic sur ce système. Cependant, vous disposez à l'atelier de la documentation technique de ce système.

Un client vous appelle, son véhicule reste immobilisé en position frein de stationnement avec un message d'alerte au tableau de bord « arrêt atelier ».

Toutes les conditions sont réunies mais, ni le mode automatique, ni le mode manuel ne déverrouillent le frein de stationnement. Vous allez partir en dépannage et vous décidez de le ramener par la route à l'atelier afin de procéder au diagnostic.

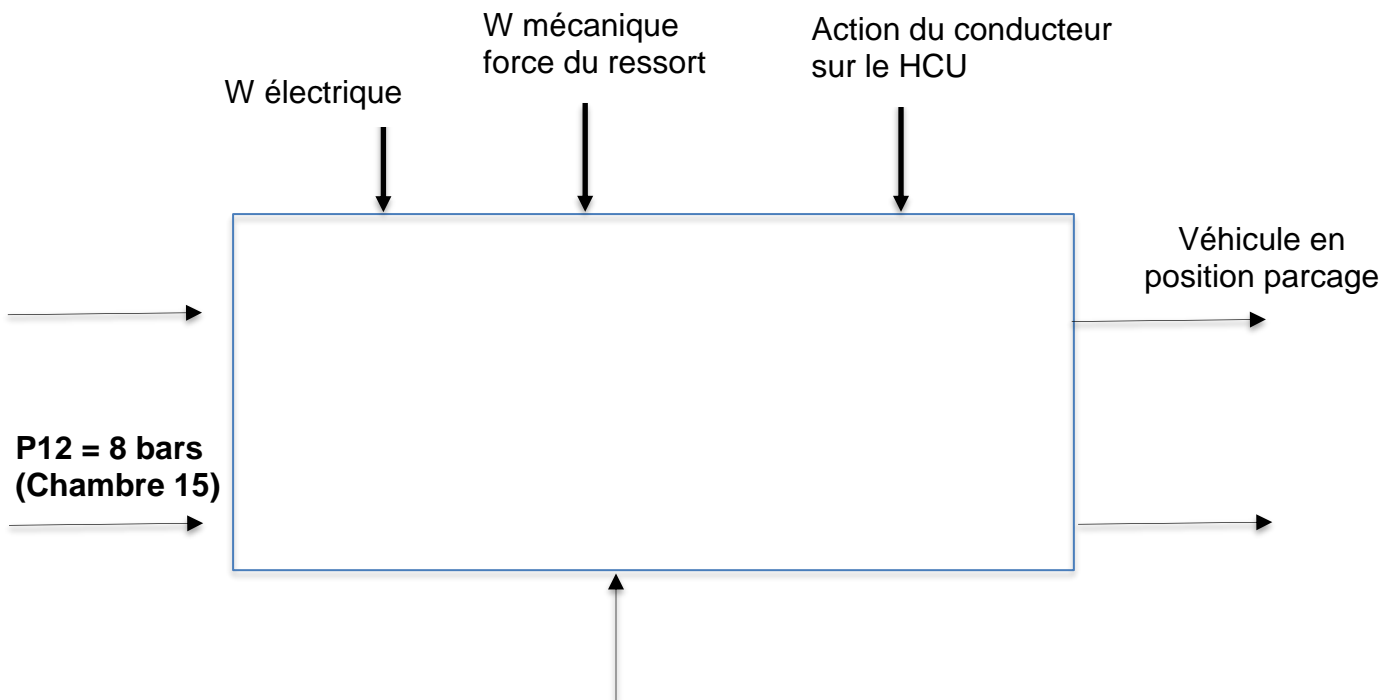
Afin de remettre en conformité le véhicule, vous devez entreprendre l'analyse du système à l'aide de la documentation ressources dont vous disposez. Vous allez mettre en œuvre une procédure de diagnostic.

CGM Maintenance des véhicules	Épreuve d'admissibilité	Session 2021	Dossier Travail
Épreuve : Diagnostic - Intervention	Durée : 6 heures	Code sujet : MV	Page 14/48

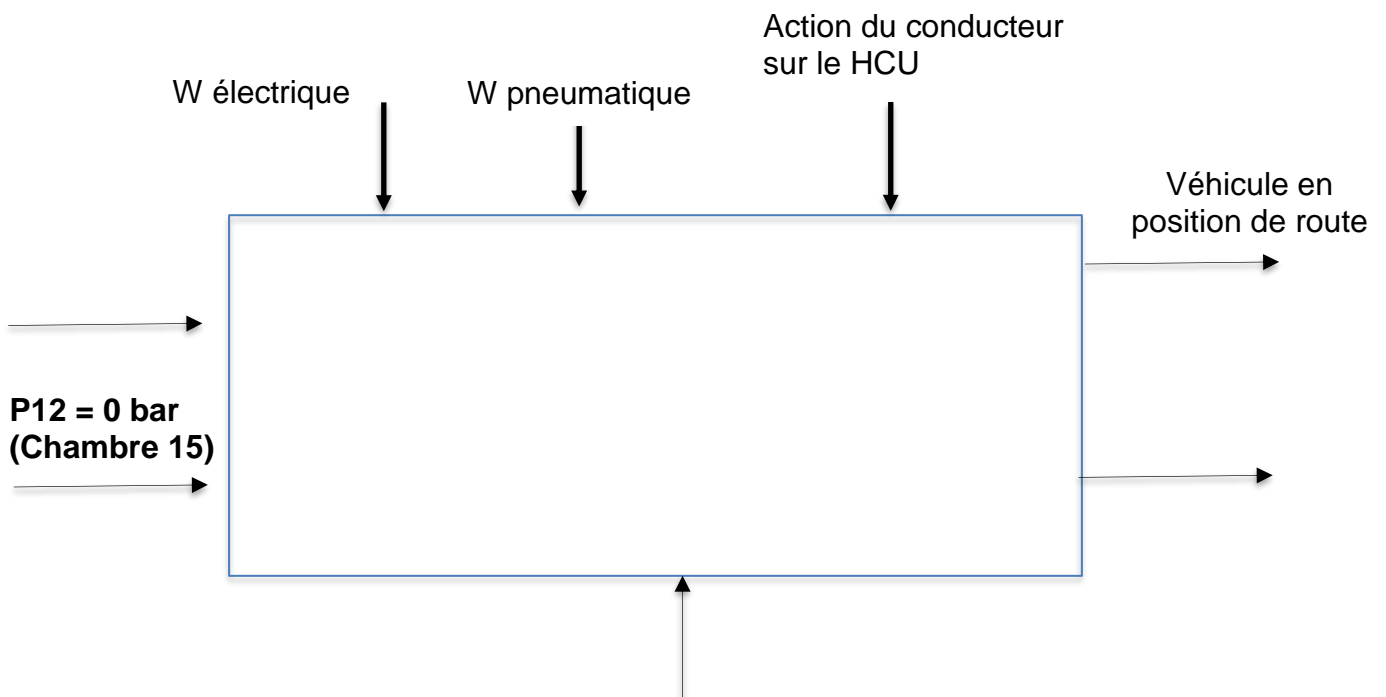
B1 - Analyse fonctionnelle du système

B1.1. En vous aidant du dossier ressources, compléter les actigrammes du frein de stationnement électrique suivants :

B 1.1.1 Position parcage

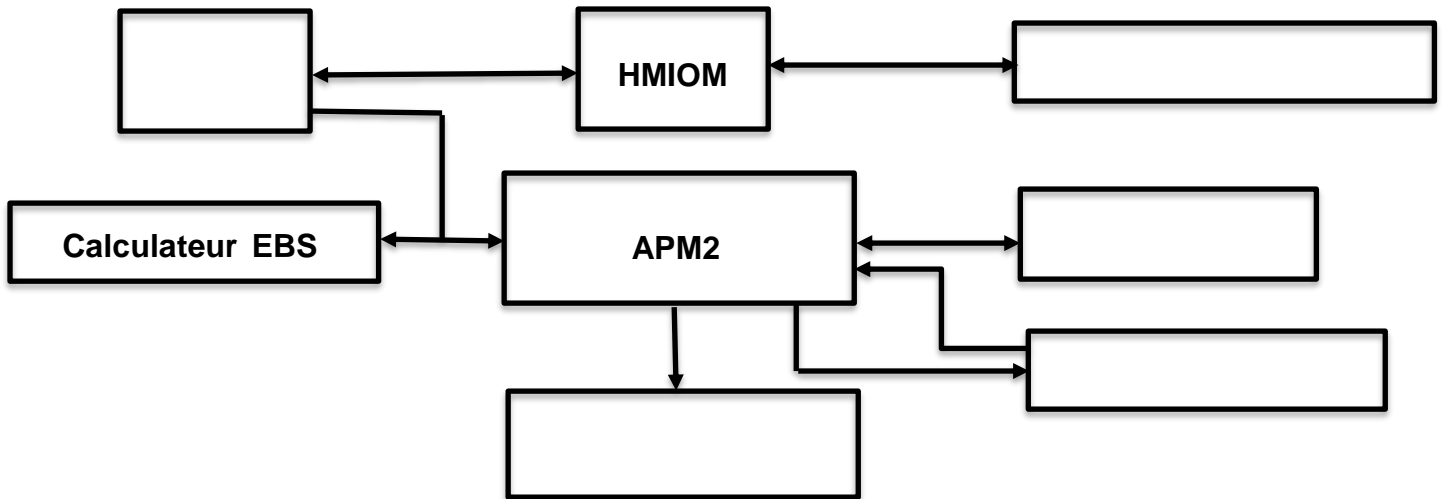


B1.1.2. Position roulage



CGM Maintenance des véhicules	Épreuve d'admissibilité	Session 2021	Dossier Travail
Épreuve : Diagnostic - Intervention	Durée : 6 heures	Code sujet : MV	Page 15/48

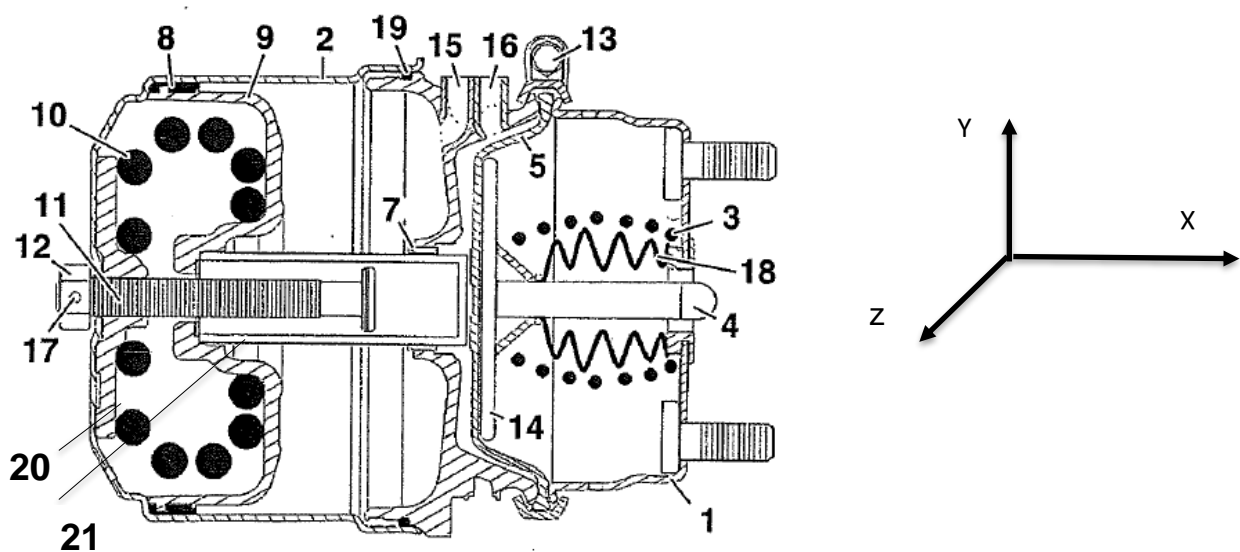
B1.2. À l'aide du dossier ressources, compléter le schéma bloc lié au frein de parcage.



B1.3. Identifier les différents éléments de la partie arrière du véhicule dans le tableau ci-dessous.

repère	désignation	repère	désignation
1		12	
2		13	Vis
3	Ressort de rappel	14	Plateau pression
4	Tige poussoir	15	Branchement d'air comprimé, frein de stationnement (port 12)
5		16	Branchement d'air comprimé, frein de service (port 11)
7	Joint d'étanchéité et bague	17	Goupille de verrouillage
8	Joint d'étanchéité	18	
9		19	
10		20	Pièce renfort associé à 2
11		21	Poussoir

Cylindre de frein arrière



B1.4. Afin d'étudier les mouvements de l'ensemble du cylindre de frein arrière, compléter le tableau des liaisons mécaniques.

	Tr x	Tr y	Tr z	Rot X	Rot Y	Rot Z	Nom de la liaison
Entre 8 et 9							
Entre 12 et 17 monté							
Entre 14 et 4							
Entre 4 et 1							Liaison pivot / glissante
Entre 11 et 21							Liaison pivot / glissante
Entre 9 et 2							Liaison pivot / glissante

B1.5. Proposer un schéma cinématique 2D.

B2 - Statique

B2.1. Déterminer les actions du sol sur les essieux à partir du poids P du véhicule.

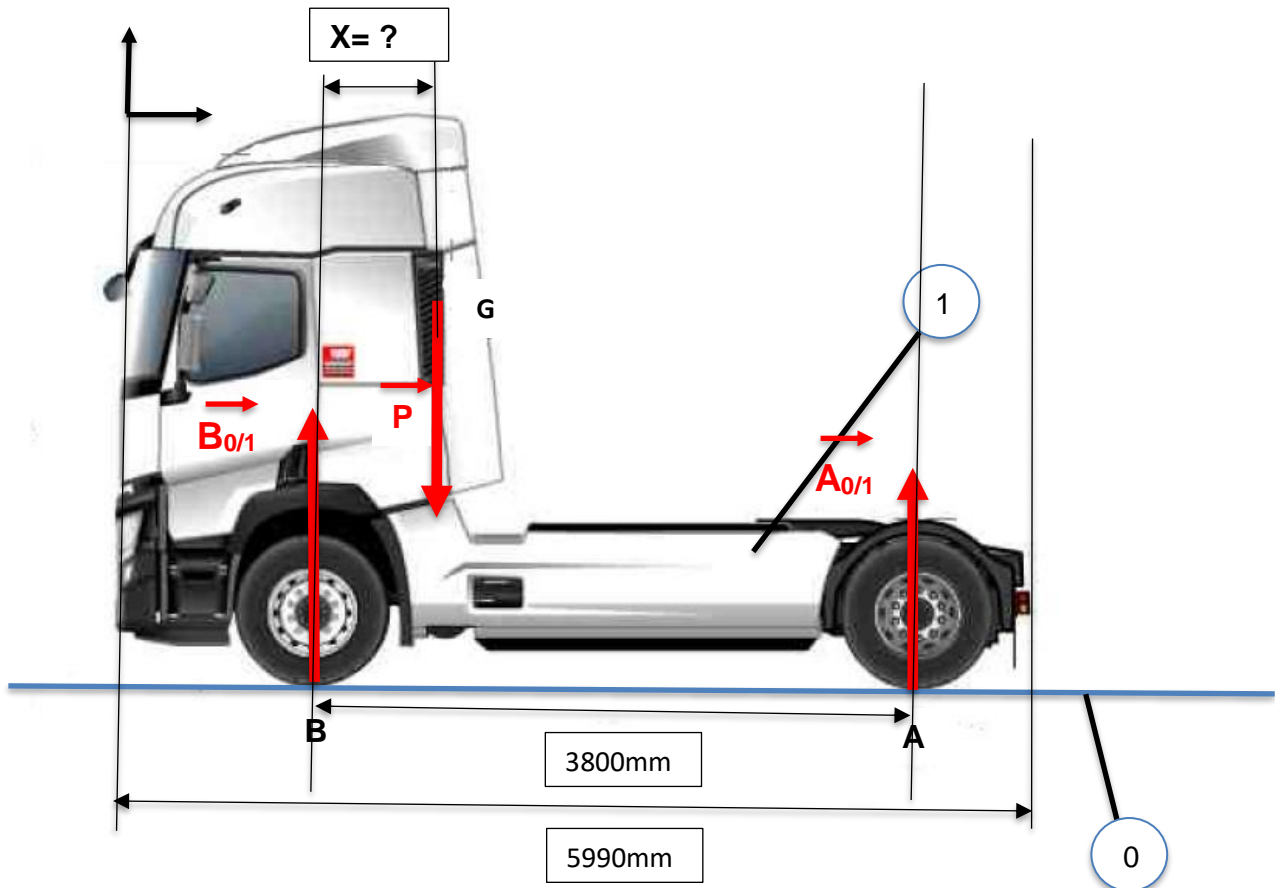
Hypothèses :

Le frottement est dans un premier temps négligé.

Le problème est considéré plan (toutes les actions sont dans un plan symétrique).

La masse du véhicule est de 7381 kg et les charges sont réparties au 2/3 à l'avant et 1/3 à l'arrière.

On prendra $g = 10 \text{ N/kg}$



B2.1.1 Calculer le poids P du véhicule.

$$P = m \cdot g$$

.....

B2.1.2. Calculer l'effort exercé en A.

$$A_{0/1} =$$

.....

B2.1.3 Calculer l'effort exercé en B.

$$B_{0/1} =$$

.....

CGM Maintenance des véhicules	Épreuve d'admissibilité	Session 2021	Dossier Travail
Épreuve : Diagnostic - Intervention	Durée : 6 heures	Code sujet : MV	Page 18/48

B2.1.4.1. Isolons le véhicule. Bilan des actions mécaniques extérieures.

Compléter le tableau suivant :

Actions extérieures	Point d'application	Droite d'action	Sens	Intensité (daN)

B2.1.4.2. Citer le principe fondamental de la statique ainsi que les équations d'équilibre.

.....
.....
.....

B2.1.4.3. Quelles sont les conditions caractérisant le polygone des forces fermé ?

.....
.....
.....

B2.1.4.4. Quelles sont les conditions caractérisant le funiculaire fermé ?

.....
.....
.....

B2.1.4.5. Écrire le théorème associé.

.....
.....
.....

B2.1.4.6. Déterminer le centre de gravité du véhicule par la méthode graphique du funiculaire.

.....
.....
.....

B2.1.4.7. Indiquer et calculer les différentes échelles utilisées.

Echelle des forces : 10 mm =
Echelles des distances : 10 mm =

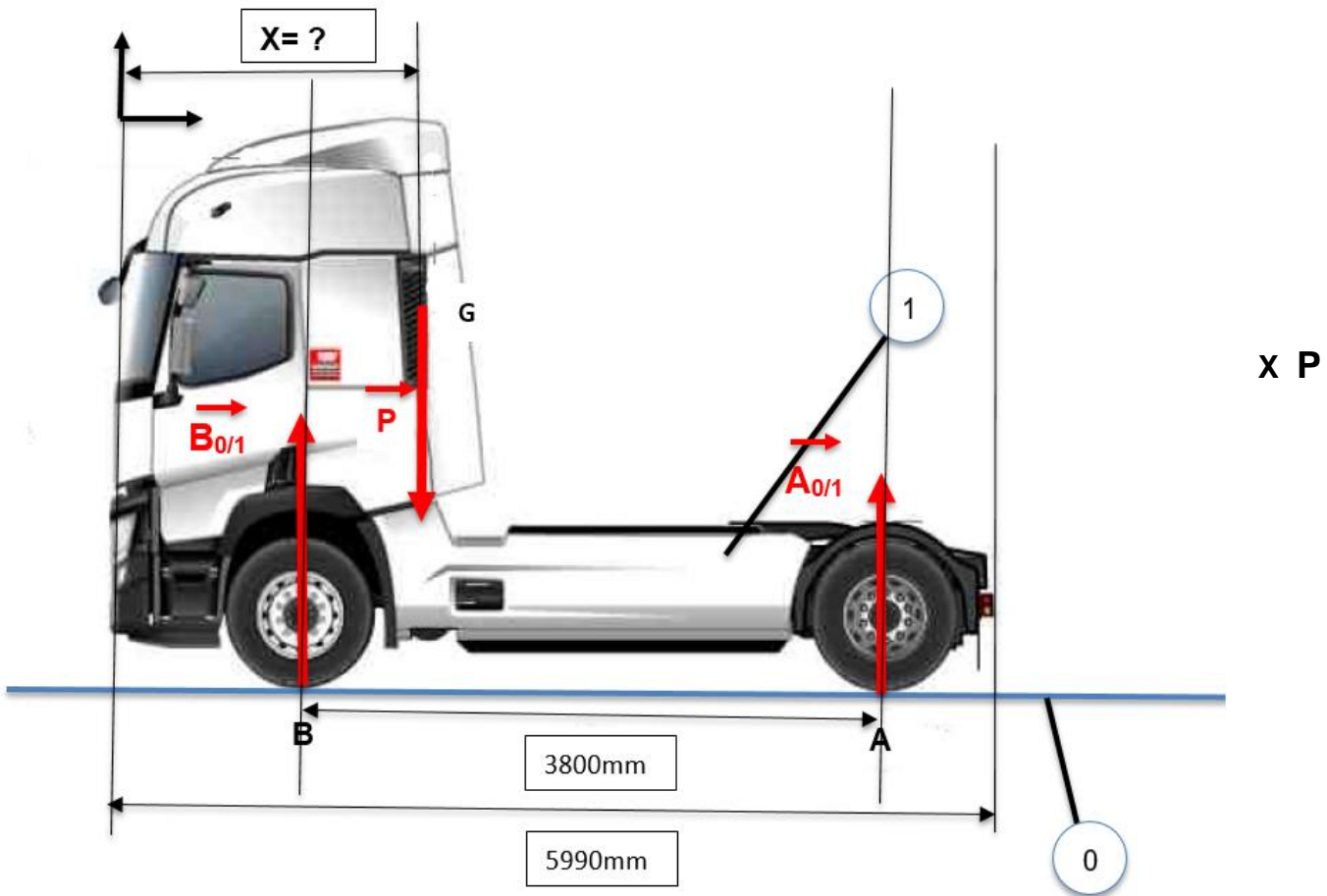
.....

.....

.....

.....

Résoudre graphiquement par la méthode graphique du funiculaire



B2.2 Cinématique du point

Analyse du comportement routier.

Le véhicule démarre et atteint une vitesse de 80 km/h en 10 secondes, puis maintient sa vitesse pendant 10 kilomètres. Soudain, il doit freiner brusquement sur 100 m, temps de réaction inclus. Les limites de l'adhérence étant respectées.

B2.2. Déterminer les trois phases de déplacement du véhicule ainsi que les équations des mouvements associés (*voir dossier ressources page 49*).

B2.2.1. Phase 1 :

.....

.....

CGM Maintenance des véhicules	Épreuve d'admissibilité	Session 2021	Dossier Travail
Épreuve : Diagnostic - Intervention	Durée : 6 heures	Code sujet : MV	Page 21/48

B2.2.2. Phase 2 :

.....
.....

B2.2.3. Phase 3 :

.....
.....

B2.2.4. Phase 1 : calculer l'accélération ainsi que l'espace parcouru.

L'accélération γ en m/s^2 =

.....
.....

Espace en m =

.....
.....

B2.2.5. Phase 2 : calculer le temps du trajet.

Temps en s =

.....
.....

B2.2.6 Phase 3 : calculer la décélération du véhicule ainsi que le temps du freinage.

La décélération γ en m/s^2 =

.....
.....

Le temps en s =

.....
.....

CGM Maintenance des véhicules	Épreuve d'admissibilité	Session 2021	Dossier Travail
Épreuve : Diagnostic - Intervention	Durée : 6 heures	Code sujet : MV	Page 22/48

B2.3 Courbe de vitesse

B2.3.1. Proposer une représentation des courbes de vitesse.



B2.4 Frottement et adhérence

On souhaite vérifier si le véhicule de transport routier de marque RENAULT, modèle T 520 T4X2 OPTIFUEL E6T peut se garer sur une pente à 20%. Le coefficient de frottement pneumatique/sol est de 0.6.

B2.4.1. Réaliser un bilan des actions mécaniques s'exerçant sur le véhicule en reprenant les paramètres utiles de la partie statique.

Actions extérieures	Point d'application	Droite d'action	Sens	Intensité daN

B2.4.2. Énoncer le principe fondamental de la statique ainsi que le théorème.

.....

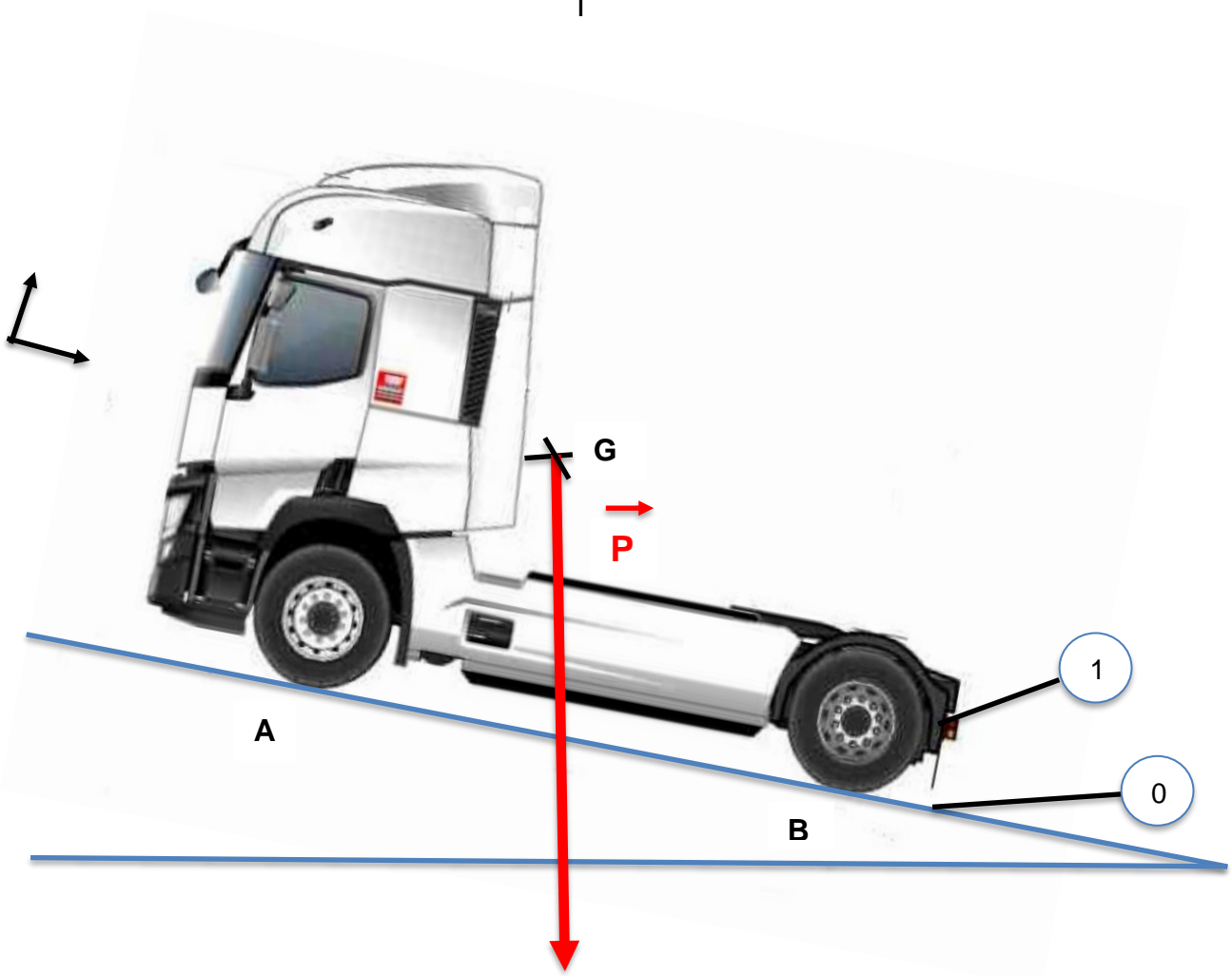
.....

.....

.....

B2.4.3. Le coefficient de frottement pneumatique/sol étant de 0.6. Représenter les actions et résoudre graphiquement.

I



B2.4.4 Le coefficient de frottement pneumatique/sol étant de 0.6. Tracer le cône de frottement. (Prendre un angle de 31°).

.....

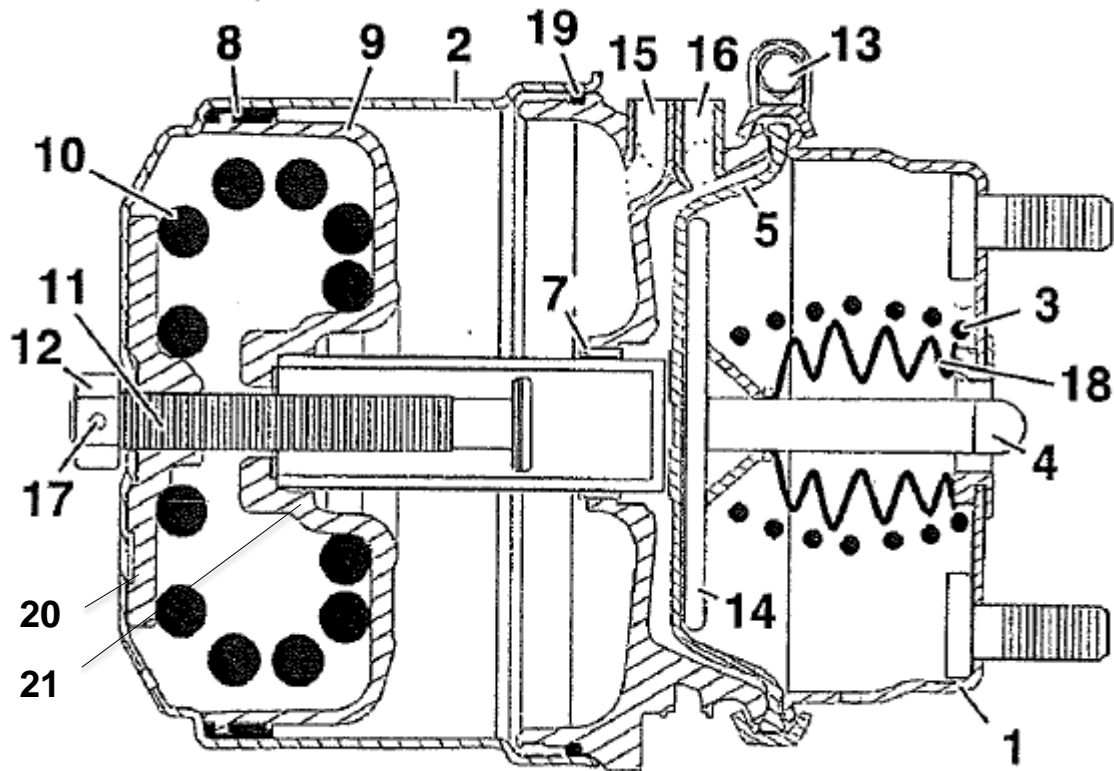
.....

B2.4.5. Le véhicule est-il en équilibre ?

.....

CGM Maintenance des véhicules	Épreuve d'admissibilité	Session 2021	Dossier Travail
Épreuve : Diagnostic - Intervention	Durée : 6 heures	Code sujet : MV	Page 24/48

B2.5. Déterminer la pression sur le ressort de la chambre 15.



B2.5.1. Quelle doit-être la pression à l'entrée de la chambre 15 pour la position de parcage ?
 (à rechercher dans le dossier travail repère B1.1.1).

.....

Le diamètre extérieur est de 173.5 mm et l'épaisseur de la pièce 2 est de 5 mm.
 Le diamètre de la pièce 21 est de 48 mm.

Utiliser les formules $P = F/S$ $S = \pi(D^2-d^2)/4$

Calculer l'effort sur le ressort 10 ?

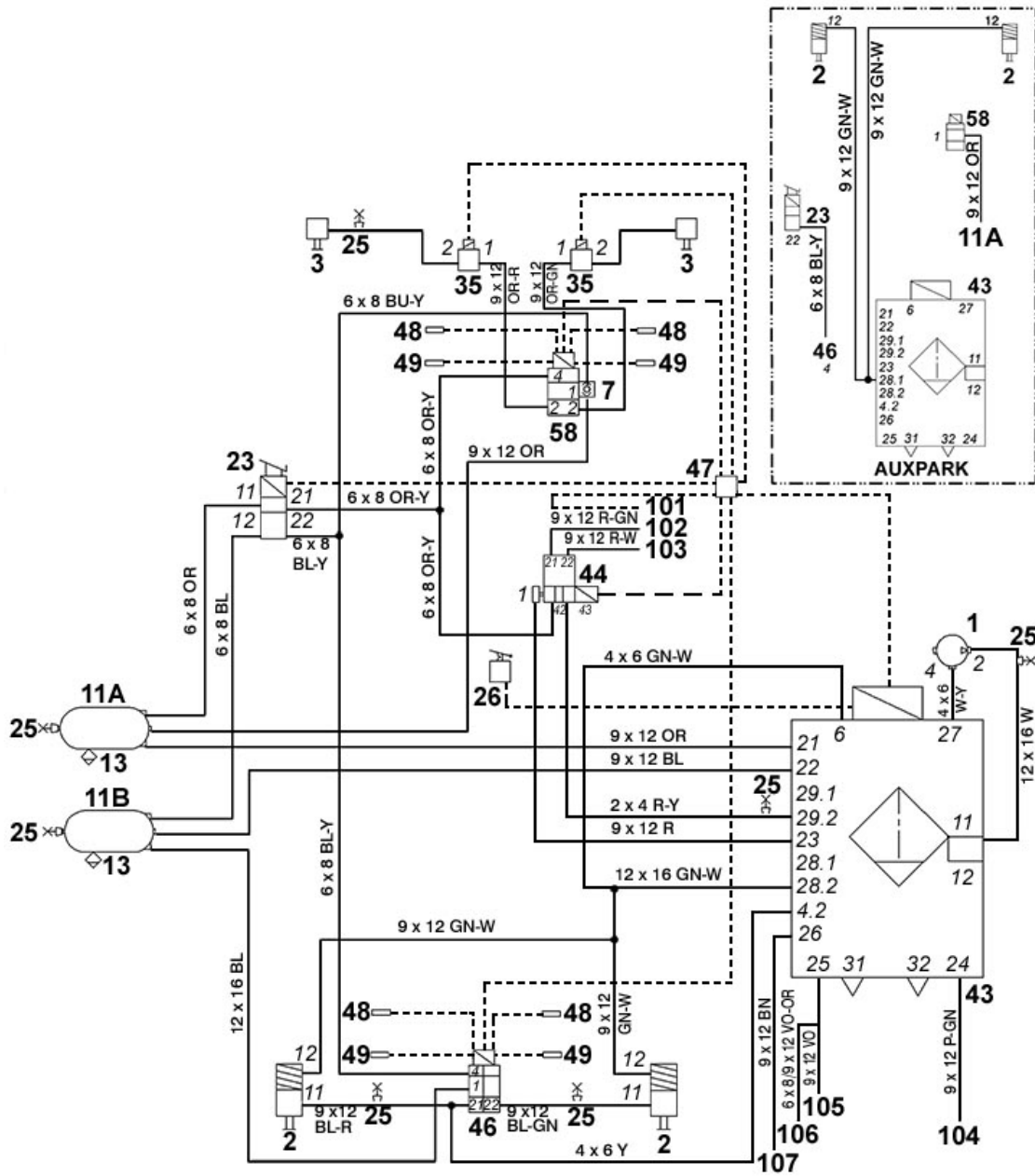
.....

F ressort 10 = ?

CGM Maintenance des véhicules	Épreuve d'admissibilité	Session 2021	Dossier Travail
Épreuve : Diagnostic - Intervention	Durée : 6 heures	Code sujet : MV	Page 25/48

B3 - Étude du système

B3.1. En vous aidant du *Dossier Ressources*, identifier en rouge le circuit électrique et en vert le circuit pneumatique sur le schéma d'ensemble du circuit de freinage ci-dessous :



UTRBRHC / UAUXPARK / TRBRAKE
BSYS - EBS / ESP - BAS1
PBRAKE - E

B3.2. Qu'est-ce que l'EPB ?

.....

.....

CGM Maintenance des véhicules	Épreuve d'admissibilité	Session 2021	Dossier Travail
Épreuve : Diagnostic - Intervention	Durée : 6 heures	Code sujet : MV	Page 26/48

B4 - Partie pneumatique

B4.1. Dans la schématisation pneumatique, à quoi correspondent les orifices numérotés ?

- 0 :
- 1 :
- 2 :
- 3 :
- 4 :

B4.2. Sur le circuit pneumatique de freinage, quel est le nom de l'élément 13, et à quoi sert-il ?

.....
.....
.....

B4.3. Quels sont les rôles de l'APM2 ?

-
-
-
-
-
-

B4.4. Quelle est la maintenance à effectuer sur l'APM2 et à quelle fréquence ?

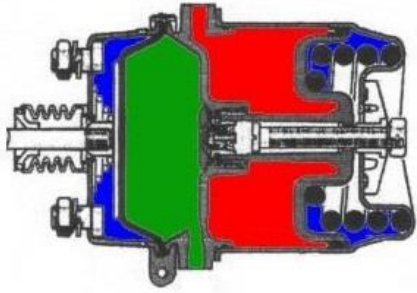
.....
.....
.....

B4.5. En vous aidant du *Dossier Ressources*, identifier les repères suivants :

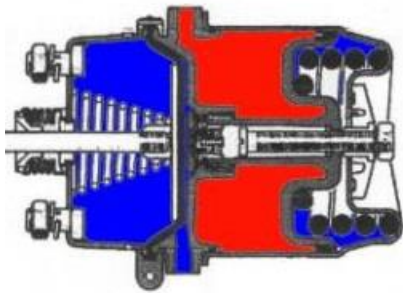
- 11 :
- 12 :
- PBRV :
- 28.1 :
- 28.2 :
- 29.2 :

CGM Maintenance des véhicules	Épreuve d'admissibilité	Session 2021	Dossier Travail
Épreuve : Diagnostic - Intervention	Durée : 6 heures	Code sujet : MV	Page 27/48

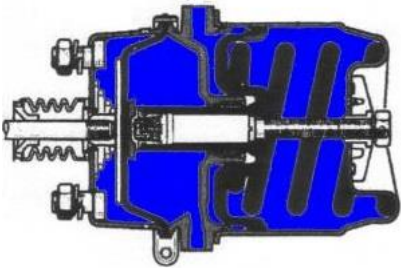
B4.6. Donner les quatre positions des cylindres de freins suivants :



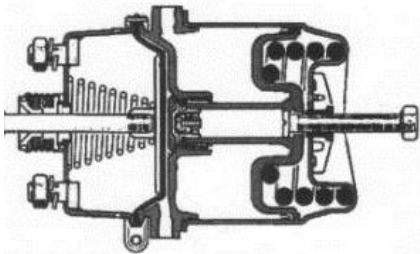
.....



.....Position route.....



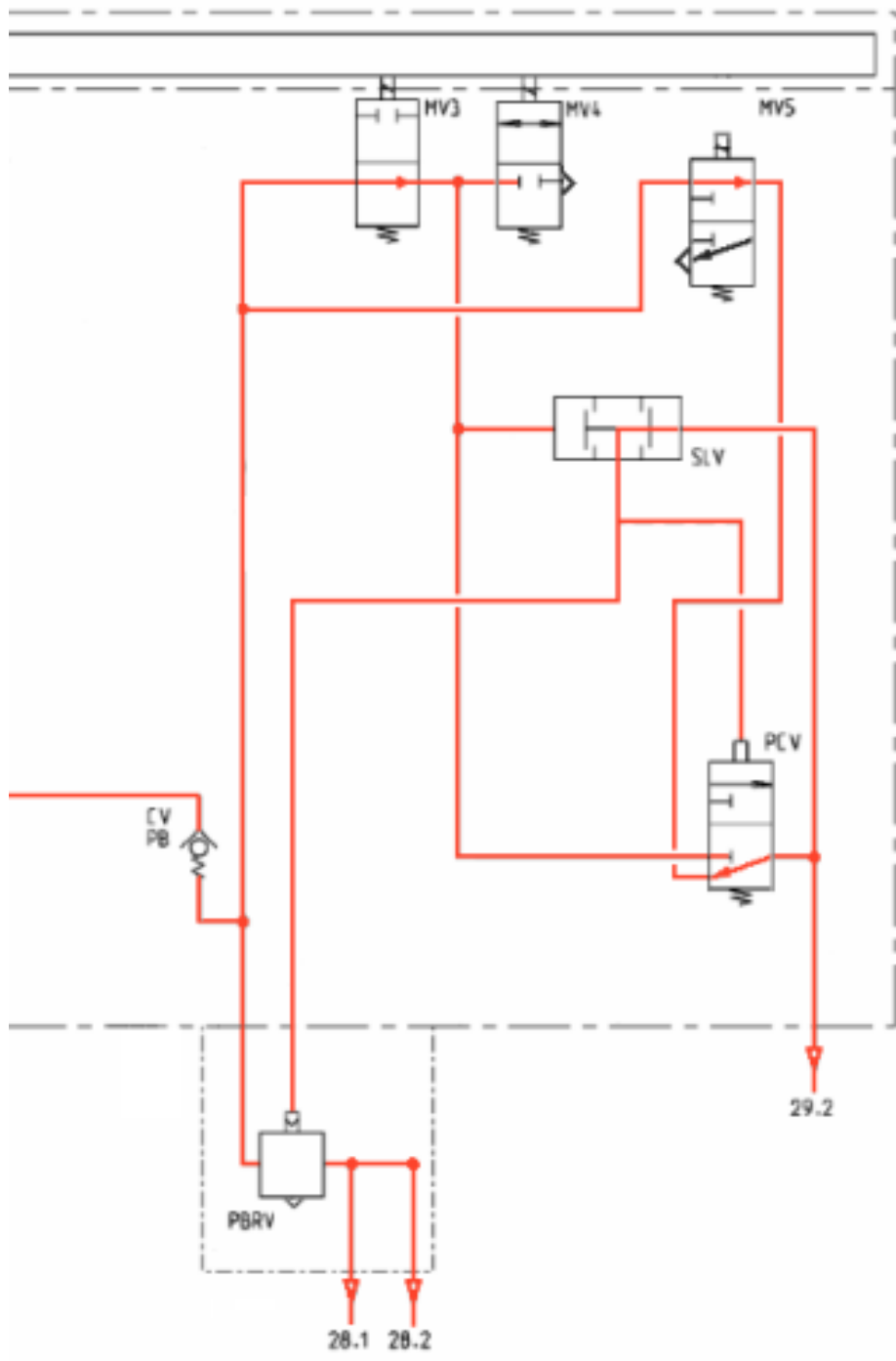
.....



.....

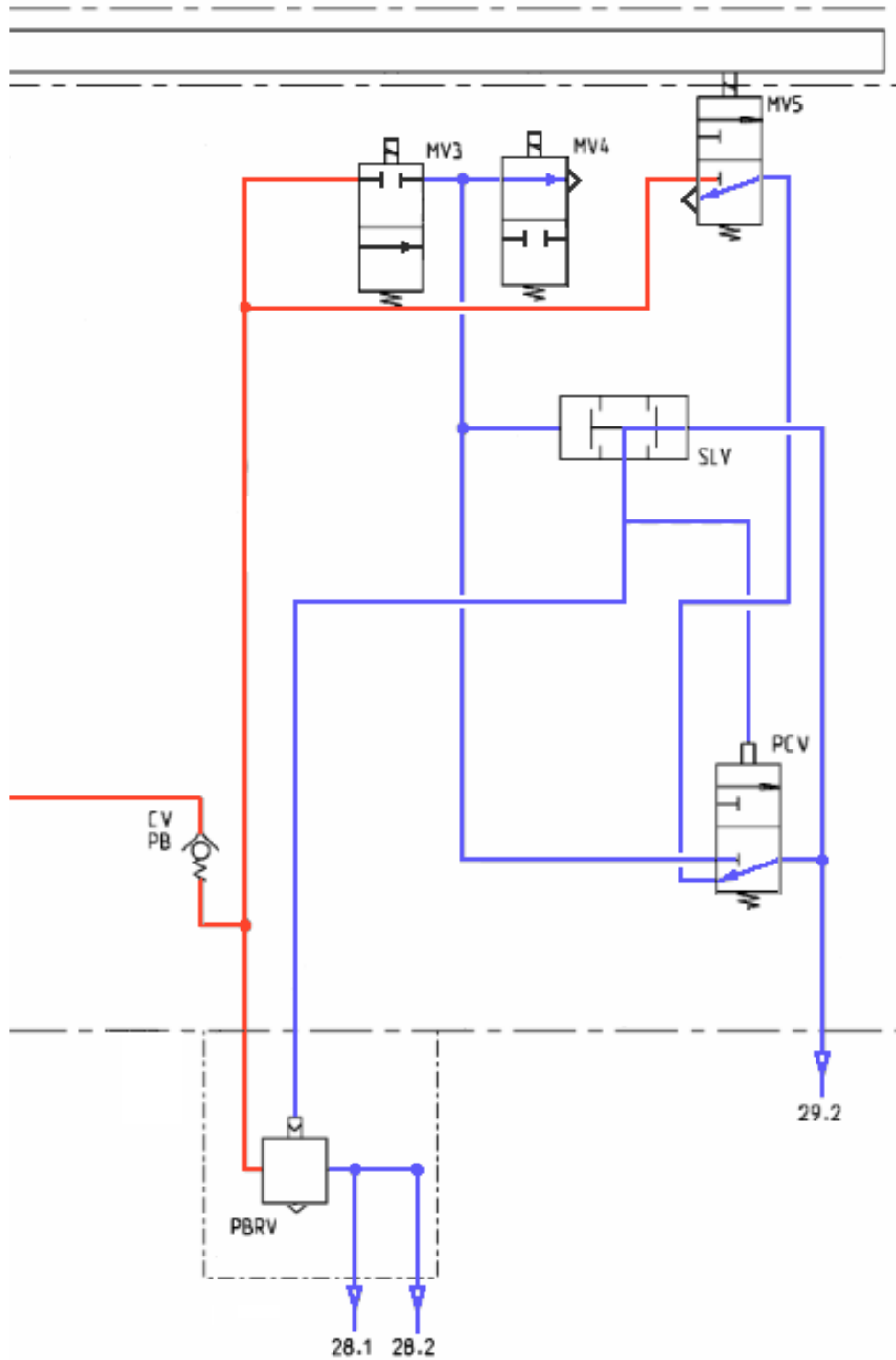
B4.7. Sur le circuit pneumatique interne de l'APM 2, identifier en rouge le circuit sous pression et en bleu les circuits hors pression sur les positions suivantes :

Déparcage :



CGM Maintenance des véhicules	Épreuve d'admissibilité	Session 2021	Dossier Travail
Épreuve : Diagnostic - Intervention	Durée : 6 heures	Code sujet : MV	Page 29/48

Parcage :



B4.8. Compléter le tableau suivant :

Positions / Pressions (bar)	28.1	28.2	29.2
Route			
Stationnement			

B4.9. Comment obtient-on le stationnement du véhicule ? De quel type de freinage s'agit-il ?

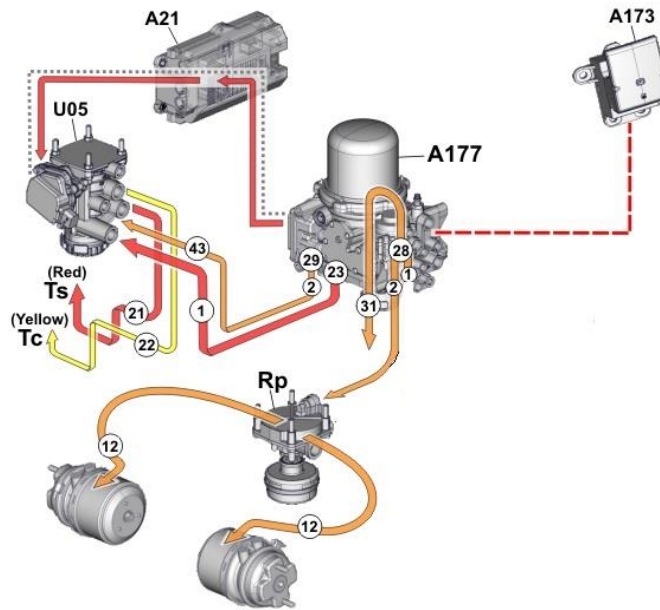
.....

.....

.....

.....

B4.10. Sur le schéma suivant, quels sont les rôles de l'élément « Rp » ?



.....

.....

.....

.....

B4.11. Vous devez déplacer le véhicule dans l'atelier. Vous avez un cylindre de freins arrière de type C, quelle est la procédure pour relâcher mécaniquement le frein de stationnement ?

.....

.....

.....

B4.12. Comment savoir si un cylindre de frein arrière de type C est déverrouillé manuellement ?

.....

B4.13. Quelle précaution est à prendre avant de déverrouiller les cylindres manuellement ?

.....

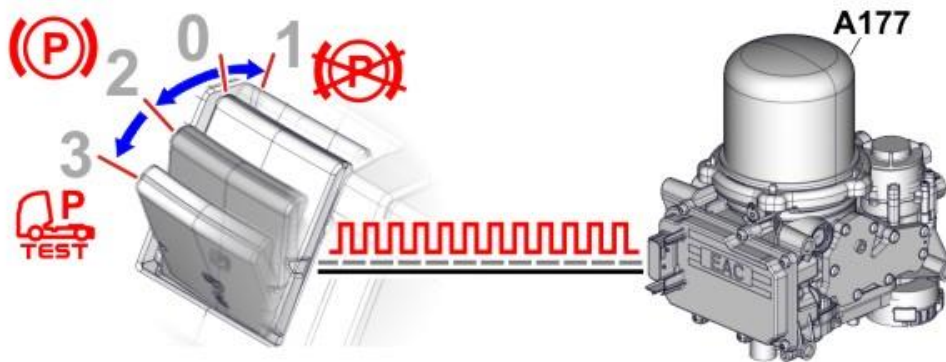
CGM Maintenance des véhicules	Épreuve d'admissibilité	Session 2021	Dossier Travail
Épreuve : Diagnostic - Intervention	Durée : 6 heures	Code sujet : MV	Page 31/48

B5 : Étude électrique

B5.1. À l'aide du *Dossier Ressources*, identifier les éléments suivants :

- A 173 :
- A 177 :
- A 187 :
- A 03 :
- A 21 :
- B 03 :

B5.2. Donner les quatre positions du levier de frein de stationnement.



- 0 :
- 1 :
- 2 :
- 3 :

B5.3. Identifier les 3 fils qui arrivent à la commande du frein de stationnement :

- 1 :
- 2 :
- 3 :

B5.4. Qu'est-ce qu'un Bus LIN ?

.....
.....
.....
.....

CGM Maintenance des véhicules	Épreuve d'admissibilité	Session 2021	Dossier Travail
Épreuve : Diagnostic - Intervention	Durée : 6 heures	Code sujet : MV	Page 32/48

B5.5. Sur les schémas pneumatiques en question B4.7, quelle(s) électrovanne(s) change(nt) d'état ?

En position parpage :

En position déparpage :

B6 - Diagnostic

Vous avez fait ramener le véhicule dans l'atelier. Vous remettez en état les cylindres de freins arrière. Vous placez un manomètre de pression en 11 à l'entrée de l'APM2 et en sortie 28.2.

Les conditions préalables de déverrouillage sont réunies.

Valeurs relevées :

	Entrée APM2 : 11	Sortie APM2 : 28.2
Levier HCU en position 1	12.5 bars	0 bar
Levier HCU en position 2	12.5 bars	0 bar

Valeurs constructeurs :

	Entrée APM2 : 11	Sortie APM2 : 28.2
Levier HCU en position 1	12.5 bars	8 bars
Levier HCU en position 2	12.5 bars	0 bar

B6.1. La valise de diagnostic demande de contrôler à l'aide d'un bornier, branché sur l'APM2, les fils 1, 2 et 3 arrivants du HCU et la masse du véhicule. Compléter le tableau :

HCU en position 0, contact coupé (véhicule hors tension) :

Borne	Valeur trouvée	Résultat bon	Résultat mauvais
1	U = 0 V		
2	R = 0.1 Ω		
3	U = 0 V		

HCU en position 1, conditions préalables réunies, contact mis :

Borne	Valeur trouvée	Résultat bon	Résultat mauvais
1	U = 24,6 V		
2	Ne pas contrôler	x	x
3	U = 24,6 V		

B6.2. La valise de diagnostic demande de contrôler les électrovannes MV3, MV4, MV5 contact coupé sur le véhicule. Compléter le tableau.

Bornes	Électrovanne	Valeur trouvée	Résultat bon	Résultat mauvais
13 - 14	MV3	R = 62 Ω +/- 4		
15 - 16	MV5	R = ∞		
17 - 18	MV4	R = 61.1 Ω +/- 4		

B6.3. Que peut-on déduire après ces contrôles ?

.....

.....

.....

.....

.....

.....

.....

PARTIE C

Diagnostic – Suspension pilotée



Support d'étude

Le système étudié est la suspension pilotée de la Ducati 1200 Multistrada.

Mise en situation professionnelle

Un client vous apporte sa Ducati 1200 multistrada car il se plaint d'un bruit sur sa fourche lors de passage sur routes bosselées et chemins de terre.
De plus, depuis dix jours, le voyant de suspension est allumé en permanence.

CGM Maintenance des véhicules	Épreuve d'admissibilité	Session 2021	Dossier Travail
Épreuve : Diagnostic - Intervention	Durée : 6 heures	Code sujet : MV	Page 35/48

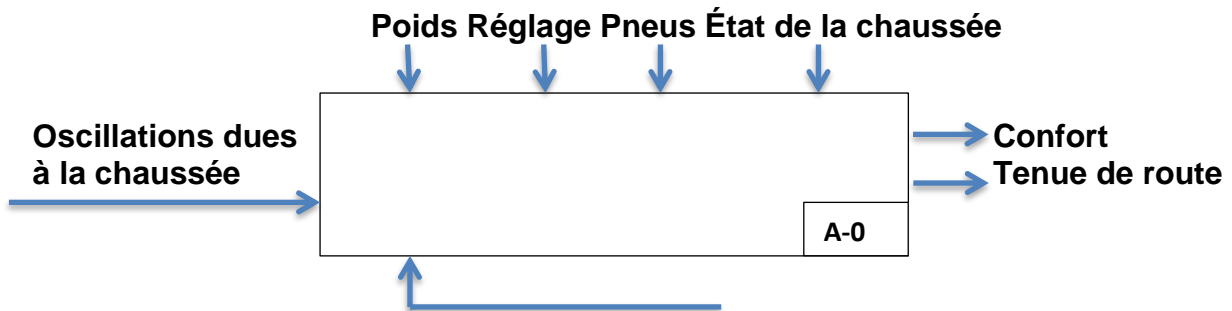
C1 - Introduction

C1.1. Compléter l'ordre de réparation

<i>Ducati HP</i> <i>5 rue de la chicane</i> <i>65000 Tarbes</i>	<h1 style="margin: 0;">ORDRE DE RÉPARATION</h1>	<u>Date :</u> xxxxxxxx	<u>OR N° :</u> 2019001236
Lieu de rédaction : ATELIER		<u>Mécanicien :</u> XXXXXXXXXXXXXXXXXX	
Date de réception :/...../.....		Date de retour prévu : .xxxxxxxxxx...	
Indiquer par des flèches les éventuels sinistres, chocs, rayures du véhicule		<u>Observations (état de la moto) :</u> Fuite fourreau droit fourche : Voyant suspension DES	
			
<u>CLIENT :</u> Nom : <i>Gaillard</i> Prénom : <i>Roger</i> Adresse : <i>75 rue des mimosas</i> <i>65190 Mascaras</i> Téléphone :xxxxxxxxxx <u>SIGNATURE CLIENT :</u> <p style="text-align: center;">XXXXXXXXXXXXXXXXXXXXXX</p>	<b style="text-align: center;"><u>VÉHICULE</u> MATÉRIEL* : <i>SCOOTER MOTO QUAD</i> MARQUE : Type : N° série : Nombre de kilomètres : <i>28403</i> * rayer les mentions inutiles		
<u>TRAVAUX À EFFECTUER :</u> <i>Diagnostic DES</i> <i>Réfection fourche avant</i>			

C2 - Étude du système de suspension

C2.1. Compléter la fonction globale d'une suspension.



C2.2. La suspension arrière est réalisée par un combiné. Donner les deux grands ensembles d'un combiné.

.....

.....

.....

C2.3. Quel est l'intérêt de cette suspension montée sur ce véhicule ?

.....

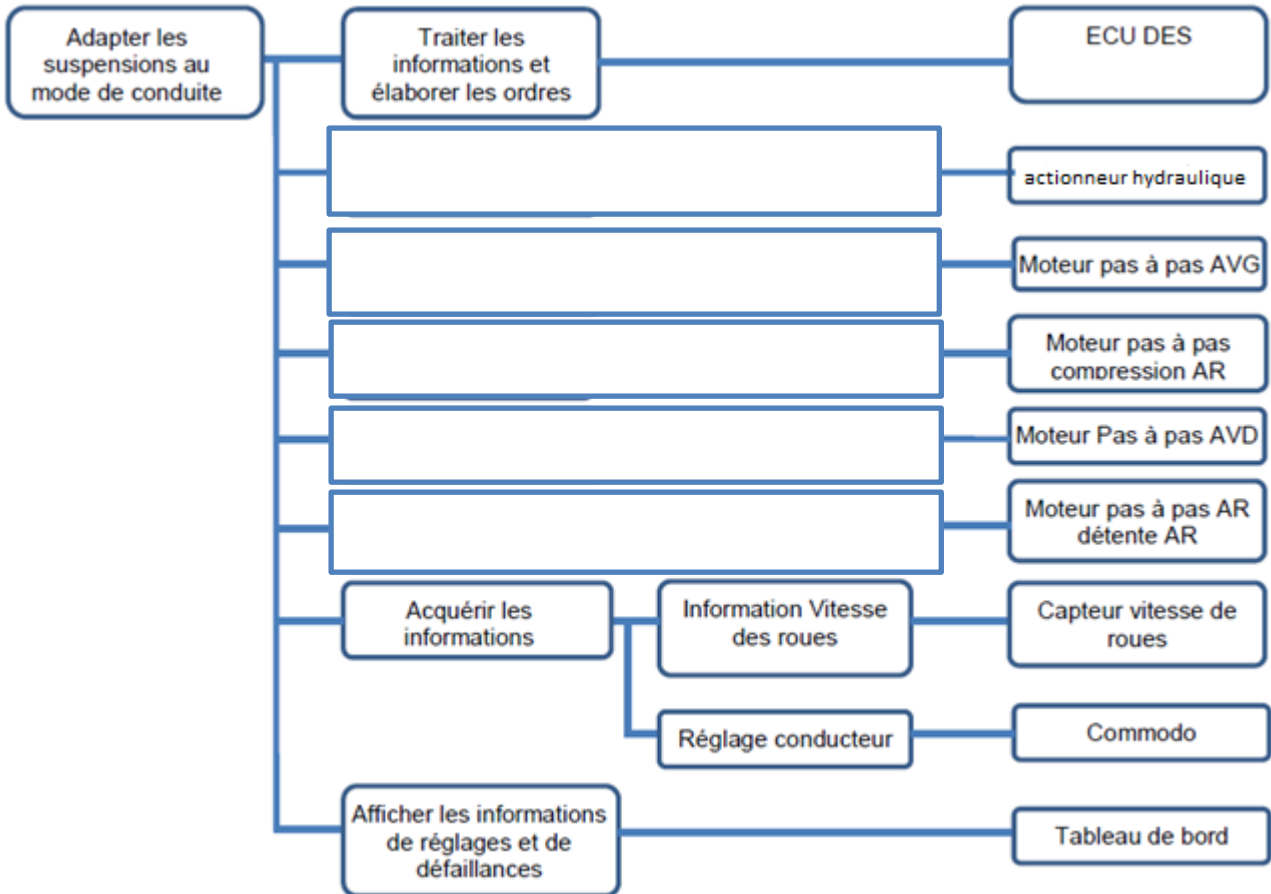
.....

.....

C2.4. Compléter le tableau du système de suspension du véhicule étudié. (Pour les réglages indiquer si c'est électronique ou mécanique).

Suspension avant	Marque	
	Réglages	
Suspension arrière	Marque	
	Réglages	

C2.5. Donner la fonction de service des éléments ci-dessous.



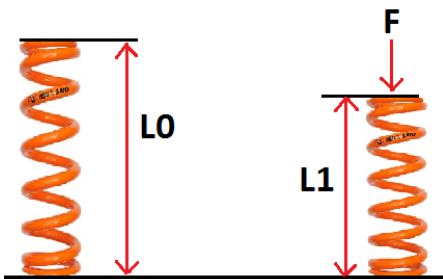
C2.6. Comment est réglée la précontrainte des ressorts de fourche ?

.....

.....

.....

C2.7. Le schéma ci-dessous montre un ressort libre et un ressort précontraint. Calculer la raideur du ressort.



Longueur à vide : 328 mm

Longueur comprimée : 313 mm

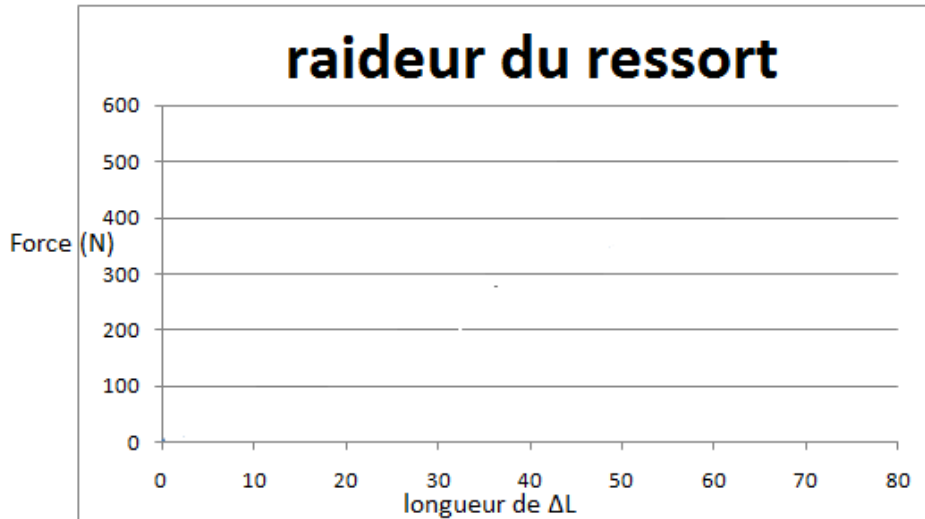
Force : 105 N

.....

.....

.....

C2.8. Tracer la courbe de raideur du ressort.



C2.9. Expliquer pourquoi il y a toujours de l'air ou un gaz dans les amortisseurs de suspensions.

.....

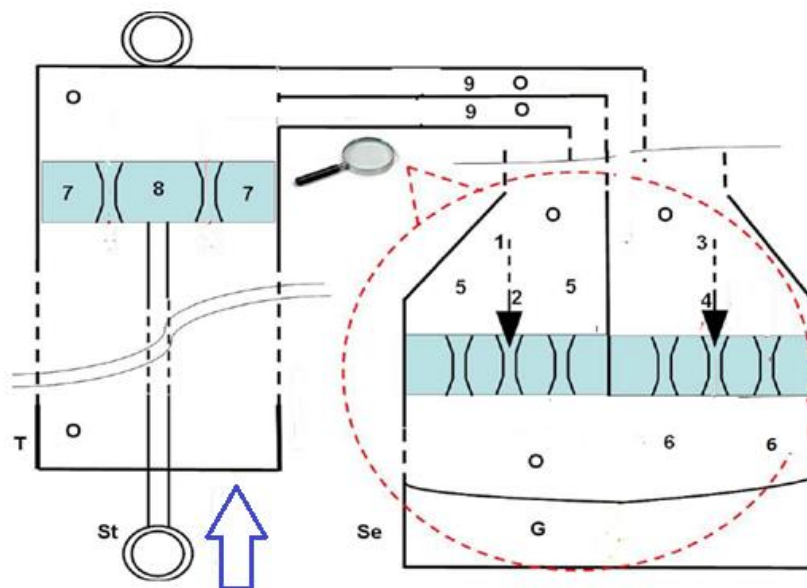
.....

.....

.....

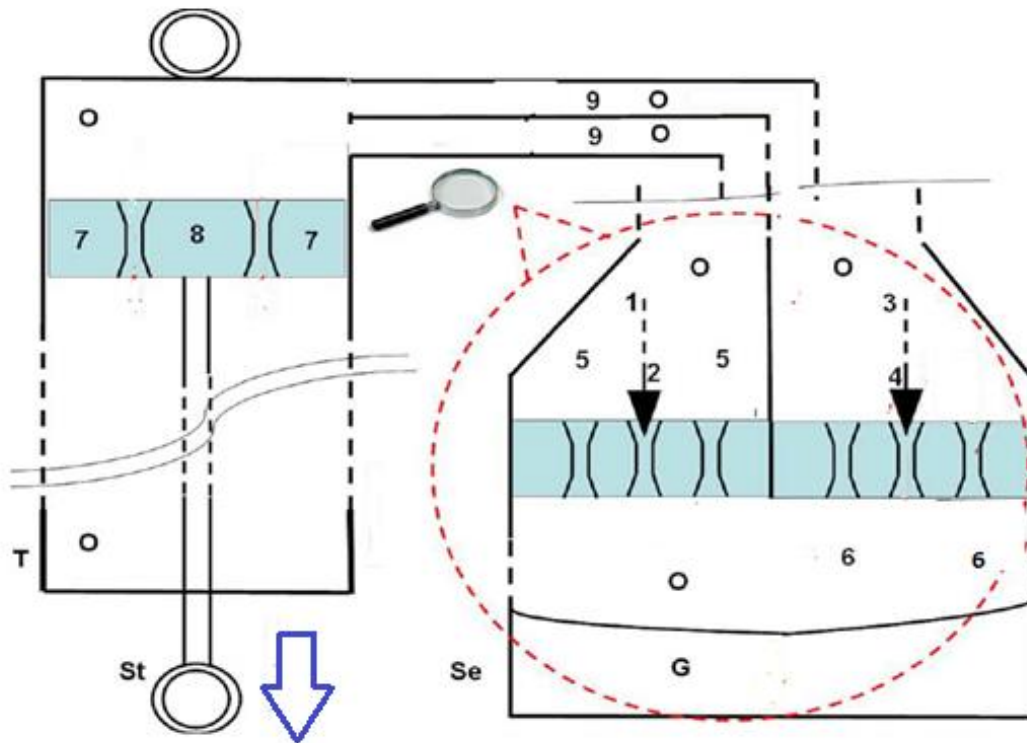
C2.10. Compléter le schéma en dessinant par des flèches rouges le passage de l'huile dans l'amortisseur en fonction de l'action exercée. Dessiner les lamelles compression et détente dans leur position « fermé ou ouvert » ainsi que la vanne unidirectionnelle 9 dans les positions « ouvert ou fermé » sur les deux conduits.

Compression déplacement lent :

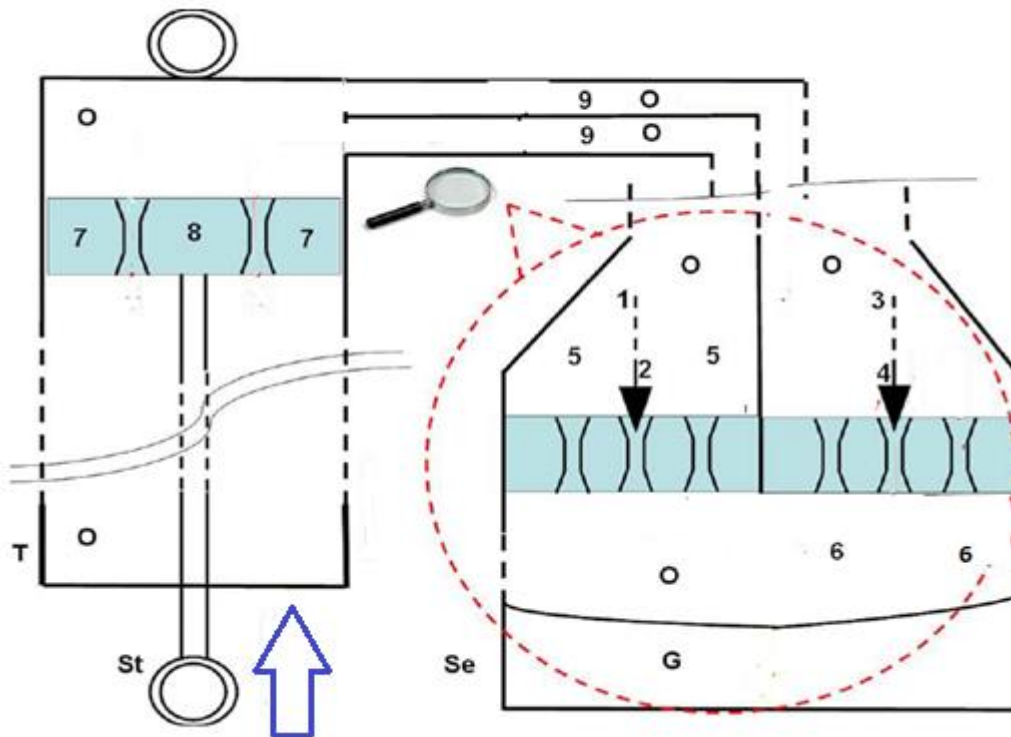


CGM Maintenance des véhicules	Épreuve d'admissibilité	Session 2021	Dossier Travail
Épreuve : Diagnostic - Intervention	Durée : 6 heures	Code sujet : MV	Page 39/48

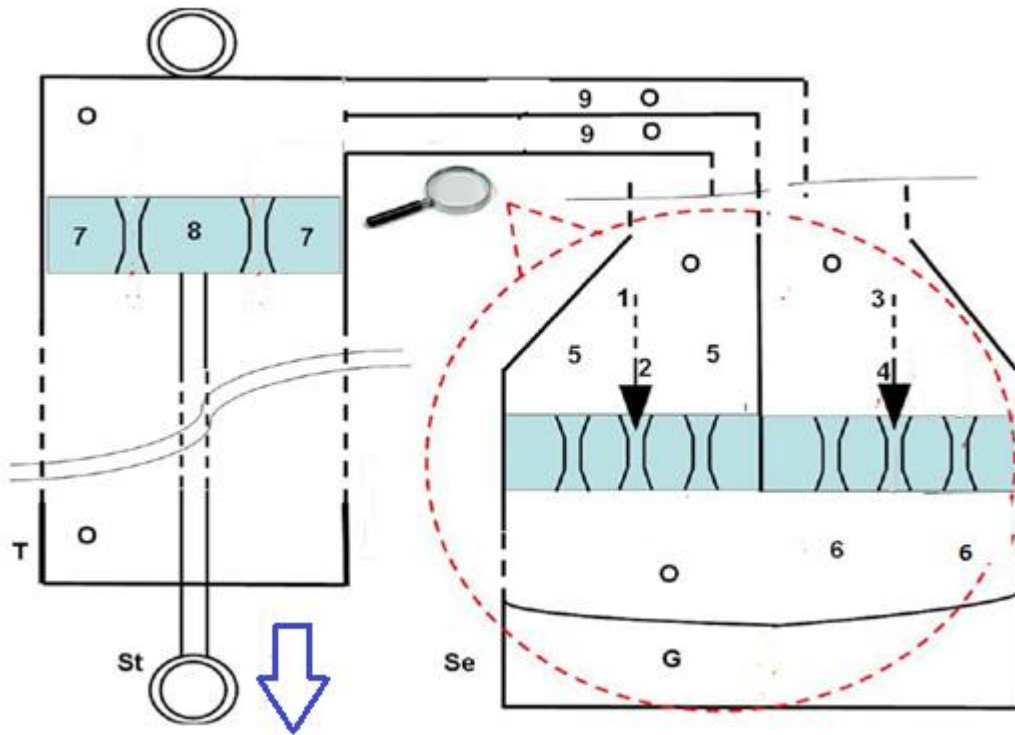
Détente déplacement lent :



Compression déplacement rapide :



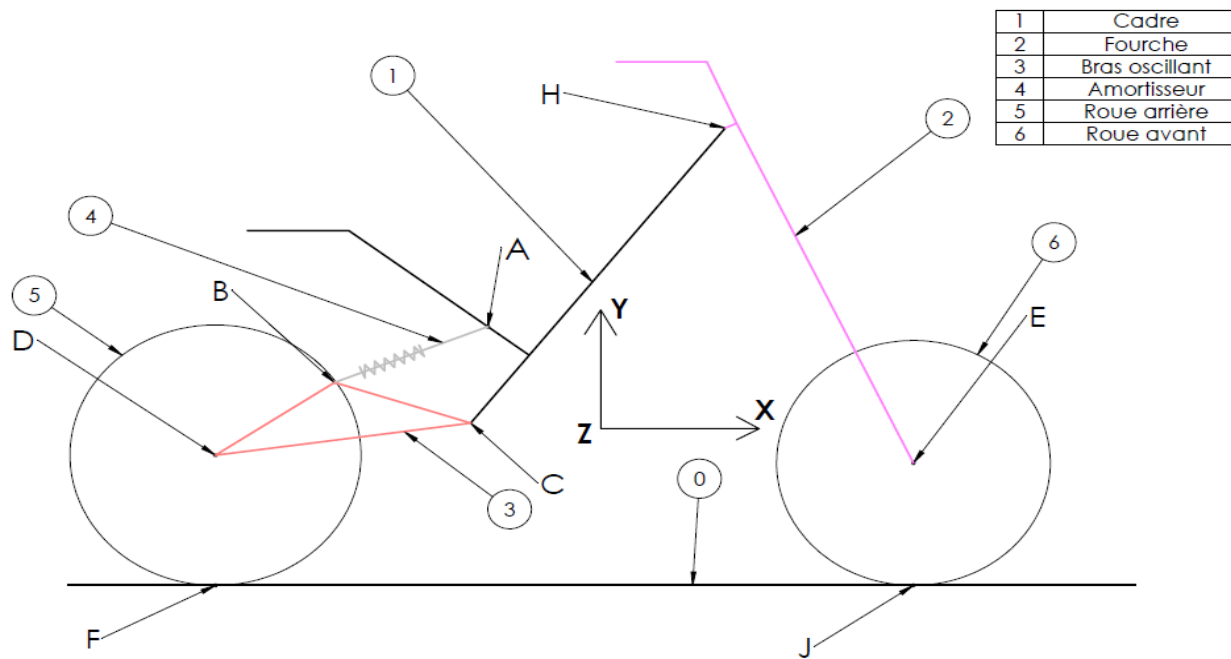
Détente déplacement rapide :



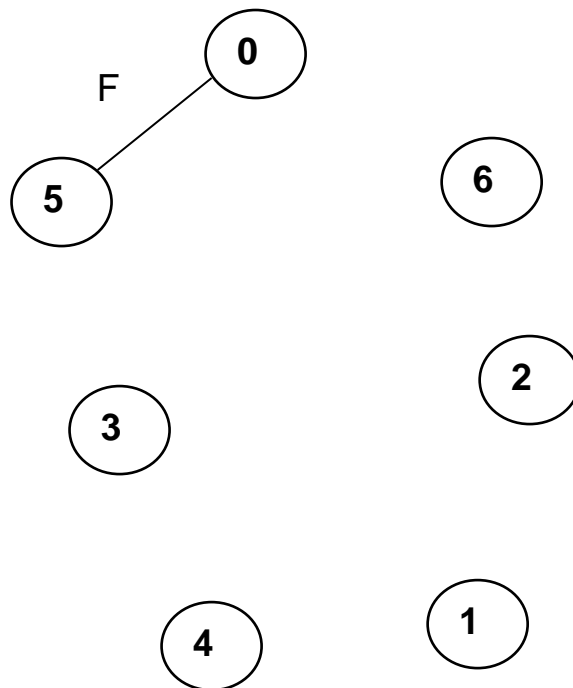
CGM Maintenance des véhicules	Épreuve d'admissibilité	Session 2021	Dossier Travail
Épreuve : Diagnostic - Intervention	Durée : 6 heures	Code sujet : MV	Page 41/48

C3 - Étude mécanique de la suspension

ÉTUDE STATIQUE



C3.1. Réaliser le graphe de contact de la moto.



Données : La masse de la moto $m_1 = 189 \text{ kg}$, la masse du pilote $m_2 = 75 \text{ kg}$.
La répartition des masses de la moto est de 42% sur l'avant.

CGM Maintenance des véhicules	Épreuve d'admissibilité	Session 2021	Dossier Travail
Épreuve : Diagnostic - Intervention	Durée : 6 heures	Code sujet : MV	Page 42/48

C3.2. Donner le principe fondamental de la statique pour un solide soumis à deux forces.

.....

C3.3. Donner le principe fondamental de la statique pour un solide soumis à trois forces.

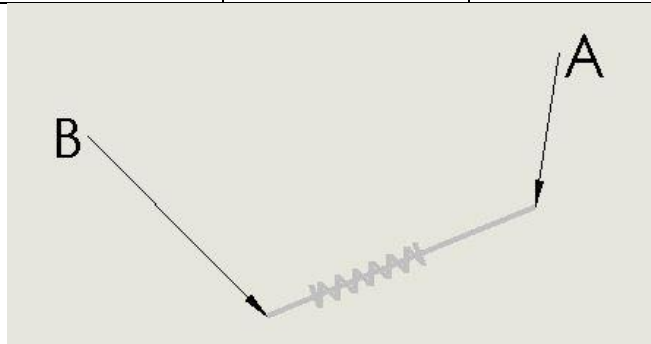
.....

C3.4. Isoler l'amortisseur 4, rechercher les forces A 1/4 et B 3/4.




Faire le bilan des forces extérieures :

Point d'application				

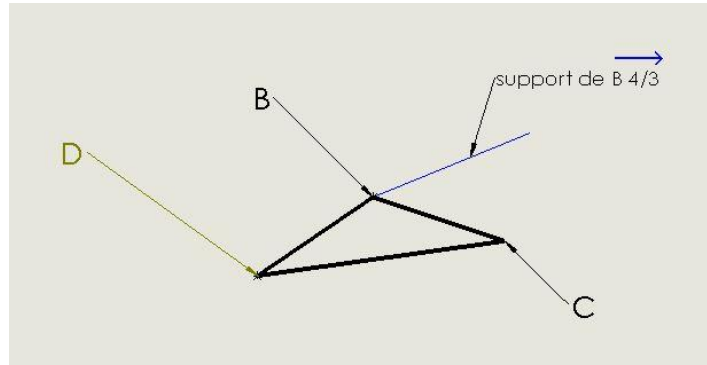


C3.5. Isoler le bras oscillant 3, rechercher les forces C 1/3 et B 4/3, D 5/3.



Faire le bilan des forces extérieures :

Nom	Point d'application	Direction	Sens	Intensité



Réalisation du dynamique des forces sur cette page.

Espace pour les calculs :

.....

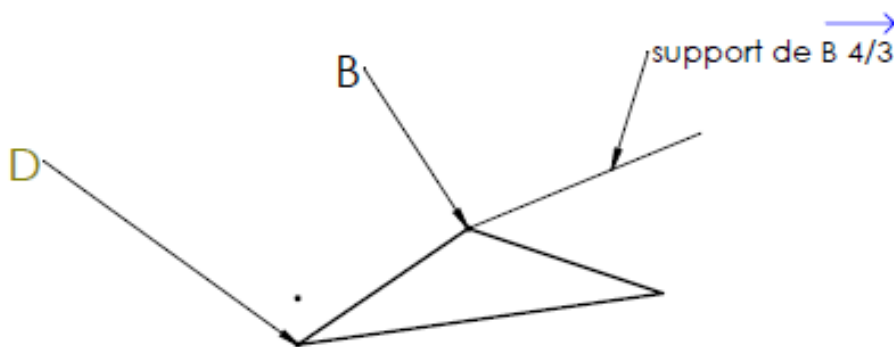
.....

.....

.....

.....

Echelle = 1 mm = 30 N



CGM Maintenance des véhicules	Épreuve d'admissibilité	Session 2021	Dossier Travail
Épreuve : Diagnostic - Intervention	Durée : 6 heures	Code sujet : MV	Page 44/48

C4 - Intervention

C4.1. L'afficheur du tableau de bord indique « DES rear comp ».

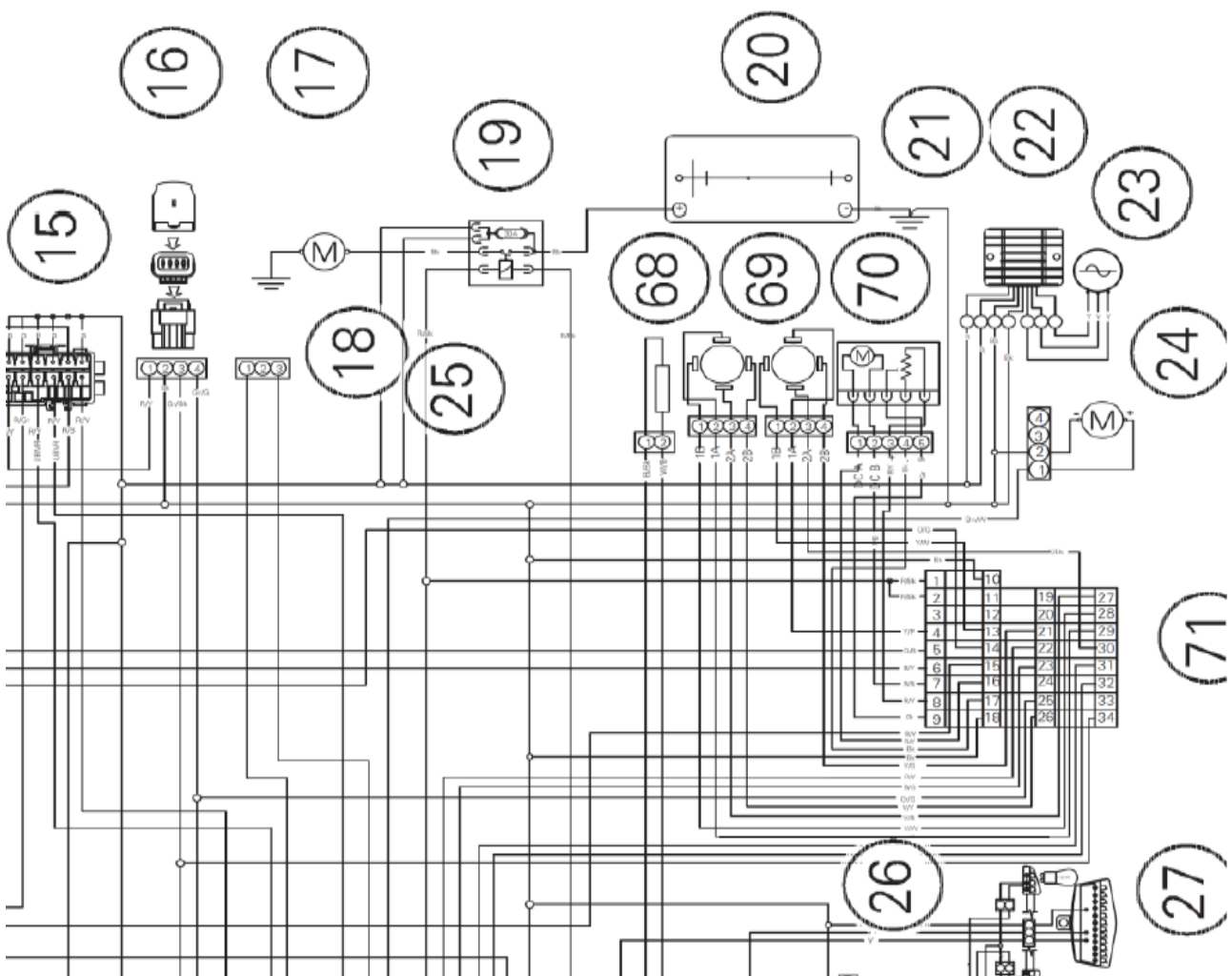
Donner la signification de ce défaut et donner les hypothèses de ce défaut.

.....

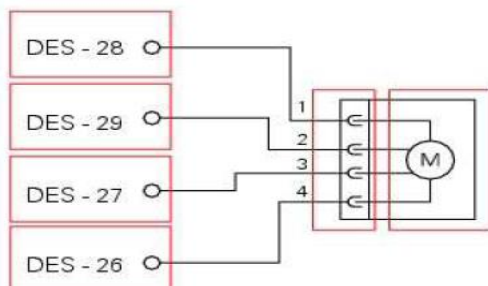
.....

.....

C4.2. Entourer sur le schéma électrique l'élément d'où provient le défaut et surligner en bleu le câblage de l'élément jusqu'au calculateur.



Zoom du
moteur 68 relié
au calculateur
71



CGM Maintenance des véhicules	Épreuve d'admissibilité	Session 2021	Dossier Travail
Épreuve : Diagnostic - Intervention	Durée : 6 heures	Code sujet : MV	Page 45/48

C4.3. Le schéma du bas de la page précédente représente l'élément relié au calculateur. Compléter le tableau des mesures ci-dessous et déterminer d'où vient la panne.

Mesure	Outil utilisé	Condition de mesure	Valeur attendue	Valeur mesurée	Résultat
Résistance bobine 1 moteur compression		Connecteur moteur débranché, mesure entre borne 4 et 1 moteur compression	De 47 à 55 Ω	50.40 Ω	
Résistance bobine 2 moteur compression		Connecteur moteur débranché, mesure entre borne 2 et 3 moteur compression	De 47 à 55 Ω	50.65 Ω	
Continuité liaison calculateur moteur compression		Connecteurs débranché, mesure entre borne 4 connecteur moteur et borne 26 calculateur DES		0 Ω	
Continuité liaison calculateur moteur compression		Connecteurs débranché, mesure entre borne 3 connecteur moteur et borne 27 calculateur DES		0 Ω	
Continuité liaison calculateur moteur compression		Connecteurs débranché, mesure entre borne 2 connecteur moteur et borne 29 calculateur DES		50 Ω	
Continuité liaison calculateur moteur compression		Connecteurs débranché, mesure entre borne 1 connecteur moteur et borne 28 calculateur DES		23 Ω	

Panne relevée :

En regardant de plus près, vous vous apercevez que c'est le connecteur qui est oxydé suite à la présence d'humidité et de saletés en raison du pilotage dans des chemins de terre. Vous nettoyez le connecteur et les valeurs de continuité des fils sont de 0 Ω.

C4.4. Lister les outils spécifiques pour réaliser la révision de la fourche.

.....

.....

.....

.....

.....

C4.5. Avant d'intervenir sur la révision de la fourche, entourer les équipements de protections nécessaires.



E0011



E0020



E0057



E0032



E0033



E0037



E0028



E0025



E0039

CGM Maintenance des véhicules	Épreuve d'admissibilité	Session 2021	Dossier Travail
Épreuve : Diagnostic - Intervention	Durée : 6 heures	Code sujet : MV	Page 47/48

C4.6. Vous venez de passer 6 heures pour la réfection des suspensions. Lors de ce travail, les bagues de coulissements étaient marquées. Le diagnostic a duré 2 heures.
Compléter la facture.

Description	Référence	Quantité / temps	Prix unitaire TTC	TOTAL TTC
Pièces, consommables :				
Main d'œuvre :	Taux			
Diagnostic	T3	2h00	60€	
Révision fourche + réparation faisceau	T2	6h15	55€	

Signature du client (précédée de la mention « Bon pour accord »)
XXXXXXXXXXXXXXXXXXXXXXXXXX

Total TVA **XXXXXXXXX**
€
Total HT **XXXXXXXXX**
€

TOTAL TTC