



MATHÉMATIQUES

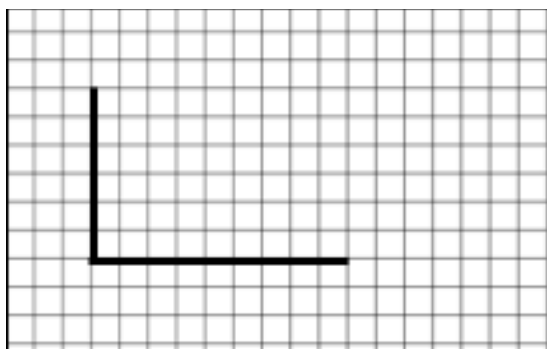
Construction

Rectangle et carré sur papier quadrillé


Exercice

Termine à main levée (sans la règle), le tracé des différentes figures demandées

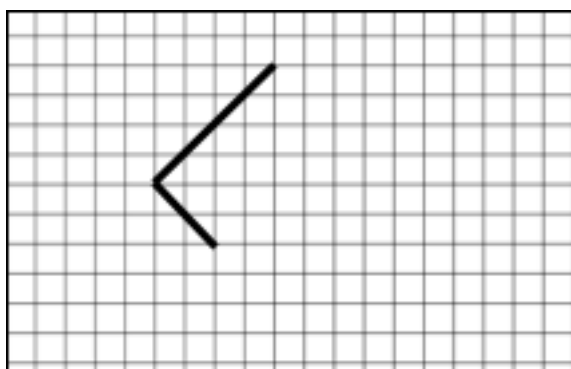
un rectangle



un carré



un carré



Consigne de correction

Niveau	Éléments d'évaluation
2	Figure 1 : un quadrilatère avec 4 angles droits est tracé.
3	Figure 1 : un quadrilatère avec 4 angles droits est tracé. Figure 2 : un quadrilatère avec 4 angles droits et 4 côtés de même longueur est tracé. ou Figure 1 : un quadrilatère avec 4 angles droits est tracé. Figure 3 : un quadrilatère avec 4 angles droits et 4 côtés de même longueur est tracé.
4	Figure 1 : un quadrilatère avec 4 angles droits est tracé. Figure 2 : un quadrilatère avec 4 angles droits et 4 côtés de même longueur est tracé Figure 3 : un quadrilatère avec 4 angles droits et 4 côtés de même longueur est tracé.

Retrouvez Éduscol sur

