

QUESTIONNAIRE DE VALIDATION

DU

CENTRE D'INTERET 3 :


Question 1 :

Remplissez les valeurs des angles dans le tableau.

Valeurs en degrés	Valeur en minutes
1°	
	15'
1°20'	


Question 2 :

Quels sont les angles représentés sur ces images ?



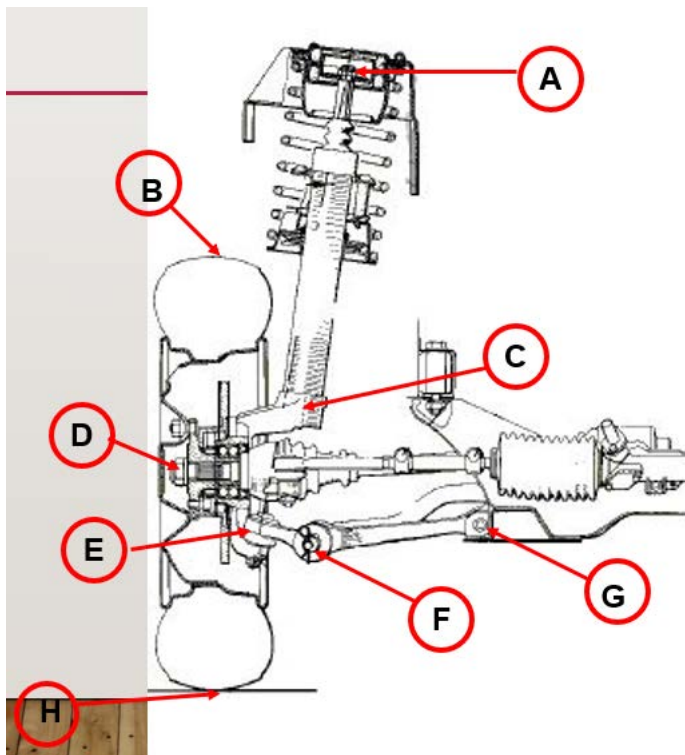
Question 3 :

Quels sont les deux points qui permettent de mesurer l'angle de pivot ?




Question 4 :

Sur ce demi-train avant, localisez les deux points qui permettent de calculer l'angle de chasse.



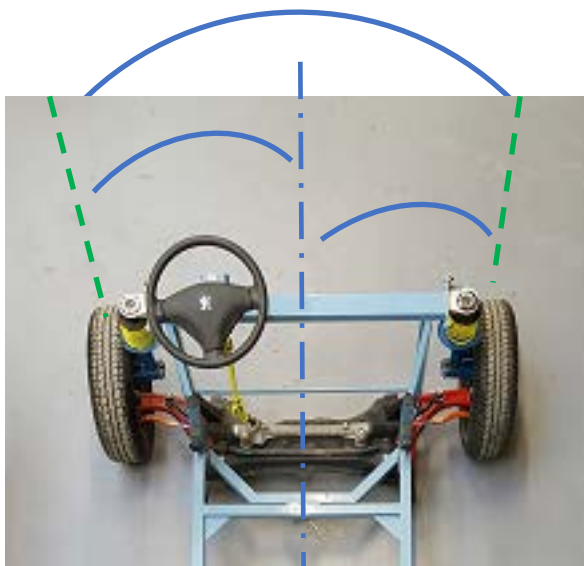
Question 5 :

Quel angle est représenté par cette image ?



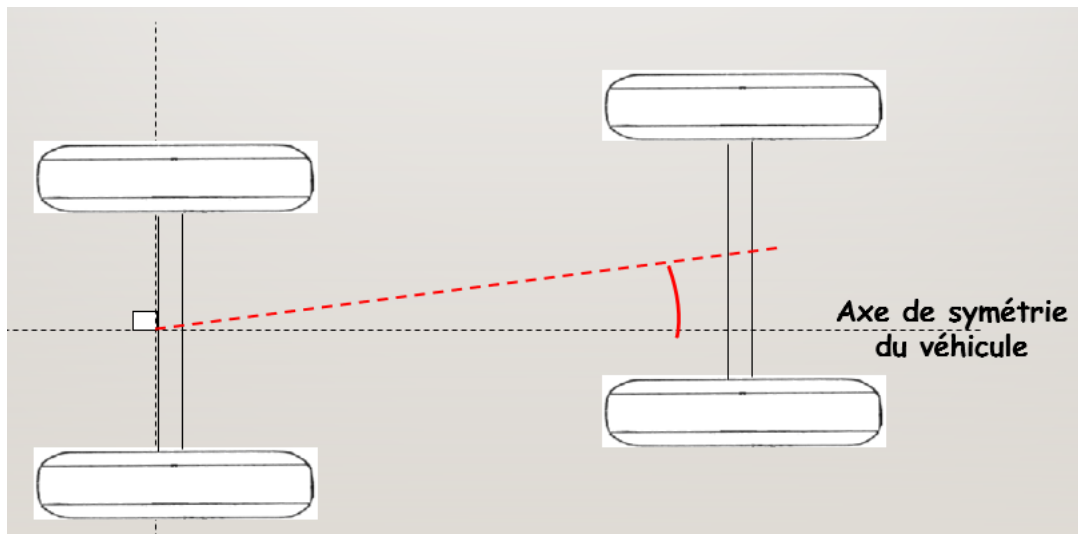
Question 6 :

Indiquez si cet angle est positif ou négatif.



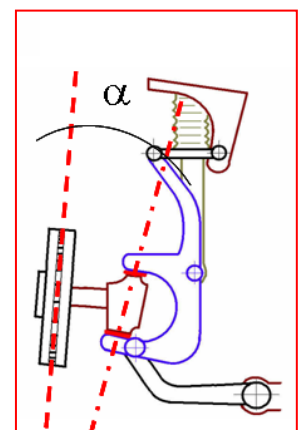
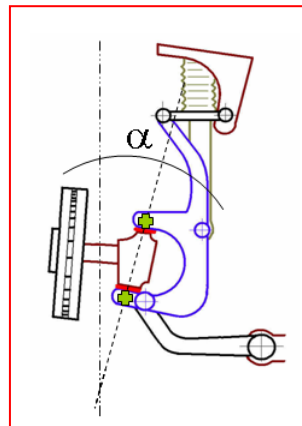
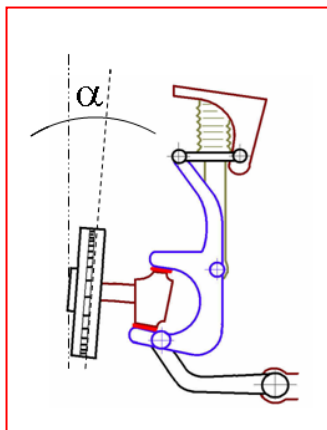
Question 7 :

Quel est l'angle représenté sur ce graphique ?



Question 8 :

Indiquez pour chaque schéma le nom de l'angle représenté.



Question 9 :

Lors d'un relevé des angles d'un train AV, les angles inclus AVD et AVG n'indiquent pas la même valeur : AVD 7°33 - AVG 4°02.

Quelle est la pièce mécanique que je dois remplacer ?