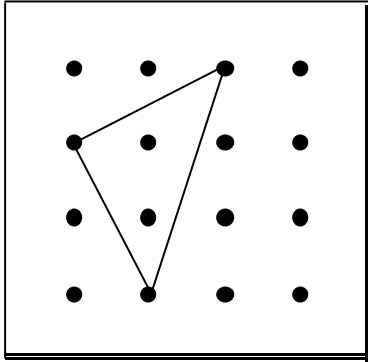



Planchettes à 16 clous

- Déterminer la mesure de l'aire du triangle ci-dessous.




Aire du triangle : _____

- Déterminer sur une planchette à 16 clous:
 - un autre triangle de même aire



un carré dont l'aire est 4



- un carré dont l'aire est 10.

